



แบบทดสอบ

โครงการทดสอบวัดความรู้ระดับชั้นประถมศึกษา ครั้งที่ 5
(Benjamarachalai Pre-test M.1) ห้องทั่วไป
วันเสาร์ที่ 21 ธันวาคม 2567 เวลา 09.00 น. - 12.00 น.

ชื่อ-นามสกุล.....
เลขที่นั่งสอบ.....ห้องสอบ.....

คำชี้แจง

1. แบบทดสอบฉบับนี้ มี 5 วิชา รวม 140 ข้อ เวลาในการทำข้อสอบ 180 นาที
 วิชาคณิตศาสตร์ จำนวน 20 ข้อ (ข้อ 1-20)
 วิชาวิทยาศาสตร์ จำนวน 30 ข้อ (ข้อ 21-50)
 วิชาภาษาอังกฤษ จำนวน 30 ข้อ (ข้อ 51-80)
 วิชาภาษาไทย จำนวน 30 ข้อ (ข้อ 81-110)
 วิชาสังคมศึกษา จำนวน 30 ข้อ (ข้อ 111-140)
2. ให้เขียนชื่อ-นามสกุล เลขที่นั่งสอบ วิชาที่สอบ และห้องสอบ ด้วยปากกาในกระดาษคำตอบ พร้อมทั้งระบายเลขที่นั่งสอบ ด้วยดินสอดำเบอร์ 2B ทับตัวเลขในวงกลม ให้ตรงกับตัวเลขที่เขียน
3. ในการตอบให้ใช้ดินสอดำเบอร์ 2B ระบายวงกลมตัวเลือกในกระดาษคำตอบให้เต็มวง (ห้ามระบายนอกวง) ในแต่ละข้อที่มีคำตอบที่ถูกต้อง หรือเหมาะสมที่สุดเพียงคำตอบเดียว
4. ไม่อนุญาตให้ผู้เข้าสอบนำเครื่องมือสื่อสาร อุปกรณ์อิเล็กทรอนิกส์ทุกประเภทเข้าห้องสอบ หากพบการกระทำใดที่เข้าข่ายการทุจริต จะตัดสิทธิ์ในการเข้าสอบทันที

เอกสารนี้เป็นเอกสารสงวนสิทธิ์ของโรงเรียนเบญจมราชาลัย ในพระบรมราชูปถัมภ์
ห้ามเผยแพร่ ทำซ้ำ ดัดแปลง อ้างอิง หรือเฉลย ก่อนได้รับอนุญาต

ข้อสอบ PRE-TEST ม.1 (ห้องเรียนทั่วไป) วิชาคณิตศาสตร์

1. ผลลัพธ์ของ $(7,021 \times 13) + (278,462 - 143,867)$

- 1) 225,868
- 2) 226,868
- 3) 225,858
- 4) 226,858

2. สหรัฐสนใจซื้อบ้านเดี่ยวราคา 5.8 ล้านบาท แต่เขยี่ยกู้ธนาคารได้เพียง 3.75 ล้านบาท สหรัฐต้องการเงินเพิ่มอีกอย่างน้อยกี่บาทจึงจะสามารถมีเงินซื้อบ้านหลังนี้ได้พอดี

- 1) 9,550,000 บาท
- 2) 2,500,000 บาท
- 3) 2,050,000 บาท
- 4) 2,005,000 บาท

3. กำหนดให้การดำเนินการทางคณิตศาสตร์ ดังรูปที่ 1 และรูปที่ 2

$$\begin{array}{r} 23 \\ A5 \times \\ \hline 115 \\ 23 \\ \hline 3B5 \end{array}$$

รูปที่ 1

$$\begin{array}{r} C7 \\ 5 \overline{)85} \\ \underline{5} \\ 35 \\ \underline{35} \\ D \end{array}$$

รูปที่ 2

พิจารณารูปที่ 1 และรูปที่ 2 ค่าของ $A + B + C + D$ ตรงกับข้อใด

- 1) 4
- 2) 5
- 3) 6
- 4) 7

4. การหาผลลัพธ์ในข้อใดได้คำตอบแตกต่างจากข้ออื่น

- 1) $8 + (9 \times 3) - 2$
- 2) $(19 - 8) \times (9 \div 3)$
- 3) $(25 \times 5) - 92$
- 4) $3 + 9 + (3 \times 9)$

ข้อสอบ PRE-TEST ม.1 (ห้องเรียนทั่วไป) วิชาคณิตศาสตร์

5. กำหนดให้ $A = 9$, $B = 12$ และ $C = 7$ ค่าของ $\frac{A+B+C}{C}$ มีค่าตรงกับข้อใด

- 1) 4
- 2) 8
- 3) 12
- 4) 16

6. ทิชาวางแผนไปเที่ยวรัฐ Alaska กับครอบครัว โดยเมื่อไปถึงทิชาต้องปรับนาฬิกาให้เป็นเวลาที่ตรงกับ Alaska ซึ่งเวลาที่ Alaska จะช้ากว่าประเทศไทย 16 ชั่วโมง ถ้าทิชาไปถึง Alaska วันที่ 15 ธันวาคม 2567 เวลา 15.00 น. เวลาประเทศไทย จะต้องปรับนาฬิกาเป็นวันและเวลาใดของ Alaska

- 1) วันที่ 14 ธันวาคม 2567 เวลา 00.00 น. เวลาที่ Alaska
- 2) วันที่ 14 ธันวาคม 2567 เวลา 23.00 น. เวลาที่ Alaska
- 3) วันที่ 15 ธันวาคม 2567 เวลา 00.00 น. เวลาที่ Alaska
- 4) วันที่ 15 ธันวาคม 2567 เวลา 23.00 น. เวลาที่ Alaska

7. กำหนดให้ $W = 1\frac{8}{7} + \frac{6}{7}$ และ $E = 1\frac{1}{3}$ ค่าของ $W \div E$ ตรงกับข้อใด

- 1) 4
- 2) $\frac{7}{3}$
- 3) $\frac{4}{9}$
- 4) $\frac{9}{4}$

ข้อสอบ PRE-TEST ม.1 (ห้องเรียนทั่วไป) วิชาคณิตศาสตร์

8. กำหนดให้

$$1 * 1 = 2$$

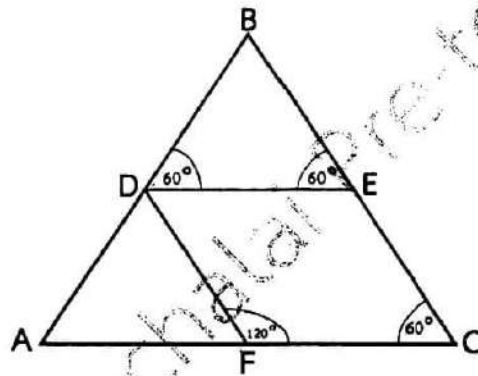
$$5 \blacklozenge 3 = 2$$

$$10 \clubsuit 5 = 2$$

ค่าของ $(3.14 * 0.86) \clubsuit (7.98 \blacklozenge 5.98)$ ตรงกับข้อใด

- 1) 2
- 2) 4
- 3) 6
- 4) 8

9. พิจารณารูปที่กำหนดให้



มุม EDF มีขนาดกี่องศา

- 1) 30 องศา
- 2) 60 องศา
- 3) 90 องศา
- 4) 120 องศา

ข้อสอบ PRE-TEST ม.1 (ห้องเรียนทั่วไป) วิชาคณิตศาสตร์

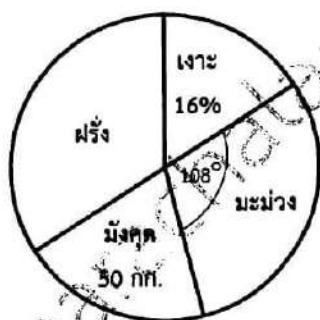
10. ตารางแสดงจำนวนนักเรียนที่สอบผ่าน ดังตาราง

วิชา	จำนวนนักเรียน (คน)
วิทยาศาสตร์	20
คณิตศาสตร์	15
ภาษาไทย	35
สังคมศึกษา	50

จากตารางข้างต้นวิชาที่มีจำนวนนักเรียนสอบผ่านน้อยที่สุดคิดเป็นกี่เปอร์เซ็นต์ของจำนวนรวมทั้งหมด

- 1) ร้อยละ 12.5
- 2) ร้อยละ 20
- 3) ร้อยละ 15.5
- 4) ร้อยละ 35

11. กำหนดแผนภูมิวงกลมแสดงจำนวนผลไม้ที่ขายได้ จำนวน 250 กิโลกรัม ดังนี้



จำนวนฝรั่งที่ขายได้ ต่างจากจำนวนเงาะที่ขายได้อยู่กี่กิโลกรัม

- 1) 45 กิโลกรัม
- 2) 35 กิโลกรัม
- 3) 25 กิโลกรัม
- 4) 15 กิโลกรัม

ข้อสอบ PRE-TEST ม.1 (ห้องเรียนทั่วไป) วิชาคณิตศาสตร์

12. เด็ก 5 คน กินข้าวหมด 25 จาน ใน 1 สัปดาห์ ถ้ามีเด็ก 7 คน จำนวนจานข้าวที่กินหมดใน 1 สัปดาห์คือเท่าใด
- 1) 30 จาน
 - 2) 35 จาน
 - 3) 40 จาน
 - 4) 45 จาน

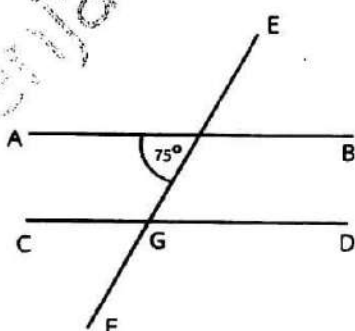
13.

นิภา กับ นิดา นำขนมบรรจุถุงเพื่อนำไปขายที่ตลาด นิภาบรรจุถุงได้ 12 ถุง นิดาบรรจุได้ 21 ถุง โดยขายได้ถุงละ 20 บาท

ข้อใดกล่าวถูกต้อง

- 1) นิภา ได้รับเงินจากการขายมากกว่านิดา 180 บาท
 - 2) นิภา ได้รับเงินจากการขายมากกว่านิดา 80 บาท
 - 3) นิดา ได้รับเงินจากการขายมากกว่านิภา 180 บาท
 - 4) นิดา ได้รับเงินจากการขายมากกว่านิภา 420 บาท
14. นักเรียนสอบวิชาคณิตศาสตร์ได้ 36 คะแนน จากคะแนนเต็ม 40 คะแนน คิดเป็นร้อยละเท่าใด
- 1) ร้อยละ 90
 - 2) ร้อยละ 80
 - 3) ร้อยละ 70
 - 4) ร้อยละ 60

15. จากรูป ถ้ากำหนดให้ \overline{AB} ขนานกับ \overline{CD} แล้ว ขนาดของมุม CGE ตรงกับข้อใด



- 1) 60 องศา
- 2) 75 องศา
- 3) 90 องศา
- 4) 105 องศา

ข้อสอบ PRE-TEST ม.1 (ห้องเรียนทั่วไป) วิชาคณิตศาสตร์

16. ถ้าเส้นผ่านศูนย์กลางของวงกลมวงหนึ่งยาว 14 เซนติเมตร แล้วความยาวของเส้นรอบวงนี้ตรงกับข้อใด

(กำหนดให้ $\pi = \frac{22}{7}$)

- 1) 44 เซนติเมตร
- 2) 88 เซนติเมตร
- 3) 154 เซนติเมตร
- 4) 616 เซนติเมตร

17. ทรงเรขาคณิตข้อใดมีหน้าตัดไม่เป็นรูปวงกลม

- 1) กรวย
- 2) พีระมิด
- 3) ทรงกลม
- 4) ทรงกระบอก

18. ทรงสี่เหลี่ยมมุมฉากมีความกว้าง 4 เซนติเมตร ความยาว 6 เซนติเมตร และความสูง 10 เซนติเมตร ปริมาตรของทรงสี่เหลี่ยมมุมฉากนี้เท่ากับข้อใด

- 1) 200 ลูกบาศก์เซนติเมตร
- 2) 220 ลูกบาศก์เซนติเมตร
- 3) 240 ลูกบาศก์เซนติเมตร
- 4) 260 ลูกบาศก์เซนติเมตร

19. ในแบบรูปตัวเลข 2, 5, 10, 17, 26, ... ลำดับที่ 8 ของแบบรูปตรงกับข้อใด

- 1) 37
- 2) 50
- 3) 65
- 4) 77

20. กำหนดแบบรูป ดังนี้

2, 7, 4, 9, 6, 10, 2, 7, 4, 9, 6, 10, ...

จำนวนที่อยู่ในลำดับที่ 54 คือจำนวนใด

- 1) 2
- 2) 4
- 3) 6
- 4) 10

ข้อสอบ PRE-TEST ม.1 (ห้องเรียนทั่วไป) วิชาวิทยาศาสตร์

21. ของผสมชนิดหนึ่งประกอบด้วย เกลือ ผงขอล์ก และเศษเหล็ก ถ้านักเรียนต้องการแยกสารนี้
จงเรียงลำดับขั้นตอนการแยกสารตามลำดับ





A = ใช้แม่เหล็กดูด B = ระเหย C = ร่อน D = หยิบออก E = ละลายและกรอง

- 1) A E และ B
- 2) A C และ E
- 3) A D และ E
- 4) A C และ D

22. ข้อใดจับคู่การแยกวิธีการและสารที่ต้องแยกไม่ถูกต้อง

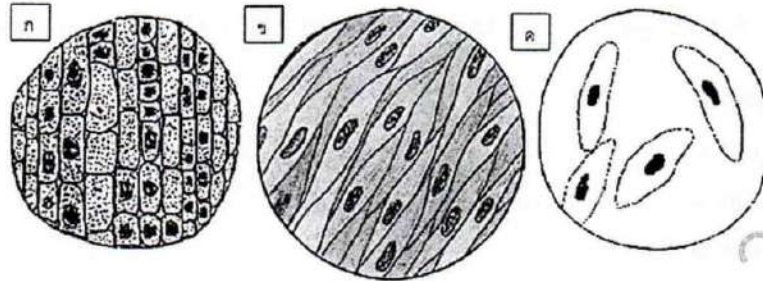
- 1) การระเหยแห้ง - การทำนาเกลือ
- 2) การกลั่นอย่างง่าย - การกลั่นน้ำมันดิบ
- 3) โครมาโทกราฟี - วิเคราะห์สารอินทรีย์ในน้ำยาย้อมสีผม
- 4) การกลั่นด้วยไอน้ำ - สกัดน้ำมันหอมระเหยจากพืช

23. เมื่อใช้กล้องจุลทรรศน์ส่องตัวอักษร "น" นักเรียนจะเห็นภาพแบบใด

1. 
 2. 
 3. 
 4. 
- 1) ภาพที่ 1 2) ภาพที่ 2 3) ภาพที่ 3 4) ภาพที่ 4

ข้อสอบ PRE-TEST ม.1 (ห้องเรียนทั่วไป) วิชาวิทยาศาสตร์

24. จากภาพข้อใดกล่าวได้ถูกต้อง



- 1) ก คือเซลล์สากห่วยทางกระรอก ข คือเซลล์เยื่อหุ้ม ค คือพารามีเซียม
 2) ก คือเซลล์สากห่วยทางกระรอก ข คือเซลล์เยื่อหุ้ม ค คือไฮดรา
 3) ก คือเซลล์ว่อกาบหอย ข คือเซลล์เยื่อข้กักแ้ม ค คือไฮดรา
 4) ก คือเซลล์ว่อกาบหอย ข คือเซลล์กล้มเนื้อ ค คือพารามีเซียม

25. ข้อใดเรียงลำดับการจัดระบบสิ่งมีชีวิตจากเล็กไปใหญ่ได้ถูกต้อง

- 1) เซลล์ --> อวัยวะ --> ระบบอวัยวะ --> เนื้อเยื่อ --> สิ่งมีชีวิต
 2) อวัยวะ --> ระบบอวัยวะ --> เนื้อเยื่อ --> เซลล์ --> สิ่งมีชีวิต
 3) เซลล์ --> เนื้อเยื่อ --> อวัยวะ --> ระบบอวัยวะ --> สิ่งมีชีวิต
 4) เนื้อเยื่อ --> ระบบอวัยวะ --> อวัยวะ --> เซลล์ --> สิ่งมีชีวิต

26. ข้อใดกล่าวถูกต้องเกี่ยวกับการปฏิกริยาเคมี

- 1) ปฏิกริยาของกรดกับเบส - การสร้างอาหารของพืช
 2) ปฏิกริยาของเบสกับโลหะ - การแก้ปัญหาดินเปรี้ยว
 3) ปฏิกริยากรดกับโลหะ - การฟุ่ร่อนของหลังคาสังกะสี
 4) การเกิดฝนกรด - การใช้แก๊สหุงต้มในการประกอบอาหาร

ข้อสอบ PRE-TEST ม.1 (ห้องเรียนทั่วไป) วิชาวิทยาศาสตร์

27. วัสดุ A B และ C มีลักษณะดังนี้

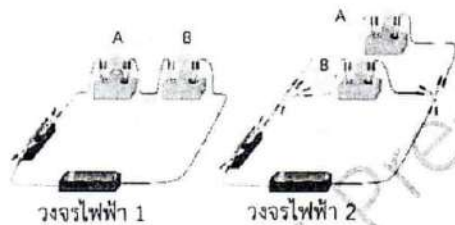
A - ยืดหยุ่นได้ดี สามารถคืนตัว เบาแต่แข็งแรง

B - ทนต่อความร้อน ไม่ยืดหยุ่น ทนต่อการสึกกร่อน ไม่นำไฟฟ้า

C - แข็ง เหนียว ทำให้เป็นแผ่นและทำเป็นรูปร่างต่างๆได้ นำความร้อน

- | | | |
|------------------|---------------|---------------|
| 1) A - พอลิเมอร์ | B - เซรามิก | C - โลหะ |
| 2) A - โลหะ | B - เซรามิก | C - พอลิเมอร์ |
| 3) A - โลหะ | B - พอลิเมอร์ | C - เซรามิก |
| 4) A - เซรามิก | B - โลหะ | C - พอลิเมอร์ |

28. จากภาพวงจรไฟฟ้า 1 และ 2 ซึ่งมีหลอดไฟฟ้า A และ B ติดสว่างอยู่ ถ้าหลอดไฟฟ้า A ในแต่ละวงจรดับ หลอดไฟฟ้า B ในแต่ละวงจรจะเป็นอย่างไร



- | | |
|-------------------------|----------------------|
| 1) วงจรไฟฟ้าที่ 1 สว่าง | วงจรไฟฟ้าที่ 2 สว่าง |
| 2) วงจรไฟฟ้าที่ 1 ดับ | วงจรไฟฟ้าที่ 2 ดับ |
| 3) วงจรไฟฟ้าที่ 1 สว่าง | วงจรไฟฟ้าที่ 2 ดับ |
| 4) วงจรไฟฟ้าที่ 1 ดับ | วงจรไฟฟ้าที่ 2 สว่าง |

29. เด็กหญิงเย็นดีทำความสะอาดบ้าน โดยใช้เครื่องดูดฝุ่นขนาด 600 วัตต์นาน 20 นาที และซักผ้าด้วยเครื่องซักผ้าขนาด 250 วัตต์เป็นเวลา 1 ชั่วโมง ในแต่ละวันเครื่องใช้ไฟฟ้าใดใช้พลังงานมากกว่าและใช้ไฟฟ้ามากกว่ากันเท่าใด

- 1) เครื่องดูดฝุ่นใช้พลังงานมากกว่าเครื่องซักผ้า 108 กิโลจูล
- 2) เครื่องดูดฝุ่นใช้พลังงานมากกว่าเครื่องซักผ้า 180 กิโลจูล
- 3) เครื่องซักผ้าใช้พลังงานมากกว่าเครื่องดูดฝุ่น 108 กิโลจูล
- 4) เครื่องซักผ้าใช้พลังงานมากกว่าเครื่องดูดฝุ่น 180 กิโลจูล

ข้อสอบ PRE-TEST ม.1 (ห้องเรียนทั่วไป) วิชาวิทยาศาสตร์

30. ในการสำรวจนาข้าวแห่งหนึ่งพบสิ่งมีชีวิตและอาหารที่สิ่งมีชีวิตบริโภคดังนี้

ชื่อสิ่งมีชีวิต	อาหารที่บริโภค
ต้นหญ้า	-
ต้นข้าว	-
ตั๊กแตน	ต้นหญ้า, ต้นข้าว
นกกระจอก	ต้นข้าว, ตั๊กแตน
เป็ด	หอยเชอรี่
หอยเชอรี่	ต้นหญ้า, ต้นข้าว
งูเหลือม	หอยเชอรี่, นกกระจอก, เป็ด

ข้อใดไม่ใช่ห่วงโซ่อาหารของระบบนิเวศนาข้าวแห่งนี้

- 1) ต้นหญ้า --> นกกระจอก --> งูเหลือม
- 2) ต้นข้าว --> หอยเชอรี่ --> งูเหลือม
- 3) ต้นหญ้า --> ตั๊กแตน --> นกกระจอก --> งูเหลือม
- 4) ต้นข้าว --> หอยเชอรี่ --> นกกระจอก --> งูเหลือม

31. ระบบนิเวศแห่งหนึ่งมีห่วงโซ่อาหารดังนี้



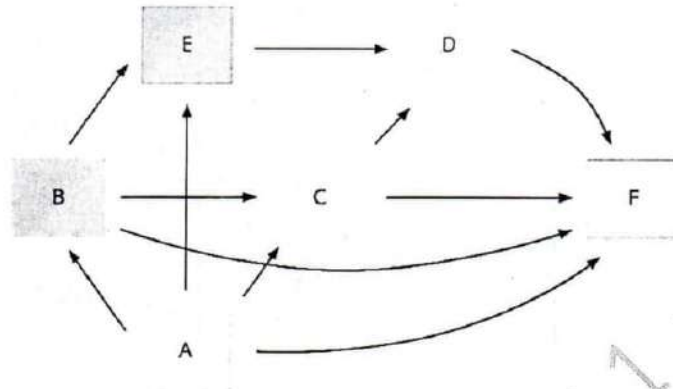
จากห่วงโซ่อาหารที่กำหนด สิ่งมีชีวิตใดจะสะสมสารพิษมากที่สุด

- 1) สาหร่าย
- 2) ปลาซิว
- 3) ลูกปลาช่อน
- 4) นกยาง

32. ข้อใดกล่าวถึงลักษณะความสัมพันธ์ของสิ่งมีชีวิตได้ถูกต้อง

- 1) กาฝากกับมะม่วง - ภาวะพึ่งพากัน
- 2) กล้วยไม้ป่ากับต้นยางนา - ภาวะอิงอาศัย
- 3) ปลาเหาะลามกับปลาลาม - การล่าเหยื่อ
- 4) ปลาการ์ตูนกับดอกไม้ทะเล - ภาวะปรสิต

33. จากสายใยอาหาร



ข้อใดคือ ผู้ผลิต,สิ่งมีชีวิตกินพืช,สิ่งมีชีวิตกินสัตว์, ผู้ย่อยสลายสารอินทรีย์ ตามลำดับ

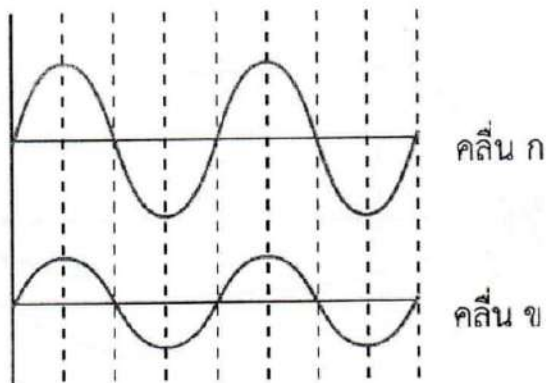
- 1) A, B, C, D
- 2) A, B, D, E
- 3) A, B, D, F
- 4) A, B, E, F

34. เด็กหญิงพอใจผสมพันธุ์ถั่ว 2 ต้น เมื่อต้นถั่วออกฝักจึงนำเมล็ดไปปลูกจนต้นถั่วเจริญเติบโตปรากฏว่าเป็นถั่วต้นสูง จำนวน 254 ต้น และถั่วต้นเตี้ยจำนวน 250 ต้น กำหนดให้ T เป็นแอลลีลควบคุมลำต้นสูง และ t เป็นแอลลีลควบคุมลำต้นเตี้ย จีโนไทป์ของถั่วต้นพ่อและต้นแม่ ข้อใดกล่าวถูกต้อง

- 1) ต้นพ่อ = TT ต้นแม่ = tt
- 2) ต้นพ่อ = Tt ต้นแม่ = tt
- 3) ต้นพ่อ = TT ต้นแม่ = Tt
- 4) ต้นพ่อ = TT ต้นแม่ = TT

ข้อสอบ PRE-TEST ม.1 (ห้องเรียนทั่วไป) วิชาวิทยาศาสตร์

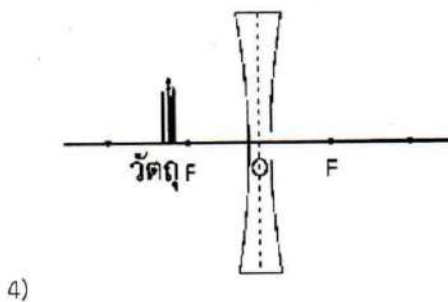
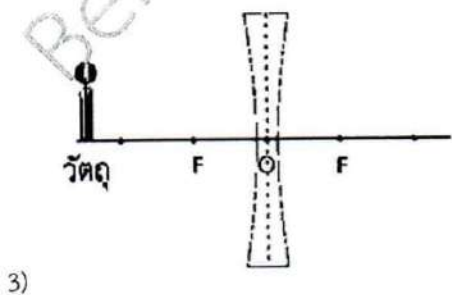
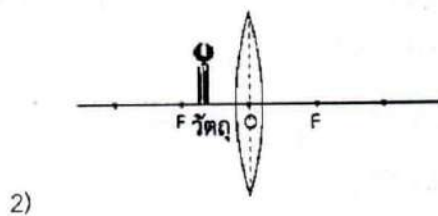
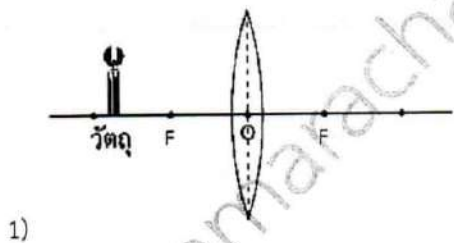
35. คลื่น ก และ ข เป็นคลื่นที่เกิดขึ้นในเวลาเท่ากัน ดังภาพ



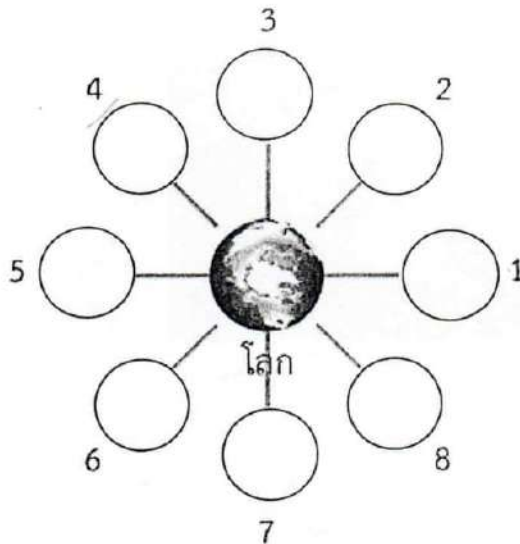
ข้อใดกล่าวได้ถูกต้อง

ข้อ	ความยาว	แอมพลิจูด	ความถี่ของคลื่น
1	ก ยาวกว่า ข	ก มากกว่า ข	เท่ากัน
2	เท่ากัน	ก มากกว่า ข	เท่ากัน
3	เท่ากัน	ข มากกว่า ก	ก มากกว่า ข
4	ก ยาวกว่า ข	เท่ากัน	ก มากกว่า ข

36. ถ้าวางวัตถุไว้หน้าเลนส์นูนหรือเลนส์เว้าในตำแหน่งต่าง ๆ ดังภาพ ข้อใดจะเกิด ภาพจริงหัวกลับ ขนาดใหญ่กว่าวัตถุ



ข้อสอบ PRE-TEST ม.1 (ห้องเรียนทั่วไป) วิชาวิทยาศาสตร์



ดวงอาทิตย์

37. จากภาพตำแหน่งต่าง ๆ ของดวงจันทร์ที่โคจรรอบโลก ที่ตำแหน่งที่ 4 และ 8 พื้นผิวของดวงจันทร์ที่ได้รับแสงจากดวงอาทิตย์คิดเป็นกี่เปอร์เซ็นต์ของพื้นที่ผิวของดวงจันทร์ทั้งหมด


- 1) 25%, 75%
- 2) 25%, 25%
- 3) 75%, 25%
- 4) 50%, 50%

38. “ขี้หมูกุโลก พลังงานก๊าซชีวภาพที่ไม่ธรรมดา” เกษตรกรฟาร์มหมูกัดค้นการสร้างพลังงานทดแทนจากมูลสุกรมาใช้สร้างประโยชน์ โดยการนำมูลสุกรหรือขี้หมูมาทำเป็นไบโอแก๊สหรือ “แก๊สชีวภาพ” และ “ผลิตเชื้อเพลิงสะอาด” ที่เกิดขึ้นจากกระบวนการย่อยสลายสารอินทรีย์วัตถุ มาเป็นเชื้อเพลิงผลิตไอน้ำแล้วบั่นกักเก็บเพื่อผลิตพลังงานไฟฟ้าได้ ข้อใดแสดงการเปลี่ยนแปลงพลังงานชีวมวลได้ถูกต้อง

- 1) พลังงานเคมี → พลังงานความร้อน → พลังงานจลน์ → พลังงานไฟฟ้า
- 2) พลังงานศักย์โน้มถ่วง → พลังงานความร้อน → พลังงานกล → พลังงานไฟฟ้า
- 3) พลังงานนิวเคลียร์ → พลังงานความร้อน → พลังงานกล → พลังงานไฟฟ้า
- 4) พลังงานความร้อน → พลังงานเคมี → พลังงานจลน์ → พลังงานไฟฟ้า

ข้อสอบ PRE-TEST ม.1 (ห้องเรียนทั่วไป) วิชาวิทยาศาสตร์

39. ปล่อยวัตถุชิ้นหนึ่งให้ไถลไปบนรางที่เรียบและลื่น จากตำแหน่ง A ถ้าพิจารณาวัตถุเมื่ออยู่ที่ตำแหน่ง B C และ D ดังภาพ ข้อใดกล่าวถูกต้อง



- 1) ที่ตำแหน่ง A มีพลังงานศักย์โน้มถ่วงมากกว่าตำแหน่ง D
 - 2) ที่ตำแหน่ง B มีพลังงานจลน์มากกว่าตำแหน่ง C
 - 3) ที่ตำแหน่ง C มีพลังงานกลมากกว่าตำแหน่ง A
 - 4) ทุกตำแหน่งมีพลังงานจลน์ พลังงานศักย์โน้มถ่วง เท่ากัน
40. ชายคนหนึ่งคันรถด้วยแรง 200 นิวตัน ทำให้รถเคลื่อนที่ไปได้ 2 เมตร ภายในเวลา 5 วินาที กำลังที่ชายคนนี้ใช้คันรถเป็นเท่าใด
- 1) 40 วัตต์
 - 2) 80 วัตต์
 - 3) 200 วัตต์
 - 4) 1000 วัตต์
41. น้ำส้มสายชูที่มีความเข้มข้นของกรดน้ำส้มร้อยละ 5 โดยปริมาตรจำนวน 3 ลิตร จะมีกรดน้ำส้ม เป็นองค์ประกอบกี่ลูกบาศก์เซนติเมตร
- 1) 100 ลูกบาศก์เซนติเมตร
 - 2) 150 ลูกบาศก์เซนติเมตร
 - 3) 200 ลูกบาศก์เซนติเมตร
 - 4) 250 ลูกบาศก์เซนติเมตร

ข้อสอบ PRE-TEST ม.1 (ห้องเรียนทั่วไป) วิชาวิทยาศาสตร์

42. ข้อใดกล่าวถูกต้องเกี่ยวกับการคุมกำเนิด

- 1) การใส่ห่วงอนามัยในเพศหญิงจะช่วยป้องกันการปฏิสนธิระหว่างเซลล์ไข่และอสุจิ
- 2) การทำหมันในเพศชาย ทำโดยการผูกหรือตัดหลอดนำอสุจิเป็นการยับยั้งการสร้างอสุจิ
- 3) การกินยาคุมกำเนิดซึ่งมีฮอร์โมนเพศหญิงเป็นส่วนประกอบช่วยยับยั้งการเจริญเติบโตของผนังมดลูก
- 4) การทำหมันในเพศหญิงทำโดยการผูกหรือตัดท่อนำไข่เป็นการป้องกันไม่ให้เซลล์ไข่มีโอกาสปฏิสนธิกับอสุจิ

43. นักกีฬาคนหนึ่งนับจำนวนครั้งของชีพจรขณะนั่งนิ่งๆ เป็นเวลา 1 นาที หลังจากนั้นเป่าลมหายใจออกยาวๆ ทางปาก 1 ครั้ง ผ่านหลอดกาาผลงสู่หลอดทดลองที่บรรจุสารละลายแคลเซียมไฮดรอกไซด์ สังเกตการเปลี่ยนแปลง จากนั้นทำซ้ำวิธีการเดิมโดยเปลี่ยนเป็นวิ่ง 10 นาที แล้วเป่าลมหายใจทันที ได้ผลการทดลองดังตาราง ข้อใดกล่าวไม่ถูกต้อง

กิจกรรม	จำนวนครั้งของชีพจร ในเวลา 1 นาที	การเปลี่ยนแปลงของ สารละลายแคลเซียมไฮดรอกไซด์
ขณะนั่งนิ่งๆ	75	สารละลายขุ่น
หลังจากวิ่ง	120	สารละลายขุ่นมาก

- 1) ในขณะที่วิ่งร่างกายต้องใช้พลังงานมากกว่านั่งนิ่งๆ ทำให้ชีพจรสูงขึ้น
- 2) ปริมาณแก๊สคาร์บอนไดออกไซด์หลังจากวิ่งมีปริมาณมากกว่าขณะนั่งนิ่งๆ
- 3) การเปลี่ยนแปลงของสารละลายแคลเซียมไฮดรอกไซด์ขึ้นอยู่กับปริมาณแก๊สออกซิเจนที่หายใจเข้า
- 4) เมื่อวิ่งร่างกายต้องการแก๊สออกซิเจนเพิ่มมากขึ้น สารละลายแคลเซียมไฮดรอกไซด์จึงขุ่นมากกว่า

44. พันในข้อใดมีความเสี่ยงที่จะก่อให้เกิดดินถล่มได้

- 1) ภูมิประเทศมีความลาดชันมาก
- 2) มีการทำเหมืองหินใต้ดินในระดับตื้น
- 3) มีการละลายของเกลือหินที่อยู่ใต้ดินในระดับตื้น
- 4) มีการสูบน้ำบาดาลขึ้นมาใช้เป็นปริมาณมากในระยะเวลานานรวดเร็ว

ข้อสอบ PRE-TEST ม.1 (ห้องเรียนทั่วไป) วิชาวิทยาศาสตร์

45. จากตารางแสดงความหนาแน่นของสาร ข้อใดกล่าวถูกต้อง

สาร	พลาสติก (โพลีเอทิลีน)	ปิโตรเลียมเหลว	น้ำ	นม	น้ำแข็ง
ความหนาแน่น (g/cm^3)	0.93	0.8	1	1.03	0.9
สถานะ	ของแข็ง	ของเหลว	ของเหลว	ของเหลว	ของแข็ง

- 1) แท่งพลาสติกลอยน้ำแต่จมในปิโตรเลียม
- 2) น้ำแข็งที่มีขนาดเล็กมากเท่านั้นจึงจะลอยน้ำ
- 3) แท่งพลาสติกสี่เหลี่ยมลูกบาศก์มวล 50 กรัม จะลอยน้ำ
- 4) ถ้าเทปิโตรเลียมลงในนม ปิโตรเลียมเหลวจะแยกชั้นอยู่ด้านล่าง

46. สารเคมี A จากการสังเกตพบว่ามีสมบัติดังนี้ สถานะของแข็ง สีขาว ไม่มีกลิ่น เมื่อนำไปทดสอบ โดยการหาจุดหลอมเหลวพบว่าเริ่มหลอมเหลวที่อุณหภูมิ 126°C และหลอมเหลวหมดที่อุณหภูมิ 126.3°C ข้อใดกล่าวถูกต้อง

- 1) สารนี้เป็นสารบริสุทธิ์ เพราะ มีสีขาว ไม่มีกลิ่น
- 2) สารนี้เป็นสารผสมเพราะมีจุดหลอมเหลวไม่คงที่
- 3) สารนี้เป็นสารผสมเพราะมีจุดหลอมเหลวสูงกว่า 100°C
- 4) สารนี้เป็นสารบริสุทธิ์ เพราะมีช่วงอุณหภูมิที่หลอมเหลวแคบ

47. เมื่อทำการลดอุณหภูมิของค้ำมวล 100 กรัม จากอุณหภูมิ 80°C เป็น 20°C (กำหนดให้ ความร้อนจำเพาะของทองมีค่า 0.03 แคลอรี/กรัม $^\circ\text{C}$) จงคำนวณหาพลังงานความร้อนที่สูญเสียไป

- 1) 90 cal
- 2) 100 cal
- 3) 150 cal
- 4) 200 cal

48. ข้อใดกล่าวถูกต้องเกี่ยวกับการลำเลียงสารของพืช

- 1) ไซเล็มมีหน้าที่ลำเลียงน้ำและธาตุอาหาร
- 2) พืชสะสมอาหารไว้เฉพาะส่วนบนของลำต้น
- 3) ธาตุอาหารจากดินเข้าสู่รากพืชโดยกระบวนการออสโมซิส
- 4) พืชดูดอาหารขึ้นมาจากดินแล้วลำเลียงไปทั่วทุกส่วนของพืช

ข้อสอบ PRE-TEST ม.1 (ห้องเรียนทั่วไป) วิชาวิทยาศาสตร์

49. ใช้ข้อมูลในตารางนี้ตอบคำถาม

ชื่อสาร	ชื่อธาตุที่เป็นองค์ประกอบ	สูตรเคมี
แก๊สไนโตรเจน	ไนโตรเจน	N_2
เกลือ	โซเดียม คลอรีน	$NaCl$
แก๊สฮีเลียม	ฮีเลียม	He
ปูนขาว	แคลเซียม ออกซิเจน	CaO
โอโซน	ออกซิเจน	O_3
แก๊สคาร์บอนไดออกไซด์	คาร์บอน ออกซิเจน	CO_2
เงิน	เงิน	Ag
กลูโคส	คาร์บอน ไฮโดรเจน ออกซิเจน	$C_6H_{12}O_6$

ข้อใดเป็นธาตุทั้งหมด

- 1) โอโซน เงิน
- 2) ปูนขาว เกลือแกง
- 3) แก๊สฮีเลียม กลูโคส
- 4) แก๊สคาร์บอนไดออกไซด์ แก๊สไนโตรเจน

50. จากภาพ เด็กหญิงบีกำลังรับประทานหอยกระหะ ข้อใดคือการถ่ายโอนความร้อน A B และ C ตามลำดับ



- 1) การแผ่รังสีความร้อน การนำความร้อน การพาความร้อน
- 2) การนำความร้อน การพาความร้อน การแผ่รังสีความร้อน
- 3) การพาความร้อน การแผ่รังสีความร้อน การนำความร้อน
- 4) การแผ่รังสีความร้อน การพาความร้อน การนำความร้อน

ข้อสอบ PRE-TEST ม.1 (ห้องเรียนทั่วไป) วิชาภาษาอังกฤษ

51. Samuel _____ his friend every month.

- 1) visit
- 2) visits
- 3) visited
- 4) visiting

52. The cappuccino is good, but I like Mocha _____.

- 1) best
- 2) worse
- 3) better
- 4) bad

53. It's quite _____ outside, so I had to repeat myself on the phone.

- 1) noisy
- 2) noise
- 3) noisily
- 4) noisiness

54. The lady _____ is talking on the stage is my English teacher.

- 1) what
- 2) whose
- 3) who
- 4) whom

55. By the time I arrive, the meeting _____ for half an hour.

- 1) starts
- 2) have started
- 3) have been starting
- 4) will have been started

ข้อสอบ PRE-TEST ม.1 (ห้องเรียนทั่วไป) วิชาภาษาอังกฤษ

56. If I _____ you, I would tell our classroom teacher about what happened.

- 1) am
- 2) are
- 3) was
- 4) were

57. You _____ wear the school uniform- it's the school's rule.

- 1) must
- 2) should
- 3) have to
- 4) could

58. A: I lost my charger this morning.

B: Do you have _____ one?

- 1) another
- 2) other
- 3) others
- 4) the others

59. A: I think I failed Mr. Miller's test; it wasn't easy.

B: Neither _____.

- 1) I do
- 2) I am
- 3) do I
- 4) am I

60. Miss Georgia speaks _____. No one in the class can hear her.

- 1) quietly
- 2) quiet
- 3) quieten
- 4) quietness

ข้อสอบ PRE-TEST ม.1 (ห้องเรียนทั่วไป) วิชาภาษาอังกฤษ

-
61. Klien _____ his students into different groups because he wanted them to make new friends.
- 1) surprised
 - 2) surveyed
 - 3) separated
 - 4) fired
62. Luna was proud of her best _____ award that her students voted for her.
- 1) magician
 - 2) instructor
 - 3) competent
 - 4) member
63. When will our _____ be fixed? I'm tired of walking upstairs.
- 1) ladder
 - 2) building
 - 3) department
 - 4) elevator
64. A: Can you _____ the volume?
B: Oh, I'm sorry.
- 1) turn away
 - 2) turn on
 - 3) turn right
 - 4) turn down
65. I don't understand why Rafah didn't win the _____. She was the fastest.
- 1) exam
 - 2) compliment
 - 3) race
 - 4) debate

ข้อสอบ PRE-TEST ม.1 (ห้องเรียนทั่วไป) วิชาภาษาอังกฤษ

-
66. Mabelle _____ her mother to pick her up from school daily.
- 1) expects
 - 2) respects
 - 3) accepts
 - 4) exchanges
67. We've been waiting for Mr. Clerk for 2 hours, yet he hasn't _____.
- 1) called off
 - 2) shown up
 - 3) shown off
 - 4) hanged up
68. The shop's membership has a lot of _____. Especially, for loyal customers.
- 1) member
 - 2) clients
 - 3) disadvantage
 - 4) benefits
69. Mr. Potter _____ the deadline for our assignment to next Friday.
- 1) put on
 - 2) put in
 - 3) put off
 - 4) put back
70. Maria is studying in the Veterinary Medicine Program because she wants to be a/an _____.
- 1) veterinarian
 - 2) astronaut
 - 3) carpenter
 - 4) actress

ข้อสอบ PRE-TEST ม.1 (ห้องเรียนทั่วไป) วิชาภาษาอังกฤษ

71. At the library

Alex: Excuse me, _____ Could you tell me where I can find it?

Librarian: You can find it in the E section.

- 1) I'm looking for a modern history book.
- 2) are you a librarian?
- 3) I'm looking for the way to the library.
- 4) I am a new student.

Complete the following conversation with the best alternative. (Items 72-75)

At the shop

Shop assistant: _____ 72 _____

Celina: Yes, I'm looking for a present for my son. _____ 73 _____

Shop assistant: We carry the new PlayStation 5 Console.

Celina: _____ 74 _____ How much does it cost?

Shop assistant: \$120, but we have a special price for you- 15% off this week.

Celina: _____ 75 _____ I'll have it!

72.

- 1) Why are you here?
- 2) May I help you?
- 3) Yes, please.
- 4) Our hours is 10 a.m. to 9 p.m.

73.

- 1) I don't need your opinion
- 2) I don't want anything.
- 3) Do you carry something about games?
- 4) Table for two, please.

74.

- 1) What a pity.
- 2) That sounds great!
- 3) I already booked a flight.
- 4) I don't have the receipt.

75.

- 1) I'm sorry.
- 2) I'll pay in cash.
- 3) What a good deal!
- 4) Never mind.

Read the following passage and choose the best answer.

A geyser is a natural pool of hot water that sometimes erupts. When a geyser erupts, it sends a tall jet of water and steam into the air.

The English word "geyser" comes from the Icelandic word "geysir." In fact, Iceland has a geyser that is named Geysir. This is the world's oldest one! It does not erupt anymore.

Another geyser can be found nearby, though. This one is called Strokkur. Strokkur erupts every few minutes. The hot water from Strokkur can reach as high as 40 meters. That's really high!

76. What is a geyser?

- 1) An island
- 2) A pool in the mountain
- 3) Hot water from a volcano
- 4) Hot water in the pond

77. What happens if the geyser explodes?

- 1) Water rises.
- 2) A pool becomes dry.
- 3) Another pool appears
- 4) Water becomes cold

78. Which statement is true?

- 1) The oldest pool is Strokkur.
- 2) The Geysir doesn't blow anymore.
- 3) Strokkur barely erupts.
- 4) None of these choices is correct.

79. What does the sign mean?



- 1) You can sit here.
 - 2) You have to clean the area.
 - 3) You cannot sit or stand here.
 - 4) You can park here.
-

80. What does the sign mean?



- 1) The area is closed.
- 2) You have to wear protective clothes.
- 3) You have to keep your belongings all the time.
- 4) You cannot enter.

Benjamarachalai Pre-test M.1 : 2024

ข้อสอบ PRE-TEST ม.1 (ห้องเรียนทั่วไป) วิชาภาษาไทย

81. ข้อใดมีเสียงวรรณยุกต์ไม่ครบทุกเสียง
- 1) เธอกินข้าวคะน้ำหมุกรอบ
 - 2) แต่ฉันชอบแกงรสจัด
 - 3) อาหารล้วนมีประโยชน์มาก
 - 4) เลือกบริโภคอย่างพอดี
82. ข้อความในข้อใดมีทั้งสระเดี่ยวและสระประสม
- 1) ทั้งจุกไรใครเล่าจะเกล้าพัน
 - 2) จะนับวันนับเดือนไปเลื่อนลับ
 - 3) ลูกผู้ชายลายมือนั้นคือยศ
 - 4) ให้รอดพ้นภัยพาลถึงกาญจนบุรี

“นางวันทองบอกว่าพ่อของพลาายงามคือขุนแผน เป็นศัตรูกับขุนช้าง ย่าคือนางทองประศรี อยู่ที่เมืองกาญจนบุรี”

83. จากข้อความที่กำหนดให้ ไม่พบมาตราตัวสะกดใด
- 1) แม่กบ แม่เกย
 - 2) แม่กต แม่กก
 - 3) แม่กบ แม่เกอว
 - 4) แม่กม แม่เกอว
84. ข้อใดใช้ลักษณะนามเหมือนกันทุกคำ
- 1) รถยนต์ ช้อน พัด
 - 2) ขวาน เกวียน กระไรกร
 - 3) แจกัน จาน นามบัตร
 - 4) เข็มขัด สร้อย แม่น้ำ

ข้อสอบ PRE-TEST ม.1 (ห้องเรียนทั่วไป) วิชาภาษาไทย

ใช้ข้อความต่อไปนี้ตอบคำถามข้อ 85 - 86

หมูแดงเป็นดาวเด่นของสวนสัตว์เขาเขียว มีแม่ชื่อโจนา หมูแดงเป็นฮิปโปแคระซึ่งเป็นสัตว์เลี้ยงลูกด้วยนมชนิดหนึ่ง กินพืชเป็นอาหาร ฮิปโปแคระมีนิสัยขี้อาย รักสันโดษ และหวาดกลัวมนุษย์

85. ข้อความที่กำหนดให้ มีค่านามทั้งหมดกี่คำ (ไม่นับคำซ้ำ)

- 1) 9 คำ
- 2) 10 คำ
- 3) 11 คำ
- 4) 12 คำ

86. จากข้อความ มีคำกริยาทั้งหมดกี่คำ (ไม่นับคำซ้ำ)

- 1) 3 คำ
- 2) 4 คำ
- 3) 5 คำ
- 4) 6 คำ

87. คำในข้อใดอ่านไม่ถูกต้องตามหลักภาษา

- 1) วิตถาร อ่านว่า วิต - ถาน
- 2) ผลึก อ่านว่า ผละ - หลีก
- 3) ดาวดิงส์ อ่านว่า ดาว - ดิง
- 4) สัปดน อ่านว่า สับ - ปะ - ดน

88. ข้อความใดมีคำที่อ่านออกเสียงแบบ "อักษรนำ"

- 1) นิทานเรื่องรามสูรเป็นนิทานปรัมปราที่เด็ก ๆ รู้จักกันดี
- 2) เมื่อได้ยินเสียงคนเรียกยามวิกาลอย่าผลีผลามออกจากบ้าน
- 3) อยู่ธยาเต็มไปด้วยซากปรักหักพังของปราสาทราชวังในอดีต
- 4) พญาครุฑเป็นวิหคกึ่งเทพอาศัยอยู่ที่ฉิมพลีวิมานบริเวณเชิงเขาพระสุเมรุ

ข้อสอบ PRE-TEST ม.1 (ห้องเรียนทั่วไป) วิชาภาษาไทย

89. ข้อความใดมีการใช้คำควบกล้ำมากที่สุด (นับเฉพาะคำควบแท้)

- 1) เขาจับได้ว่าพลอยที่ชวนขายซื้อมาจากนายหน้าที่จังหวัดจันทบุรีเป็นของปลอม
- 2) พร้าหมัดหนุ่มเดินทางไปกลางป่าและกราบไหว้เทวดาขอให้พบพญากวางดั่งมุ่งหมาย
- 3) ศาลตัดสินให้ความชั่วช้าได้ครอบครองพื้นที่ด้านขวาของเขื่อนอย่างถูกต้องตามกฎหมาย
- 4) คดีปล้นพระเกจิชื่อดังที่จังหวัดตราดเริ่มบานปลายเนื่องจากตรวจพบว่าทำกันเป็นขบวนการ

90. คำในข้อใดเป็นคำมูล คำประสมและคำซ้อนเรียงตามลำดับ

- 1) กระต๊าก ตัดขาด ต้มยำกุ้ง
- 2) หนังสือ เจ้านาย จุกจิก
- 3) ระนาด ของขวัญ ตัดสิน
- 4) ผ้อยทอง ยางลบ การบ้าน

91. ประโยคในข้อใดมีทั้งคำประสมและคำซ้อน

- 1) สนามบินมีแนวทางแก้ไขปัญหาให้กับผู้โดยสาร
- 2) ลูกสุนัขส่งเสียงร้องครวญครางเรียกหาแม่สุนัข
- 3) ลูกเสื้อตัวนี้เพิ่งคลอดได้ไม่นานก็มีขนปกปุย
- 4) เขามีขนมเยาะแยะสำหรับแจกเด็ก ๆ

92. ข้อใดเป็นประโยคความซ้อน

- 1) เนื่องจากไข้หวัดใหญ่ระบาด นักเรียนจึงหยุดเรียนกรณีพิเศษ
- 2) นักเรียนชั้นประถมศึกษาปีที่ 6 ไปทัศนศึกษาที่จ.ลพบุรี
- 3) แม่บอกให้เธอไปรดน้ำต้นไม้ในสวนหลังบ้าน
- 4) เธอหรือหัวหน้าห้องที่ต้องไปพบครู

93. ข้อใดต่อไปนี้มีคำตายมากที่สุด

- | | |
|--------------------------------|----------------------------------|
| 1) เราอยากแล้วแก้วตาอย่าประมาท | ทั้งสิ้นญาติสิ้นเชื้อจะเกื้อหนุน |
| 2) ลูกก็แลดูแม่แม่ดูลูก | ต่างพันผูกเพียงว่าเลือดตาไหล |
| 3) พ่อไปตีศรีสวัสดิ์ก็กำจัดภัย | จนเด็บใหญ่ยิ่งยวดได้บวชเรียน |
| 4) รู้สิ่งใดก็ไม่รู้วิชา | ไปเบื้องหน้าเด็บใหญ่จะให้คุณ |

ข้อสอบ PRE-TEST ม.1 (ห้องเรียนทั่วไป) วิชาภาษาไทย

94. คำที่ขีดเส้นใต้ในข้อใดมีความหมายนัยตรงเพียงอย่างเดียว

- 1) เสื้อลายลูกไม้ตัวนี้สวยมาก
- 2) เด็กมือแข็งไปที่ไหนก็ไม่มีใครชอบ
- 3) มือขวาของนักการเมืองคนนี้เป็นคนฉลาดพูด
- 4) ชาวบ้านช่วยกันกำจัดลูกน้ำตามบริเวณที่มีน้ำขัง

95. ข้อความในข้อใด ใช้คำผิดความหมาย

- 1) เธอเป็นคนใจเสาะเห็นใครเดือดร้อนก็อยากช่วยเหลือไปเสียหมด
- 2) เขาเป็นคนใจแข็งมากแม้ฉันจะขอโทษแล้วเขาก็ไม่ให้อภัย
- 3) วันนี้บึ้งใจลอยทั้งวัน ให้ทำอะไรก็ทำผิด ๆ ถูก ๆ
- 4) พี่ชายเป็นคนใจนักเลง กล้าได้กล้าเสียไม่กลัวใคร

96. ข้อความในข้อใด มีคำที่มาจากภาษาต่างประเทศเหมือนกับข้อความที่กำหนดให้

ชาทุระบุฟเฟต์ พร้อมเสิร์ฟเนื้อชั้นดีให้คุณแช่ปีไปกับความละมุนลิ้นชั้นสุด อร่อยจนแสงออกปาก!!!!!!

- 1) ซูปกิมจิร้อน ๆ ใส่เต้าหู้รับประทานคู่กับเนื้อย่างในวันที่อากาศหนาว มันฟินจะตาย
- 2) ไข่ดาวขอบเกรียมเหยาะโชยุต้นตำรับหรือซอสพริกก็อร่อยแล้ว ไม่ต้องราดมายองเนสหรอก
- 3) ร้านอาหารร้านนี้มีของทานเล่นเยอะมาก เช่น ทากะยากิ เฟรนช์ฟรายราดชีส ถูกใจสายกินที่สุดเลย
- 4) คนไทยแปลว่าอิสระ กินอะไรเป็นมือเขาก็ได้ ฉ้นเลยกินสติกกับสลัดซามใหญ่ พร้อมปาห้องโก๋จิ้มนม

97. ข้อความที่กำหนดให้ ตอนใดไม่มีคำยืมจากภาษาบาลีสันสกฤต

1) ช้างเผือกเป็นช้างที่มีลักษณะต่างจากช้างธรรมดาทั่วไป 2) โดยช้างเผือกจะมีเล็บสีขาว รวมทั้งสีผิวที่อ่อนกว่าช้างทั่วไป อาจเป็นสีชมพูหรือขาวก็ได้ 3) เชื่อว่าช้างเผือกเป็นสัตว์มงคล และหาได้ยากยิ่ง 4) จึงเป็นเครื่องประดับบารมีและพระราชพาหนะของพระมหากษัตริย์

- 1) ตอนที่ 1)
- 2) ตอนที่ 2)
- 3) ตอนที่ 3)
- 4) ตอนที่ 4)

ข้อสอบ PRE-TEST ม.1 (ห้องเรียนทั่วไป) วิชาภาษาไทย

98. ส่วนภาษาไทยในข้อใดไม่ได้สอนเรื่องการพูด

- 1) น้ำท่วมปาก
- 2) พูดดีเป็นศรีแก่ปาก
- 3) พูดไปสองไพเบี้ย นิ่งเสียตำลึงทอง
- 4) ปากเป็นเอก เลขเป็นโท

99. โฆษณาในข้อใดมีการโน้มน้าวใจ

- 1) โลชั่นออโรรา ขนาดใหญ่ขนาด 500 มิลลิกรัม ราคา 89 บาทเท่านั้น
- 2) นมเปรี้ยวพร้อมดื่มมิลค์ก็เวย์ หลากหลายรสชาติความอร่อย อุดมด้วยโปรตีนจากนมโคสด
- 3) จักรยานไฟฟ้าโอตารุ ทนทาน ขับสบาย เป็นมิตรต่อสิ่งแวดล้อม ช้อวันนี้ฟรีแบตเตอรี่สำรอง
- 4) โรงเรียนกวดวิชาบัณฑิตห่มแดง เข้าใจนักเรียนทุกช่วงวัย และมีหลักสูตรการเรียนที่หลากหลาย

100. ข้อความที่กำหนดให้ เป็นการใชภษาาระดับใด

ละครในเป็นการแสดงที่ดำเนินตามเนื้อเรื่อง โดยเป็นการใช้ศิลปะการรำร่วมกับการขับร้อง และมีวงปี่พาทย์ร่วมบรรเลง ใช้ผู้แสดงเป็นผู้หญิงทั้งหมด มีประวัติความเป็นมายาวนาน ละครในกำเนิดขึ้นในราชสำนักตั้งแต่สมัยอยุธยา

- 1) ระดับพิธีการ
- 2) ระดับทางการ
- 3) ระดับกึ่งทางการ
- 4) ระดับไม่เป็นทางการ

101. ข้อใดใช้คำราชาศัพท์ที่ไม่ถูกต้อง

- 1) สมเด็จพระนางเจ้า ฯ พระบรมราชินี เสด็จพระราชดำเนินไปทอดพระเนตรการแสดงโขน ตอนนางลอย ณ ศูนย์วัฒนธรรมแห่งประเทศไทย
- 2) สมเด็จพระกนิษฐาธิราชเจ้า กรมสมเด็จพระเทพรัตนราชสุดา ฯ สยามบรมราชกุมารีพระราชทาน พระราโชวาทแก่บัณฑิตจากมหาวิทยาลัยศิลปากร
- 3) พระเจ้าวรวงศ์เธอ พระองค์เจ้าอาทิตย์ทิพอาภา มีพระดำรัสกับนักข่าวถึงความประทับใจในการเสด็จไปยังสาธารณรัฐประชาธิปไตยประชาชนลาว
- 4) สมเด็จพระเจ้าลูกยาเธอ เจ้าฟ้าทีปังกรรัศมีโชติ ทรงเข้าร่วมการแข่งขันกีฬาระดับมหาวิทยาลัย และพระราชทานพระราชวโรกาสให้นักกีฬาจากมหาวิทยาลัยอื่นเข้าเฝ้า ฯ

ข้อสอบ PRE-TEST ม.1 (ห้องเรียนทั่วไป) วิชาภาษาไทย

102. ข้อความใดมีทั้งข้อเท็จจริงและข้อคิดเห็น

- 1) นิทานพื้นบ้านเรื่อง วังบัวบาน เป็นนิทานพื้นบ้านของจ.เชียงใหม่ที่น่าจะสร้างความสะเทือนใจให้แก่ นักท่องเที่ยวที่เดินทางมา ณ สถานที่แห่งนี้
- 2) รัฐมนตรีกระทรวงการท่องเที่ยวและกีฬาคาดว่าในเทศกาลปีใหม่นี้ประเทศไทยจะมีรายได้จาก นักท่องเที่ยวชาวจีนมากกว่าหนึ่งพันล้านบาท
- 3) วรรณคดี เรื่อง รามเกียรติ์ เป็นวรรณคดีที่ประเทศไทยรับเข้ามาในราชสำนักและใช้เล่นละครในเมื่อ ครั้งที่กรุงศรีอยุธยาเป็นราชธานี
- 4) วงแหวนแห่งไฟคือแนวภูเขาไฟที่ยังคุกรุ่นในมหาสมุทรแปซิฟิกซึ่งทำให้เกิดแผ่นดินไหวกว่าร้อยละ 90 บนโลก

103. บทร้อยกรองที่กำหนดให้ปรากฏการใช้โวหารประเภทใด

มะพร้าวอ่อนป้อนเจ้าทั้งข้าวขวัญ ให้สาวสวาลาวเวียงที่เสียดี	กระและจันท์เจิมหน้าเป็นราศี มาขอป้ออชั่นทำขวัญนาย
---	--

- 1) สาธกโวหาร
- 2) อุปมาโวหาร
- 3) บรรยายโวหาร
- 4) พรรณนาโวหาร

104. ข้อใดไม่ปรากฏการใช้ภาพพจน์

- | | |
|---------------------------------------|------------------------------|
| 1) นางครวญคร่ำรำว่าน้ำตาตก | เหมือนหนึ่งอกพุพองเป็นหนองฝี |
| 2) บีบจุมูกจากปากลาภีกระแทก | เสียงแอ๊กแอ๊กอ่อนซบสลับสไล |
| 3) แค้นขุนช้างตั้งจะดินสิ้นชีวา | มันชะล่าชะเลยจนเคยตัว |
| 4) เหมือนพ้อแผนแสนเหมือนไม้เคลื่อนคลา | ทั้งหูดาคมสันเป็นมันยับ |

105. คำประพันธ์ต่อไปนี้ ข้อใดสะท้อนให้เห็นถึงคุณค่าด้านสังคมที่เกี่ยวข้องกับวัฒนธรรมประเพณีไทยชัดเจนที่สุด

- | | |
|-----------------------------------|--------------------------------|
| 1) บายศรีตั้งพร้อมพร้อมน้อมคำนับ | เจริญรับมิ่งขวัญรำพันไป |
| 2) แล้วลูบหลังสั่งความพลายงามน้อย | เจ้าจงค่อยรำเรียนเขียนคาถา |
| 3) ทั้งขอมไทยได้สิ้นกียินดี | เรียนคัมภีร์พุทธเทพพระเวทมนต์ |
| 4) จะเป็นข้าจอมนรินทร์ปิ่นนคร | อย่านั่งนอนเปล่าเปล่าไม่เข้ากร |

ข้อสอบ PRE-TEST ม.1 (ห้องเรียนทั่วไป) วิชาภาษาไทย

106. ข้อความต่อไปนี้ ผู้เขียนมีจุดมุ่งหมายเพื่อสื่อสารเรื่องใดอย่างชัดเจน

กล้วยน้ำว้าเป็นไม้ล้มลุก สูงประมาณ 3.5 เมตร ลำต้นสั้นอยู่ใต้ดิน กาบเรียงเวียนซ้อนกันเป็น ลำต้นเทียม สีเขียวอ่อน ใบกล้วยเป็นใบเดี่ยวขนาดใหญ่ ปลายใบมน ขอบใบเรียบ ออกเรียงสลับ ดอกออกเป็นช่อที่ปลาย ยอดห้อยลง เรียกว่า หัวปลี มีใบประดับขนาดใหญ่หุ้มสีแดงเข้ม ผลเป็นรูปรี ผิว เรียบ ปลายเป็นจุก เนื้อสีขาว เมื่อสุกเปลือกเป็นสีเหลือง มีรสหวาน กล้วยเป็นพืชที่มีประโยชน์มาก ปลูก ง่ายด้วยการแบ่งหน่อ

- | | |
|-----------------------|-------------------------|
| 1) ลักษณะเด่นของกล้วย | 2) ลักษณะทั่วไปของกล้วย |
| 3) การขยายพันธุ์กล้วย | 4) ประโยชน์ของกล้วย |

107. พฤติกรรมของนักเรียนคนใดที่นำผลของการอ่านข้อความนี้ไปใช้ได้อย่างเหมาะสมที่สุด

ผลวิจัยพบว่า ผู้ที่รับประทานมะเขือเทศที่ผ่านการปรุงด้วยความร้อน จะได้รับไลโคปีนมากกว่า การรับประทานมะเขือเทศสด ซึ่งไลโคปีนเป็นสารสีแดงที่มีประโยชน์ต่อสุขภาพ หากรับประทานในปริมาณที่ เหมาะสมจะช่วยบำรุงผิวพรรณ ลดการเกิดโรคความดันโลหิตสูง และลดความเสี่ยงในการเกิดโรคมะเร็งได้ด้วย

- 1) แบ่งเลือกรับประทานอาหารเสริมที่มีส่วนผสมไลโคปีน
- 2) รับประทานมะเขือเทศราชินีเป็นอาหารว่างเป็นประจำทุกวัน
- 3) ปรากฏเลือกรับประทานอาหารที่มีมะเขือเทศปรุงสุกเป็นส่วนประกอบ
- 4) ปิ่เลือกใช้โลชั่นทาผิวที่มีส่วนผสมของมะเขือเทศเพื่อบำรุงผิวพรรณ

- | |
|--|
| <p>ก) กอดของแม่สร้างความหวังกำลังใจ</p> <p>ข) กอดของแม่กว้างใหญ่ไพศาลนัก</p> <p>ค) กอดของแม่ป้องกันภัยไกลลูกยา</p> <p>ง) เป็นที่พิทักษ์แหล่งอบรมบ่มนิสัย</p> |
|--|

108. จากคำประพันธ์ที่กำหนดให้ต่อไปนี้ ข้อใดเรียงลำดับได้ถูกต้อง

- 1) ข) ก) ง) ค)
- 2) ข) ง) ก) ค)
- 3) ก) ง) ข) ค)
- 4) ก) ข) ง) ค)

ข้อสอบ PRE-TEST ม.1 (ห้องเรียนทั่วไป) วิชาภาษาไทย

- ก) อีกทั้งอนุภาคขนาดเล็กของฝุ่นสามารถเป็นตัวกระตุ้นให้ผู้ป่วยบางโรคมีอาการแย่ลง
ข) PM 2.5 คือฝุ่นละอองขนาดเล็ก สามารถแพร่กระจายสู่อากาศได้โดยตรง
ค) ทำให้สามารถเข้าสู่ร่างกายมนุษย์ได้มากขึ้นโดยการหายใจ และเข้าสู่ระบบไหลเวียนโลหิต
ง) หน่วยงานสุขภาพต่าง ๆ ทั่วโลกจึงติดตามคุณภาพอากาศเพื่อเฝ้าระวังไม่ให้เกิดผลกระทบต่อสุขภาพของประชาชน

109. จากข้อความที่กำหนดให้ ข้อใดเรียงลำดับเนื้อเรื่องเรียงความได้ถูกต้อง

- 1) ข) ค) ก) ง)
- 2) ข) ง) ก) ค)
- 3) ก) ข) ค) ง)
- 4) ก) ค) ง) ข)

ข้อสอบ PRE-TEST ม.1 (ห้องเรียนทั่วไป) วิชาภาษาไทย

110. จากภาพที่กำหนดให้ ข้อใดกล่าวไม่ถูกต้อง



- 1) เครื่องดื่มในชีวิตประจำวันโดยส่วนมากมีปริมาณน้ำตาลสูงเกินกว่าที่ร่างกายต้องการ
- 2) ในชีวิตประจำวันเราควรดื่มเฉพาะกาแฟเท่านั้น เพราะมีปริมาณน้ำตาลต่ำ
- 3) การบริโภคน้ำตาลมากเกินไป ทำให้เกิดโรคและส่งผลเสียต่อสุขภาพ
- 4) การอ่านฉลากก่อนซื้อเป็นขั้นตอนการลดน้ำตาลที่ทำได้ง่าย

ข้อสอบ PRE-TEST ม.1 (ห้องเรียนทั่วไป) วิชาสังคมศึกษา

111. “แก้ว 3 ประการ อันประเสริฐสุดของพุทธศาสนิกชน” คือความหมายของข้อใด
- 1) พระวินัย
 - 2) พระธรรม
 - 3) พระรัตนตรัย
 - 4) พระไตรปิฎก
112. วันสำคัญทางพระพุทธศาสนาข้อใดที่เกิดเหตุการณ์สำคัญ 3 อย่างขึ้นในห้วงระยะเวลาที่ต่างกัน
- 1) วันมาฆบูชา
 - 2) วันวิสาขบูชา
 - 3) วันอัฐมีบูชา
 - 4) วันอาสาฬหบูชา
113. พระพุทธเจ้าทรงแสดงธรรมครั้งแรกแก่บุคคลในข้อใด
- 1) ปัญจวัคคีย์
 - 2) ชฎิล 3 พี่น้อง
 - 3) พระเจ้าสุทโธทนะ
 - 4) อาหารดาบสและอุทกดาบส
114. ปรัชญาเศรษฐกิจพอเพียงดำเนินไปตามแนวหลักธรรมใดมากที่สุด
- 1) อริยสัจ 4
 - 2) ไตรสิกขา
 - 3) ทางสายกลาง
 - 4) ทศพิธราชธรรม
115. เบนุจคิดข้อใดแปลว่า “งดเว้นจากการพูดเท็จ พูดส่อเสียด พูดเพ้อเจ้อ พูดคำหยาบ”
- 1) ปาณาติปาตา เวระมะณี สิกขาปะทัง สะมาทิยามิ
 - 2) อิทินาทานา เวระมะณี สิกขาปะทัง สะมาทิยามิ
 - 3) กามสุมิจฉาจารา เวระมะณี สิกขาปะทัง สะมาทิยามิ
 - 4) มุสาวาทา เวระมะณี สิกขาปะทัง สะมาทิยามิ

ข้อสอบ PRE-TEST ม.1 (ห้องเรียนทั่วไป) วิชาสังคมศึกษา

116. ในการฟังพระธรรมเทศนา เราควรปฏิบัติตนอย่างไรจึงจะถูกต้องเหมาะสมตามมารยาทชาวพุทธ

- 1) นั่งฟังตามสบาย
- 2) นั่งพับเพียบฟังอย่างสงบ
- 3) นั่งคุกเข่าและประนมมือฟัง
- 4) นั่งพับเพียบประนมมือฟังด้วยความตั้งใจ

117. การกระทำของบุคคลในข้อใดไม่ถือว่าเป็นการปฏิบัติตนเป็นเยาวชนที่ดี

- 1) เอ้าไม่เข้าไปยุ่งเกี่ยวกับของมีนเมาและอบายมุขทั้งหมด
- 2) แอ้มแข่งรถกับเพื่อนบนถนนหลวงแทนถนนในหมู่บ้าน
- 3) อ้อมศึกษาหาความรู้เพิ่มเติมเรื่องการหารายได้เสริมจากการเล่นเกม
- 4) เอกตั้งใจเรียนในห้องและรีบทำการบ้านก่อนไปช่วยครอบครัวค้าขาย

118. ข้อใดไม่ใช่เสรีภาพซึ่งบัญญัติไว้ในรัฐธรรมนูญแห่งราชอาณาจักรไทย พ.ศ. 2560

- 1) เสรีภาพในการนับถือศาสนา
- 2) เสรีภาพในการประกอบอาชีพ
- 3) เสรีภาพในการมีและจบชีวิต
- 4) เสรีภาพในกระบวนการยุติธรรม

119. ข้อใดกล่าวผิดเกี่ยวกับอำนาจอธิปไตย

- 1) อำนาจอธิปไตยถือเป็นอำนาจสูงสุดในการบริหารประเทศ
- 2) ผู้ใช้อำนาจนิติบัญญัติแทนปวงชนชาวไทยคือสภาผู้แทนราษฎรและวุฒิสภา
- 3) คณะรัฐมนตรีเป็นกลุ่มที่ใช้อำนาจบริหารซึ่งมาจากการเลือกตั้งของประชาชน
- 4) ศาลใช้อำนาจตุลาการทำหน้าที่วินิจฉัยข้อพิพาทอันเกิดจากการใช้กฎหมาย

120. บุคคลใดที่ได้รับการคุ้มครองสวัสดิภาพตามพระราชบัญญัติคุ้มครองเด็ก พ.ศ. 2546

- 1) เด็กกำพร้า
- 2) เด็กที่ถูกพลัดหลง
- 3) เด็กพิการทางร่างกาย
- 4) เด็กที่ถูกทารุณกรรม

ข้อสอบ PRE-TEST ม.1 (ห้องเรียนทั่วไป) วิชาสังคมศึกษา

121. นางสาวกิริติได้รับเงินชดเชยจากบริษัทหลังพบว่าสินค้าหมดอายุ ถือเป็นสิทธิผู้บริโภคด้านใด

- 1) สิทธิที่จะได้รับความปลอดภัยจากการใช้สินค้า
- 2) สิทธิที่จะได้รับทราบข่าวสารการพรรณมาคุณภาพของสินค้า
- 3) สิทธิที่จะได้รับในการพิจารณาชดเชยความเสียหาย
- 4) สิทธิที่จะได้รับความเป็นธรรมในการทำสัญญา

122. ข้อใดไม่ถือว่าเป็นลักษณะของวัฒนธรรมไทย

- 1) ยึดถือพิธีกรรมเป็นสำคัญ
- 2) มีลักษณะทางภูมิศาสตร์ที่คล้ายกัน
- 3) การใช้ระบบญาติและลำดับอาวุโส
- 4) ผสมผสานวัฒนธรรมตะวันตกอย่างกลมกลืน

123. “ทุน (Capital) ในปัจจัยการผลิต หมายถึง สิ่งที่มนุษย์สร้างขึ้นเพื่อช่วยในการผลิตสินค้าและบริการ โดยทุนไม่ได้หมายถึงเงินเพียงอย่างเดียว แต่ยังรวมถึงเครื่องมือ เครื่องจักรและ ที่ช่วยเพิ่มประสิทธิภาพในการผลิต” จากข้อความดังกล่าวข้อใดถูกต้อง

- 1) แรงงานสัตว์
- 2) ที่ดิน
- 3) แรงงานมนุษย์
- 4) ผู้ประกอบการ

124. หากราคาน้ำแข็งสูงขึ้น ข้อความใดต่อไปนี้เป็นไปตามกฎอุปทาน

- 1) ผู้บริโภคซื้อน้ำแข็งลดลง
- 2) ยอดการสั่งเครื่องทำน้ำแข็งสูงขึ้น
- 3) ผู้ผลิตเพิ่มปริมาณการผลิตน้ำแข็ง
- 4) ทุกข้อที่กล่าวมาถูกต้อง

125. สถาบันการเงินในข้อใดจัดตั้งขึ้นโดยมีวัตถุประสงค์เฉพาะกิจ

- 1) ธนาคารกรุงเทพ
- 2) ธนาคารไทยพาณิชย์
- 3) ธนาคารออมสิน
- 4) ธนาคารกรุงเทพ

ข้อสอบ PRE-TEST ม.1 (ห้องเรียนทั่วไป) วิชาสังคมศึกษา

126. ข้อความใดต่อไปนี้อย่างไม่ได้สะท้อนลักษณะเศรษฐกิจของประเทศไทย
- 1) รายได้หลักของประเทศไทยมาจากการส่งออกสินค้าไปต่างประเทศ
 - 2) ประเทศไทยยังคงพบปัญหาความยากจนและช่องว่างทางรายได้
 - 3) รายได้สำคัญของประเทศไทยเกิดจากการส่งออกน้ำมันปิโตรเลียม
 - 4) การขาดแคลนการคมนาคมที่มีคุณภาพเป็นปัญหาที่ส่งผลต่อมูลค่าเศรษฐกิจของไทย
127. ฟังเสียดสีจิตใจทำกรรมธรรม์สุภาพไว้ใช้ในอนาคต สอดคล้องกับคุณลักษณะใดตามหลักการเศรษฐกิจพอเพียง
- 1) ความพอประมาณ
 - 2) ความมีเหตุผล
 - 3) การมีภูมิคุ้มกันในตัวที่ดี
 - 4) เงื่อนไขความรู้และคุณธรรม
128. การปฏิบัติตนของบุคคลใดสอดคล้องกับหลักการ “ระเบิดจากข้างใน” ตามหลักการทรงงานของพระบาทสมเด็จพระชนกาธิเบศรฯ รัชกาลที่ 9
- 1) พลอยขอสรูปเนื้อหาจากเพื่อนทุกคนก่อนสอบ
 - 2) พิมเลี้ยงขนมเพื่อนตอบแทนที่ช่วยทำงานกลุ่ม
 - 3) พัดขอให้เพลินช่วยทำการบ้านจนเสร็จ
 - 4) พินขอคำปรึกษาจากครูพรเรื่องเทคนิคการลงสีฝุ่น
129. “ร่องรอยของมนุษย์ที่เกิดขึ้นในอดีต ซึ่งสามารถนำมาใช้เพื่อเป็นข้อมูลในการศึกษา” จากข้อความดังกล่าวคือความหมายของข้อใด
- 1) หลักฐานทางอารยธรรม
 - 2) หลักฐานทางวัฒนธรรม
 - 3) หลักฐานทางขนบธรรมเนียม
 - 4) หลักฐานทางประวัติศาสตร์
130. ข้อใดจัดเป็นหลักฐานชั้นต้นทั้งหมด
- 1) หนังสือพิมพ์ คำบอกเล่า ศิลปิน
 - 2) หนังสือพิมพ์ โบราณสถาน ภาพยนตร์
 - 3) ศิลปิน คำบอกเล่า บทความทางวิชาการ
 - 4) คำบอกเล่า หนังสือประวัติศาสตร์ เครื่องประดับ

ข้อสอบ PRE-TEST ม.1 (ห้องเรียนทั่วไป) วิชาสังคมศึกษา

131. ให้นักเรียนเรียงลำดับวิธีการทางประวัติศาสตร์ให้ถูกต้อง

- A. การรวบรวมข้อมูล
- B. การประเมินคุณค่า
- C. การกำหนดหัวข้อ
- D. การตีความวิเคราะห์ข้อมูล
- E. การเรียบเรียงนำเสนอ

- 1) C - A - D - B - E
- 2) C - A - B - D - E
- 3) A - D - B - C - E
- 4) A - B - C - D - E

132. “นักโบราณคดีขุดพบกลองมโหระทึก ของมนุษย์ในอดีต” จากข้อความดังกล่าว ตรงกับยุคสมัยในข้อใด

- 1) ยุคโลหะ
- 2) ยุคหินเก่า
- 3) ยุคหินกลาง
- 4) ยุคหินใหม่

133. เมืองศรีเทพ มรดกโลกทางวัฒนธรรมแห่งใหม่ของประเทศไทย มีอารยธรรมทางประวัติศาสตร์ที่เกี่ยวข้องกับอาณาจักรใด

- 1) อาณาจักรศรีวิชัย
- 2) อาณาจักรโยนกเชียงแสน
- 3) อาณาจักรทวารวดี
- 4) อาณาจักรละโว้

134. รูปแบบการปกครองสมัยอยุธยา กษัตริย์มีอำนาจสูงสุดในการปกครองแผ่นดินตรงกับข้อใด

- 1) การปกครองแบบสมบูรณาญาสิทธิราชย์
- 2) การปกครองแบบพ่อปกครองลูก
- 3) การปกครองแบบประชาธิปไตย
- 4) การปกครองแบบธรรมราชา

ข้อสอบ PRE-TEST ม.1 (ห้องเรียนทั่วไป) วิชาสังคมศึกษา

135. เครื่องมือทางภูมิศาสตร์ชนิดใดที่ใช้ศึกษาการขยายตัวของเมืองเพื่อวางแผนสร้างเส้นทางคมนาคม
- 1) รูปถ่าย
 - 2) ภาพถ่ายจากดาวเทียม
 - 3) แผนที่การตั้งถิ่นฐานของประชากร
 - 4) ลูกโลกจำลอง
136. แหล่งผลิตน้ำมันปิโตรเลียมขนาดใหญ่และสำคัญของโลก ตั้งอยู่ในภูมิภาคใดของทวีปเอเชีย
- 1) ภูมิภาคเอเชียกลาง
 - 2) ภูมิภาคเอเชียตะวันออก
 - 3) ภูมิภาคเอเชียตะวันออกเฉียงใต้
 - 4) ภูมิภาคเอเชียตะวันตกเฉียงใต้
137. หากนายสมานวัดระยะทางในแผนที่มาตราส่วน 1: 50,000 ได้ 8 เซนติเมตร จะคิดเป็นระยะทางบนพื้นที่จริงเท่าใด
- 1) 4 กิโลเมตร
 - 2) 8 กิโลเมตร
 - 3) 40 กิโลเมตร
 - 4) 80 กิโลเมตร
138. “ฝนตกลงมา เทลงมา เทลงมา
 ให้น้ำตู่ห้ง นาคู่ห้ง นาคู่ห้ง
 ให้ช่งช้อยเปียก ช่งช้อยเปียก ช่งช้อยเปียก
 ให้เลื้อช้อยเปียก เลื้อช้อยเปียก เลื้อช้อยเปียก”
 จากเนื้อเพลงฝนตกลงมา เหตุการณ์ดังกล่าวจะเกิดในเดือนใดของประเทศไทยถึงจะสอดคล้องที่สุด
- 1) เดือนมกราคม
 - 2) เดือนเมษายน
 - 3) เดือนสิงหาคม
 - 4) เดือนธันวาคม

ข้อสอบ PRE-TEST ม.1 (ห้องเรียนทั่วไป) วิชาสังคมศึกษา

139. “วงแหวนแห่งไฟเป็นพื้นที่ที่ก่อให้เกิดภัยพิบัติต่าง ๆ ส่งผลกระทบต่อชีวิตและทรัพย์สิน” จากข้อความดังกล่าว ประเทศใดตั้งอยู่บริเวณดังกล่าว
- 1) ญี่ปุ่น
 - 2) อิรัก
 - 3) อินเดีย
 - 4) คาซัคสถาน
140. ข้อใดกล่าวผิดเกี่ยวกับลักษณะภูมิประเทศของไทย
- 1) ภาคกลางมีลักษณะภูมิประเทศส่วนใหญ่เป็นที่ราบ
 - 2) แอ่งโคราชจัดเป็นที่ราบลุ่มแม่น้ำในภาคตะวันออกเฉียงเหนือ
 - 3) ภาคเหนือมีเทือกเขาที่สำคัญคือเทือกเขาถนนธงชัย เทือกเขาผีปันน้ำ
 - 4) ภาคใต้มีภูมิประเทศเป็นคาบสมุทร มีที่ราบชายฝั่งทะเลขนานทั้งสองข้าง

Benjamarachalai Pre-test M.1 : 2024