

SATRIWITHAYA

Pre-test



สมาคมผู้ปกครองและครูสตรีวิทยา
ร่วมกับโรงเรียนสตรีวิทยา
จัดโครงการทดสอบพื้นฐานความรู้ ชั้นประถมศึกษาปีที่ 4- 6 (SATRIWITHAYA Pre-test)
ประเภทห้องเรียนทั่วไป

วันเสาร์ที่ 21 มกราคม พ.ศ.2566 เวลา 08.30 – 12.10 น.

ข้อสอบ ชุดที่ 1 มีจำนวน 24 หน้า

เวลา	รายวิชา	ข้อที่
08.30 – 09.15 น.	คณิตศาสตร์	1 – 20
09.15 – 09.55 น.	ภาษาไทย	21 – 50
09.55 – 10.40 น.	ภาษาอังกฤษ	51 – 80

คำชี้แจง

ข้อสอบปรนัยชนิดเลือกตอบ 4 ตัวเลือก ให้เลือกคำตอบที่ถูกต้องที่สุด เพียงคำตอบเดียวจาก
ตัวเลือก 1) 2) 3) หรือ 4) ที่กำหนดให้ เมื่อเลือกคำตอบแล้ว ใช้ดินสอ 2B ระบายคำตอบใน
กระดาษคำตอบ ดังตัวอย่างการตอบ ดังนี้

① ② ● ④

หากต้องการแก้ไขคำตอบ ให้ลบคำตอบเดิมให้สะอาด แล้วจึงระบายคำตอบใหม่

**** ห้ามใช้น้ำยาลบคำผิด ****

เพราะจะทำให้เครื่องไม่สามารถตรวจกระดาษคำตอบได้

ข้อสอบเป็นลิขสิทธิ์ของโรงเรียนสตรีวิทยา

วิชาคณิตศาสตร์

- ถนนสายหนึ่งเป็นถนนที่สั้นที่สุดในจังหวัดเชียงใหม่เสาไฟฟ้าอยู่ที่เกาะกลางถนนห่างกันต้นละ 68 เมตร ริมถนนด้านหนึ่งปลูกต้นพญาเสือโคร่งห่างกันต้นละ 119 เมตร ริมถนนอีกด้านปลูกต้นดอกบัวตองห่างกันต้นละ 102 เมตร โดยหัวถนนและท้ายถนนมีเสาไฟฟ้า ต้นพญาเสือโคร่งและต้นดอกบัวตองตรงกัน ถนนสายนี้จะมีต้นพญาเสือโคร่งและต้นดอกบัวตองจำนวนทั้งหมดกี่ต้น
 - 1) 26 ต้น
 - 2) 28 ต้น
 - 3) 35 ต้น
 - 4) 47 ต้น
- ถ้า A , B และ C เป็นจำนวนคี่บวก แล้วข้อใดต่อไปนี้เป็นจริงเสมอ
 - 1) ห.ร.ม ของ A , B คูณ ค.ร.น ของ A , B เท่ากับ AB
 - 2) ค.ร.น. ของ A , B และ C เท่ากับ ABC
 - 3) A , B และ C จะมี ห. ร. ม. เท่ากับ 1
 - 4) $AB + C$ ได้ผลลัพธ์เป็นจำนวนคี่
- ร้านเครื่องเขียนแห่งหนึ่งซื้อปากกาเจลมา 2 โหล ราคา 720 บาท ครั้งแรกขายปากกาเจลตามละ 38 บาท จำนวน 15 ด้าม ต่อมาขายปากกาเจลที่เหลือไปด้ามละ 35 บาท เมื่อร้านเครื่องเขียนขายปากกาเจลหมด ร้านเครื่องเขียนจะได้กำไรกี่บาท
 - 1) 175 บาท
 - 2) 165 บาท
 - 3) 155 บาท
 - 4) 145 บาท
- โรงงานผลิตน้ำผลไม้ ผลิตน้ำผลไม้ได้จำนวนหนึ่ง โดยผลิตน้ำผลไม้รสส้ม $\frac{1}{5}$ ของจำนวนน้ำผลไม้ทั้งหมด ผลิตน้ำผลไม้รสองุ่น $\frac{1}{2}$ ของจำนวนน้ำผลไม้รสส้ม ผลิตน้ำผลไม้รสลิ้นจี่ $\frac{2}{3}$ ของจำนวนน้ำผลไม้ที่เหลือจากการผลิตน้ำผลไม้รสส้มและรสองุ่น น้ำผลไม้ส่วนที่เหลือเป็นน้ำผลไม้รสลูเบอร์รี่ น้ำผลไม้รสลูเบอร์รี่คิดเป็นเศษส่วนเท่าไรของน้ำผลไม้ทั้งหมด
 - 1) $\frac{1}{3}$
 - 2) $\frac{9}{14}$
 - 3) $\frac{8}{21}$
 - 4) $\frac{7}{30}$

5. ห้องห้องหนึ่งมีพื้นที่ห้องเป็นรูปสี่เหลี่ยมผืนผ้ากว้าง 4.75 เมตร ยาว 5.50 เมตร ต้องการปูกระเบื้องรูปสี่เหลี่ยมจัตุรัสขนาด 20 เซนติเมตร จะต้องใช้กระเบื้องอย่างน้อยที่สุดกี่แผ่น โดยไม่นำเศษกระเบื้องที่เหลือจากการตัดมาใช้
- 1) 652 แผ่น
2) 654 แผ่น
3) 672 แผ่น
4) 674 แผ่น

6. การแสดงละครเวทีของมหาวิทยาลัยแห่งหนึ่ง จำหน่ายบัตรราคา 1,000 บาท จำนวน 200 ใบ และบัตรราคา 500 บาท จำนวน 400 ใบ ปรากฏว่าจำหน่ายบัตรราคา 1,000 บาท ได้ร้อยละ $91\frac{1}{2}$ และยังเหลือบัตรราคา 500 บาทที่จำหน่ายไม่ได้อีกร้อยละ $10\frac{3}{4}$ ค่าใช้จ่ายทั้งหมดในการจัดแสดงละครเวทีครั้งนี้เท่ากับ 300,000 บาท ผู้จัดการจะได้กำไรร้อยละเท่าใด
- 1) 20.5
2) 22.5
3) 24.25
4) 26.25

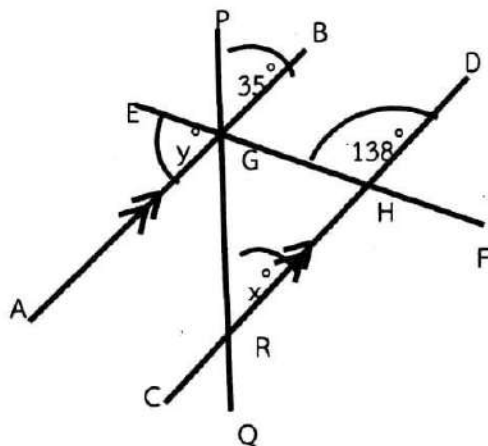
7. จงพิจารณาข้อความต่อไปนี้

ก. $\left(3\frac{1}{3} \times \frac{4}{5} \times 1\frac{1}{8}\right) < \left(4\frac{1}{2} \times 5\frac{5}{6} \times \frac{8}{15}\right)$

ข. $\{(2.68 \div 0.5) + (5 \times 3.79)\} - 13\frac{3}{50} = 11.25$

- 1) ถูกข้อ ก. เพียงข้อเดียว
2) ถูกข้อ ข. เพียงข้อเดียว
3) ถูกทั้งข้อ ก. และข้อ ข.
4) ผิดทั้งข้อ ก. และข้อ ข.

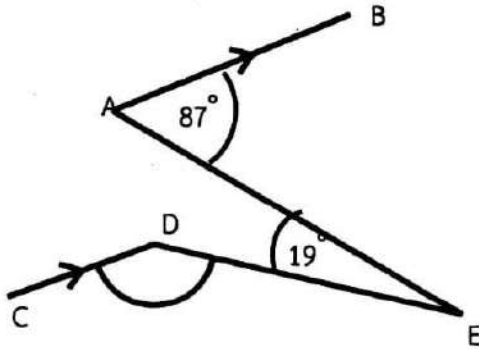
- 8.



จากรูป กำหนดให้ $\overline{AB} \parallel \overline{CD}$ ถ้ามุม PGB เท่ากับ 35° และมุม GHD เท่ากับ 138° แล้วค่าของ $y - x$ ตรงกับข้อใด

- 1) 3
2) 4
3) 7
4) 8

9.



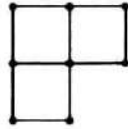
จากรูป กำหนดให้ $\overline{AB} \parallel \overline{CD}$ ถ้ามุม BAE เท่ากับ 87° และมุม AED เท่ากับ 19° แล้ว มุม CDE ตรงกับข้อใด

- 1) 68°
- 2) 87°
- 3) 93°
- 4) 112°

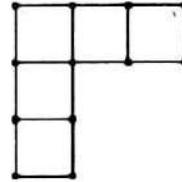
10. กำหนดแบบรูปการเรียงรูปสี่เหลี่ยมจัตุรัสดังแผนภาพต่อไปนี้



รูปที่ 1



รูปที่ 2



รูปที่ 3

ถ้าเรียงถึงรูปที่ 50 จะมีด้านของรูปสี่เหลี่ยมกี่ด้าน

- 1) 296 ด้าน
- 2) 298 ด้าน
- 3) 300 ด้าน
- 4) 302 ด้าน

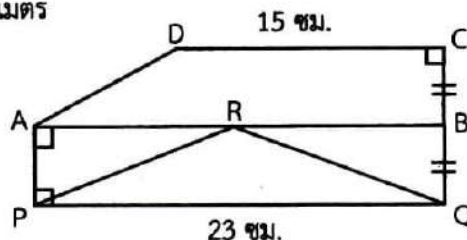
11.

A	1	2	3	4	...	29
B	5	9	13	17	...	

จากแบบรูปข้างต้น ถ้า $A = 29$ แล้ว $A + B$ มีค่าตรงกับข้อใด

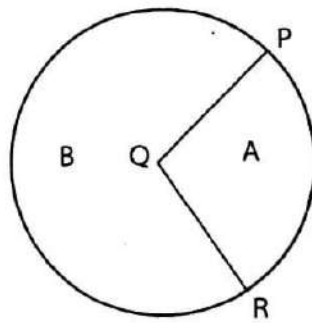
- 1) 142
- 2) 146
- 3) 150
- 4) 154

12. รูปสี่เหลี่ยมคางหมู ABCD มีพื้นที่ 95 ตารางเซนติเมตรดังรูป แล้วพื้นที่รูปสามเหลี่ยม PQR เท่ากับกี่ตารางเซนติเมตร



- 1) 46 ตารางเซนติเมตร
- 2) 47.5 ตารางเซนติเมตร
- 3) 56 ตารางเซนติเมตร
- 4) 57.5 ตารางเซนติเมตร

13.



จากรูป Q เป็นจุดศูนย์กลางของวงกลมและมีเส้นรอบวงยาว 88 เซนติเมตร

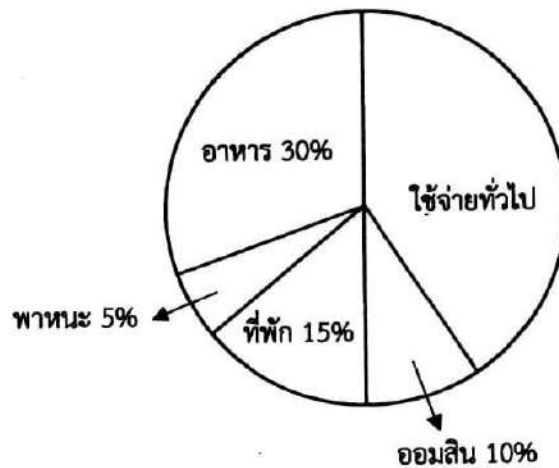
ถ้ามุมป้าน PQR ขนาด 120 องศา พื้นที่ A มีค่าตรงกับข้อใด โดยตอบเป็นทศนิยม 2 ตำแหน่ง

(กำหนดให้ $\pi = \frac{22}{7}$)

- | | |
|--------------------------|--------------------------|
| 1) 205.33 ตารางเซนติเมตร | 2) 455.67 ตารางเซนติเมตร |
| 3) 628.83 ตารางเซนติเมตร | 4) 890.25 ตารางเซนติเมตร |

14. จากแผนภูมิแสดงรายจ่ายใน 1 เดือนของอาทิตย์ ซึ่งมีรายได้ 50,000 บาทต่อเดือน ถ้าอาทิตย์นำเงินค่าใช้จ่ายทั่วไปบางส่วนไปบริจาคมูลนิธิศิริราช เดือนละ 5,000 บาท แล้วอาทิตย์จะมีเงินใช้จ่ายทั่วไปเหลือเดือนละกี่บาท


แผนภูมิมวงกลมแสดงค่าใช้จ่ายใน 1 เดือนของอาทิตย์



- | | |
|---------------|---------------|
| 1) 20,000 บาท | 2) 15,000 บาท |
| 3) 10,000 บาท | 4) 5,000 บาท |

15.

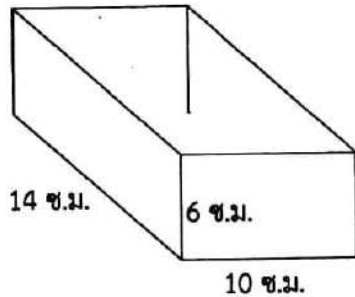
แผนภูมิแท่งแสดงจำนวนลูกค้าที่มาซื้อสินค้าจากร้านค้า 4 แห่ง
ใกล้โรงเรียนสุนกสนานวิทยา ในวันที่ 10 พฤษภาคม 2565 (หน่วย : คน)



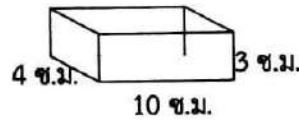
จากแผนภูมิแท่งแสดงจำนวนลูกค้าที่มาซื้อสินค้าจากร้านค้า 4 แห่ง ใกล้โรงเรียนสุนกสนานวิทยา (หน่วย : คน) ข้อใดถูกต้อง

- จำนวนลูกค้าที่มาซื้อเครื่องแบบนักเรียนที่ร้านเด็กเรียน คิดเป็น 37.93% ของจำนวนลูกค้าที่มาซื้อของร้านเด็กเรียน
 - จากจำนวนลูกค้าที่มาซื้อเครื่องเขียนในวันที่ 10 พฤษภาคม 2565 จากร้านค้าทั้ง 4 แห่ง เฉลี่ยแล้วมีค่าเท่ากับ 26 คน
 - ร้านค้าที่มียอดรวมจำนวนลูกค้าที่น้อยที่สุดคิดเป็น 27.75% ของร้านค้าที่มีจำนวนลูกค้ามากที่สุด
 - จากการขายสินค้าทั้ง 4 ร้าน พบว่าจำนวนลูกค้าที่ซื้อหนังสือน้อยกว่าจำนวนลูกค้าที่ซื้อเครื่องแบบนักเรียน
16. ธารามีจำนวนเหรียญห้าบาทต่อจำนวนเหรียญสิบบาท ในอัตราส่วน 8 : 5 ถ้าธารามีเหรียญห้าบาทมากกว่าเหรียญสิบบาทอยู่ 12 เหรียญ แล้วธารามีเงินทั้งหมดกี่บาท
- 240 บาท
 - 280 บาท
 - 320 บาท
 - 360 บาท
17. โรงงานแห่งหนึ่งผลิตสินค้าให้ร้านขายส่งได้กำไร 40% ถ้าร้านขายส่งขายให้แก่ร้านขายปลีกได้กำไร 25% และร้านขายปลีกขายได้กำไร 10% ถ้าผู้ซื้อสินค้าชนิดนี้ในราคา 1,540 บาท โรงงานแห่งนี้ลงทุนเป็นเงินเท่าไร
- 600 บาท
 - 700 บาท
 - 800 บาท
 - 900 บาท

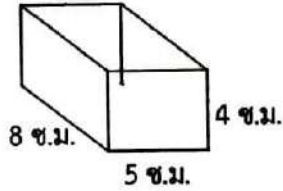
18. ภาชนะ A ภาชนะ B และภาชนะ C มีลักษณะเป็นปริซึมสี่เหลี่ยมมุมฉาก ดังรูป



ภาชนะ A



ภาชนะ B

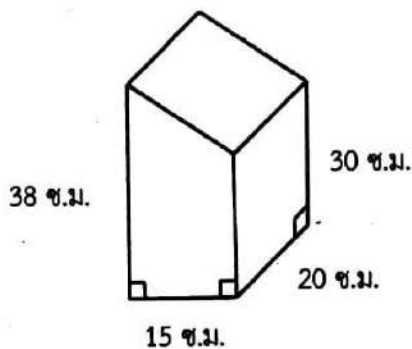


ภาชนะ C

เทน้ำจากภาชนะ A ซึ่งมีน้ำอยู่เต็มใสในภาชนะ B และภาชนะ C ที่วางเปล่าจนเต็มพอดี หลังจากเทน้ำเสร็จแล้ว จะมีน้ำเหลืออยู่ในภาชนะ A อยากทราบว่าน้ำที่เหลืออยู่จะมีความสูงกี่เซนติเมตร

- | | |
|----------------|----------------|
| 1) 4 เซนติเมตร | 2) 3 เซนติเมตร |
| 3) 2 เซนติเมตร | 4) 1 เซนติเมตร |

19.



จากรูปที่กำหนดให้ ปริมาตรของปริซึมนี้นตรงกับข้อใด

- 1) 5,100 ลูกบาศก์เซนติเมตร
- 2) 7,100 ลูกบาศก์เซนติเมตร
- 3) 10,200 ลูกบาศก์เซนติเมตร
- 4) 20,400 ลูกบาศก์เซนติเมตร

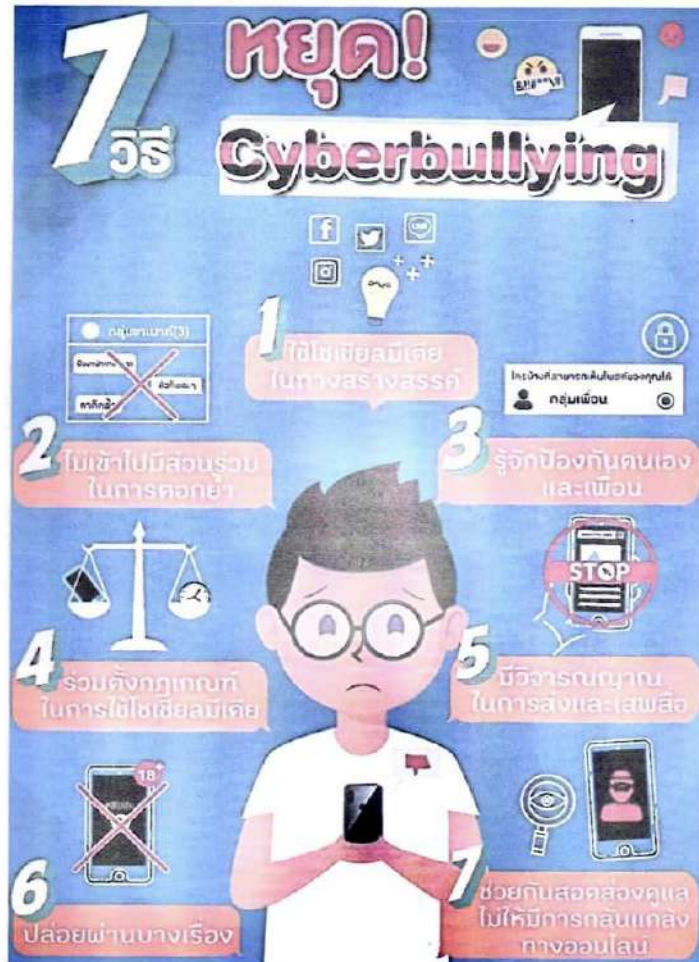
20. $\frac{3}{4}$ ของน้ำหนักแพรเท่ากับ $\frac{1}{2}$ ของน้ำหนักพลอย ถ้าพลอยหนักกว่าแพร 26 กิโลกรัม แล้วแพรจะหนักกี่กิโลกรัม

- | | |
|----------------|----------------|
| 1) 36 กิโลกรัม | 2) 40 กิโลกรัม |
| 3) 48 กิโลกรัม | 4) 52 กิโลกรัม |

วิชาภาษาไทย

21. ข้อใดใช้ภาษาเพื่อการโน้มน้าวใจที่สัมพันธ์กันมากที่สุด

- 1) เรโซเน่ ไม่ทำให้คุณผิดหวัง : ผู้ฟังรู้สึกถึงความมั่นใจในการตัดสินใจซื้อผลิตภัณฑ์
- 2) เพ็ชี่ เต็มที่กับชีวิต : ผู้ฟังรู้สึกอบอุ่นใจ นำเสนอข้อความไปในทิศทางบวก
- 3) คิดจะพัก คิดถึงคิทแลท : ผู้ฟังจำได้ง่าย กระชับและเจาะจงกลุ่มเป้าหมายชัดเจน
- 4) ปวดหัว เป็นไข้ ใช้ทาธา : การชูชื่อของผลิตภัณฑ์ รับประกันความคุ้มค่าของผลิตภัณฑ์.



22. จากข้อมูลข้างต้น ทักษะใดมีความสำคัญน้อยที่สุด

- 1) ทักษะในการรักษาอัตลักษณ์ที่ดีของตนเอง
- 2) ทักษะในการรักษาความปลอดภัยของตนเองในโลกไซเบอร์
- 3) ทักษะการคิดวิเคราะห์ด้วยปัญหาที่สามารถรู้หรือให้เหตุผลที่ถูกต้องที่ดี
- 4) ทักษะในการรับมือกับการถูกใส่ร้ายป้ายสีและให้ยอมรับผิดที่ตนไม่ได้กระทำบนโลกไซเบอร์

1) ลูกกระเบิด คือ สิ่งที่มีรูปร่างต่าง ๆ โดยมีการบรรจุดินระเบิดหรือสารเคมีบางอย่าง เมื่อเกิดการระเบิดนั้น 2) ซึ่งลูกกระเบิดบางชนิดอาจมีอำนาจในการทำลายล้างได้สูง 3) เช่น ลูกกระเบิดทำลายล้าง ลูกกระเบิดสังหาร ซึ่งบางชนิดก่อให้เกิดไฟไหม้ได้ เช่น 4) ลูกกระเบิดเพลิงและบางชนิดก็อาจก่อให้เกิดอาการระคายเคืองแก่เยื่อตา เช่น ลูกกระเบิดน้ำตา

23. ข้อความส่วนใดเป็นการแสดงความคิดเห็น

- | | |
|----------------------------|----------------------------|
| 1) ส่วนที่ 1 และ ส่วนที่ 2 | 2) ส่วนที่ 2 และ ส่วนที่ 3 |
| 3) ส่วนที่ 1 และ ส่วนที่ 3 | 4) ส่วนที่ 2 และ ส่วนที่ 4 |

“โลกเราทุกวันนี้ มีการเปลี่ยนแปลงเกิดขึ้นหลายอย่าง การตั้งตัวตั้งใจให้พร้อมรับมือกับการเปลี่ยนแปลง จึงเป็นสิ่งจำเป็นอย่างมากสำหรับทุกคนในสังคม โดยเฉพาะอย่างยิ่งเยาวชนทั้งหลาย ซึ่งจะต้องเติบโตไปเป็นกำลังสำคัญของชาติ ยิ่งต้องเร่งเรียนรู้และพัฒนาตนเองในทุก ๆ ด้าน ให้เท่าทันการเปลี่ยนแปลง ทั้งนี้ คุณสมบัติสำคัญที่ควรปลูกฝังสร้างเสริมเป็นพิเศษก็คือคุณธรรมความดี อันเป็นบ่อเกิดแห่งความเจริญงอกงามทั้งปวง เพราะเชื่อได้ว่า หากผู้ใดมีคุณธรรม เป็นเครื่องกำกับประคับประคองจิตใจและความประพฤติแล้ว ไม่ว่าจะเผชิญกับการเปลี่ยนแปลงอย่างใดก็ตาม ผู้นั้นย่อมมีสติรู้ตัว รู้ดีรู้ชั่ว รู้ว่าสิ่งใดพึงปฏิบัติ สิ่งใดพึงละเว้นและสามารถดำเนินชีวิตให้เป็นไปในทางที่ดีที่เจริญ พร้อมทั้งจรรโลงรักษาประเทศชาติ ให้ก้าวหน้ามั่นคงได้อย่างแท้จริง”

คำกล่าว นายอำพน กิตติอำพน องคมนตรี ในโอกาสที่พระบาทสมเด็จพระเจ้าอยู่หัว

ทรงพระกรุณาโปรดเกล้าฯ ให้เป็นผู้แทนพระองค์ในพิธีเปิดงานวันเยาวชนแห่งชาติ ประจำปี 2565

ณ โรงแรมเซ็นทรา บาย เซ็นทารา ศูนย์ราชการและคอนเวนชันเซ็นเตอร์ แจ้งวัฒนะ วันอังคาร ที่ 20 กันยายน 2565

24. จากข้อความข้างต้นไม่ได้กล่าวถึงสิ่งใด

- 1) แนะนำการปรับตัวให้เข้ากับสังคมในปัจจุบัน
- 2) สาเหตุของการเปลี่ยนแปลงที่เกิดขึ้นในโลกทุกวันนี้
- 3) สั่งสอนให้ทุกคนประพฤติปฏิบัติตามคุณงามความดี
- 4) คุณสมบัตพิเศษในการปลูกฝังสิ่งดีงามซึ่งเป็นบ่อเกิดความเจริญ

1) ทุกสังคมต้องการพลเมืองที่ดี เพื่อที่จะสามารถพากันไปเจอความเจริญก้าวหน้า / 2) สังคมและประเทศชาติจะมีความมั่นคง เราควรเริ่มต้นจากการปลูกฝังให้เด็กได้รู้จักหน้าที่ของการเป็นพลเมืองที่ดี / 3) โดยการมีผู้ใหญ่กระทำตนเป็นแบบอย่าง เพราะเมื่อเด็กเติบโตขึ้น / 4) พวกเขาจะได้เป็นพลเมืองที่มีคุณภาพอย่างที่คุณคนในสังคมต้องการ

25. ข้อความต่อไปนี้ส่วนใดใช้ระดับภาษาไม่เป็นทางการ

- | | |
|--------------|--------------|
| 1) ส่วนที่ 1 | 2) ส่วนที่ 2 |
| 3) ส่วนที่ 3 | 4) ส่วนที่ 4 |

ความนิยมการกินหมูกระทะยังเปลี่ยนพฤติกรรมกรรมการบริโภคเนื้อสัตว์ที่เพิ่มขึ้นอย่างมีนัยสำคัญของคนในสังคมไทย โดยเฉพาะเมื่อผนวกเข้ากับการทำตลาด แบบกินจนอิ่มราคาเดียว ความต้องการกินให้คุ้ม จึงกลายเป็นพฤติกรรมปกติธรรมดาที่คนจำนวนมากปฏิบัติ การกินหมูกระทะแบบบุฟเฟต์ไม่ได้เป็น Sustainable Consumption หรือการบริโภคอย่างยั่งยืนเลย เพราะกินเอาปริมาณ ไม่ได้กินอ้อมอย่างมีคุณภาพ ซึ่งกลายเป็นช่องว่างที่ใหญ่ขึ้นเรื่อย ๆ ในสังคมไทยที่ราคาอาหารในประเทศก็บิดเบี้ยว สะท้อนถึงระบบอาหารที่มีปัญหา การเข้าถึงแหล่งอาหารที่มีคุณภาพดีต่อสุขภาพของผู้บริโภค ควรจะเป็นสิทธิพื้นฐานของมนุษย์

ที่มา : <https://readthecloud.co/thai-barbecue>

26. จากข้อความข้างต้นข้อใดเป็นข้อเท็จจริง

- 1) การกินหมูกระทะแบบบุฟเฟต์ไม่ได้เป็นการบริโภคอย่างยั่งยืนเลย
- 2) ความต้องการกินให้คุ้มกลายเป็นพฤติกรรมปกติธรรมดาที่คนจำนวนมากปฏิบัติ
- 3) ความนิยมการกินหมูกระทะเปลี่ยนพฤติกรรมกรรมการบริโภคเนื้อสัตว์เพิ่มขึ้นอย่างมีนัยสำคัญ.
- 4) การเข้าถึงแหล่งอาหารที่มีคุณภาพดีต่อสุขภาพของผู้บริโภคควรจะเป็นสิทธิพื้นฐานของมนุษย์

27. ข้อใดไม่มีคำยืมจากภาษาอังกฤษ

- 1) วิตามินดีมีความสำคัญในการลดความรุนแรงของโรคติดเชื้อไวรัสโคโรนา
- 2) การบูลลี่จะไม่เกิดขึ้นเลยหากถูกปลูกฝังจิตสำนึก และทัศนคติที่ดีให้ตั้งแต่วัยเด็ก
- 3) วิตามินดีพบได้ในอาหารจำพวกปลา เนื้อสัตว์ นม ถั่วเมล็ดแข็ง และจากแสงแดด
- 4) คนเรียนเก่งมักจะเป็นคนที่สามารถจัดการชีวิตตัวเองได้ รู้จักการแบ่งเวลาให้เหมาะสม

28. ข้อใดเรียงลำดับวรรคได้ถูกต้องตามฉันทลักษณ์


- | |
|-----------------------------------|
| (ก) เอาไว้ใช้ใกล้ชิดไม่คิดร้าย |
| (ข) อันคนคิมีสัตย์สันทนต์เพียง |
| (ค) เขารักตายด้วยได้ด้วยใจตรง |
| (ง) ช่วยชุบเลี้ยงชูเชิดให้เฉิดฉาย |

1) (ก) - (ข) - (ค) - (ง)

2) (ข) - (ง) - (ก) - (ค)

3) (ค) - (ก) - (ง) - (ข)


4) (ง) - (ค) - (ข) - (ก)



โรงเรียนสตรีวิทยา

มาตรการอนุรักษ์พลังงานและสิ่งแวดล้อมในโรงเรียน
โครงการสตรีวิทยารวมพลังรักษ์ พื้ทศโยค

1. อาคารเรียนเปิดประตูให้นักเรียนขึ้นบนอาคารเรียน เวลา 06.30 น. และปิดประตูอาคารเรียน ทุกอาคารเวลา 16.30 น. ยกเว้นประตูอาคารเก่าทศวรรษ หน้าห้องกลุ่มบริหารวิชาการให้ปิดในเวลา 18.30 น.
2. ห้องเรียนให้เปิดเครื่องปรับอากาศเวลา 08.00 น. และให้ปิดเครื่องปรับอากาศเวลา 15.10 น.
3. ห้องพักรูให้เปิดเครื่องปรับอากาศเวลา 08.00 น. และให้ปิดเครื่องปรับอากาศเวลา 17.00 น.
4. เครื่องปรับอากาศทุกเครื่อง ให้ตั้งอุณหภูมิเครื่องปรับอากาศไม่ต่ำกว่า 26 องศาเซลเซียส
5. เครื่องทำน้ำเย็นทุกเครื่องเปิดทำความเย็นเวลา 06.00 - 15.00 น.
6. เครื่องคอมพิวเตอร์ปิดทุกครั้งเมื่อเลิกใช้งาน
7. ลิฟต์ทุกตัวเปิดปิดเวลา 06.30 - 17.00 น.
8. ปิดประตูห้องทุกครั้งหลังการเข้าออกประตู
9. กระติกน้ำร้อนให้เสียบปลั๊กเวลา 07.00-09.00 น. และเวลา 11.00-13.30 น.
10. ไม่ล้างมือที่ตู้กดน้ำดื่ม
11. ปิดก๊อกน้ำให้สนิททุกครั้งหลังการใช้งานและดูแลอุปกรณ์ให้ใช้งานได้อยู่เสมอ
12. ไม่นำอาหารขึ้นอาคารเรียน
13. หึงขยะแยกประเภทเพื่อการแปรสภาพและเพิ่มคุณค่าให้ขยะและของเสีย
14. ลดการใช้ถุงพลาสติกและงดการใช้ภาชนะโฟมภายในโรงเรียน
15. รณรงค์ลดปริมาณการปล่อยก๊าซคาร์บอนไดออกไซด์



29. บุคคลใดปฏิบัติตามมาตรการอนุรักษ์พลังงานและสิ่งแวดล้อมในโรงเรียนสตรีวิทยา

- 1) พลอยฝนมาโรงเรียนตอนเช้าเวลา 06.45 น. เปิดเครื่องปรับอากาศ 26 องศาเซลเซียส
- 2) พลอยใสเดินขึ้นอาคารเรียนตอนเวลา 06.25 น. และนำอาหารไปรับประทานในห้องเรียน
- 3) พลอยใจซื้อข้าวผัดหมูไข่ดาวจากร้านอาหารข้างนอกโดยใส่ภาชนะโฟมเข้ามาในโรงเรียน
- 4) พลอยฟ้าลงจากอาคารเรียนตอนเวลา 16.20 น. ปิดเครื่องปรับอากาศตอนเวลา 15.00 น.

30. ข้อใดใช้ภาษาเหมาะสมในการเขียนเรียงความมากที่สุด

- 1) เหตุการณ์ครั้งนั้นทำให้ชาวบ้านสนใจดูแลรักษาแม่น้ำมากขึ้นจนน้ำมีคุณภาพดีถึงเกณฑ์มาตรฐาน
- 2) เมื่อก่อนแม่น้ำนี้เกิดเน่าเสีย เนื่องจากโรงงานน้ำตาลปล่อยน้ำเสียออกมาจะหายเน่าก็ใช้เวลาเป็นหลายอาทิตย์
- 3) เมื่อ 20 ปีที่แล้ว ชาวบ้านตกกุ้งปลาจากแม่น้ำ แต่เดี๋ยวนี้ชาวบ้านใส่สารเคมีลงในน้ำ ทำให้กุ้งปลาตายแล้วช้อนไปขาย
- 4) ช่วงน้ำเน่าเป็นช่วงที่ลำบากมาก เพราะน้ำใช้ทำอะไรก็ได้ แม้การเดินทางก็ต้องใช้เส้นทางบกแทน เพราะทนกลิ่นเหม็นไม่ไหว

31. ข้อใดไม่เหมาะสมที่จะเป็นคำขวัญ

- 1) รักเมืองไทย ไปได้ทุกเดือน
- 2) ท่องเที่ยวทั่วไทย จิตใจเป็นสุข
- 3) ภาษาไทยเป็นหัวใจของทุกวิชา
- 4) หนังสือมีคุณค่า ชุมวิชาวาทศาล

เด็กชาย ป.ปลา ได้เป็นตัวแทนเยาวชนไทย เข้าร่วมแข่งขันการกระโดดเชือก แต่ไม่สามารถเข้าร่วมแข่งขันในรอบชิงชนะเลิศได้ เนื่องจากเส้นเอ็นหัวเข่าอักเสบ เด็กหญิง ป.ปิ่นทราบข่าวจึงส่งข้อความทางแอปพลิเคชัน LINE แสดงความเสียใจ ใจความว่า “ป.ปลา เราได้รู้ข่าวว่า เธอไม่ได้เข้าร่วมแข่งขันในรอบชิงชนะเลิศได้ เพราะเส้นเอ็นอักเสบ.....แต่เราจะเป็นกำลังใจให้เธอและยินดีช่วยเหลือในทุกโอกาสที่จะช่วยได้”

32. ข้อความใดเดิมในช่องว่างแล้ว เป็นการแสดงความเสียใจที่เหมาะสม

- 1) เราเสียใจด้วยนะ แต่จริง ๆ แล้วอุบัติเหตุเกิดขึ้นได้กับทุกคน คราวนี้อาจจะเป็นทีของเธอ
- 2) เราเสียใจด้วยนะ ขอให้เธอหายไว ๆ เรารู้ว่าเธอเต็มที่ที่สุดแล้ว ถือเสียว่าพาดเคราะห์หนัก
- 3) เราเสียใจด้วยนะ ป.ปลา ไม่น่าหักโหมในการซ้อมมากขนาดนี้เลย เราคิดว่าเธอคาดหวังเอาไว้มาก
- 4) เราเสียใจด้วยนะ โชคดีนะนี้ ที่เราไม่ได้เป็นแบบเธอด้วย มิอย่างนั้นอาจจะแย่ รอบหน้าเต็มทีนะ

33. ข้อใดเขียนถูกต้องตามหลักการย่อความ

- 1) การล่อยกระทงในแต่ละภาคมีเอกลักษณ์เฉพาะของแต่ละท้องถิ่น
- 2) ถึงเวลาตอนนี้ที่ประชุมสงบเงียบยิ่งกว่าเก่า เงียบจนดูเหมือนใบไม้ที่เคยไหวก็หยุดเงียบไปด้วย
- 3) อันเทวาลัย ซึ่งมีผนังคำคร่ำด้วยความชรา ประหนึ่งว่า ยินดีรับเอาแสงแดดกำลังร้อน ๆ จวนจะเลือนหายไปจากฟ้า เปรียบด้วย ชายชราได้ดื่มน้ำทิพย์แล้ว
- 4) กลับฟื้นคืนความกระชุ่มกระชวยขึ้น ฉะนั้นกลางแห่งแสงซึ่งเรื่องรองตั้งทองทาประสมกับเงาไม้ กลายเป็นสีม่วงแลดูเด่นระยับไปทุกแห่งหน

ด้วยชนกชนนีนั่นมีคุณ	ได้การดูแลรักษาามาจนใหญ่
อุมุทรป้อนข้าวมาเท่าไร	หมายจะได้ฟังพาธิดาดวง
ถ้าเราตีมีจิตคิดอุปถัมภ์	กุศลล้ำเลิศเท่าภูเขาหลวง
จะปรากฏยศยั้งสิ่งทั้งปวง	กว่าจะลุล่วงถึงซึ่งพิมาน
เทพไทในห้องสิบหกชั้น	จะช่วยกันสรรเสริญสาร
ว่าสตรีนี้เป็นยอดอุพาพาล	ได้เลี้ยงท่านชนกชนนีนี

34. ข้อใดคือสาระสำคัญของคำประพันธ์ข้างต้น

- 1) การเลี้ยงดูบิดามารดา
- 2) การสร้างชื่อเสียงเกียรติยศของสตรี
- 3) การดำเนินชีวิตตามบุญกุศลมีค่าเท่ากับภูเขา
- 4) การมีจิตใจที่ดีคิดอุปถัมภ์คนอื่นให้มีความสุข

อาหารคลีน คือ อาหารที่ทำขึ้นมาเพื่อตอบสนองใจผู้ที่รักสุขภาพ หรืออยู่ในระหว่างการควบคุมอาหาร และออกกำลังกายลดน้ำหนัก โดยเป็นการประยุกต์นำเอาอาหารสดใหม่ที่มีประโยชน์ต่อร่างกาย มาปรุงเข้าด้วยกัน โดยมีการปรุงรสให้น้อยที่สุด จนกลายเป็นเมนูใหม่ที่สามารถกินได้โดยไม่ต้องกลัวอ้วนและทำให้ประโยชน์ของอาหารคลีน มีเยอะมากบางคนอาจเข้าใจผิดว่า อาหารคลีนคือเน้นกินผักเยอะ ๆ แต่จริง ๆ แล้ว อาหารคลีนไม่ใช่อาหารที่เน้นกินผักเพียงอย่างเดียว แต่เป็นเมนูอาหารที่มีสัดส่วนสารอาหารที่เหมาะสม ทั้งโปรตีน คาร์โบไฮเดรต ลดการใช้ไขมันในการปรุงอาหาร รวมทั้งเนื้อสัตว์ที่ใช้ จะใช้เป็นเนื้อสัตว์ที่ไม่ผ่านการปรุงแต่งสังเคราะห์ใด ๆ เพราะอาหารที่ผ่านการแปรรูป ปรุงแต่งมา มักจะประกอบไปด้วยสารที่ส่งผลเสียต่อร่างกาย มีทั้งน้ำตาล โซเดียม สารกันบูด ซึ่งนำไปสู่ปัญหาสุขภาพ โรคอ้วนและไปลดประสิทธิภาพของระบบภูมิคุ้มกันของร่างกาย เป็นต้น

35. สาระสำคัญของข้อความข้างต้นคือข้อใด

- 1) การควบคุมอาหารและออกกำลังกายลดน้ำหนัก
- 2) การประยุกต์อาหารสดใหม่ที่มีประโยชน์ต่อร่างกาย
- 3) การทำอาหารแปรรูปนำมาปรับปรุงใหม่สำหรับผู้รักสุขภาพ
- 4) การทำอาหารที่เน้นกินผักเยอะ ๆ เพราะต้องการลดความอ้วน

Withdrawal ใบถอนเงิน WITHDRAWAL SLIP		
ประเภทเงินรับฝาก	วันที่ (1)	
<input type="radio"/> ออมทรัพย์	<input type="radio"/> ออมทรัพย์พิเศษ	
<input type="radio"/> ประจำ	<input type="radio"/> สัจจะออมทรัพย์	
<input type="radio"/> อื่น ๆ.....		
เลขที่บัญชี	ชื่อบัญชี	ทะเบียนสมาชิกเลขที่
[] [] [] [] [] [] [] [] [] []	(2)	
จำนวนเงิน (เป็นคำอักษร)	จำนวนเงิน (เป็นตัวเลข)	(3)
ลายมือชื่อเจ้าหน้าที่	ผู้อนุมัติ	ลายมือชื่อเจ้าของบัญชี
สำหรับมอบฉันทะ		
ข้าพเจ้า.....เจ้าของบัญชีเลขที่.....	มอบฉันทะให้.....	(4)
<input type="radio"/> บัตรประชาชน	<input type="radio"/> บัตร.....เลขที่.....	ได้รับเงินครบถ้วนแล้ว
ที่อยู่ตามบัตร.....		
เป็นผู้รับเงินจำนวนดังกล่าว และรับสมุดฝากคืนจากสหกรณ์ฯ ในการที่ข้าพเจ้าเป็นผู้รับผิดชอบเสมือนหนึ่งข้าพเจ้าได้กระทำรายการด้วยตนเองทั้งสิ้น		
.....เจ้าของบัญชี		ผู้รับมอบฉันทะ

36. หากนักเรียนต้องการถอนเงินจากบัญชีของตนเอง หมายเลขใดที่นักเรียนต้องเขียนด้วยลายมือตนเองเท่านั้น

- | | |
|----------------|----------------|
| 1) หมายเลข (1) | 2) หมายเลข (2) |
| 3) หมายเลข (3) | 4) หมายเลข (4) |

37. ข้อใดเป็นการเขียนแสดงความคิดเห็นเชิงสร้างสรรค์

- 1) “ไม่จ่ายค่าปรับก็ไม่ม่มีผลต่อการต่อทะเบียนรถ” กลายเป็นจุดอ่อนให้ผู้ทำผิดไม่เกรงกลัวแล้ว “กระทรวงคมนาคม” กลับนั่งเฉยไม่ดำเนินการแก้ไขให้สะเด็ดน้ำเสียทีจนเรื่องนี้ถกเถียงกันมานาน
- 2) “การตั้งจุดตรวจ-จุดบริการประชาชน” ต้องมีมาตรการเชิงรุกด้วยการลู่ออกจากเส้นทางไปปฏิบัติงานในชุมชน “มิใช่นั่งเฝ้าเส้นทาง” เพราะช่วงเทศกาลมักมีอุบัติเหตุจากงานรื่นเริงสังสรรค์ในหมู่บ้านเป็นหลัก
- 3) “พี่น้องประชาชน” ที่มีแผนเดินทางในช่วงเทศกาลปีใหม่ 2566 ต้องตรวจสอบความพร้อมของรถ ผู้ขับขี่ควรพักผ่อนให้เพียงพอ งดการดื่มแอลกอฮอล์ และปฏิบัติตามกฎจราจรอย่างเคร่งครัด เพื่อเราจะได้กลับภูมิลำเนา และท่องเที่ยวอยู่กับครอบครัวอย่างมีความสุข
- 4) ตอกย้ำจุดอ่อนด้วย “มาตรการตรวจจับผู้กระทำความผิดฝ่าฝืนกฎหมายจราจรด้วยกล้องวงจรปิด” ก่อนข้างเป็นปัญหาจาก “ผู้ฝ่าฝืนไม่ให้ความสำคัญเท่าที่ควร” สังเกตจากอัตราการชำระค่าปรับมีเพียง 10% เพราะประชาชนรู้ว่า “คดีความผิดตามใบสั่งมีอายุความ 1 ปีนับแต่วันเกิดเหตุ” เมื่อไม่จ่ายก็ไม่ม่มีผล

ฟ้าสวย น้ำใส ไกล่ฉัตรธรรมชาติ อย่าพลาดโอกาส เราพร้อมบริการ

38. จุดประสงค์ของข้อความข้างต้นคือข้อใด

- | | |
|-----------|-----------|
| 1) ชักชวน | 2) ชี้แจง |
| 3) แนะนำ | 4) โฆษณา |

- (1) ผลิตภัณฑ์เสริมอาหารชะลอวัยสกัดจากสาหร่ายสีแดงเข้มข้นเกรดพรีเมียมจากประเทศญี่ปุ่น
- (2) น้ำมันปลาเกรดพรีเมียม คุณค่าที่สกัดจากโอชแลนค์ แหล่งผลิตน้ำมันปลาคุณภาพระดับโลก
- (3) ช่วยตอบใจทุกปัญหาผิว ทั้งเรื่องความอ่อนเยาว์ ความชุ่มชื้นของผิว รวมถึงแก้ปัญหาริ้วรอยก่อนวัย
- (4) มีงานวิจัยทางวิทยาศาสตร์รับรอง ทำให้รู้สึกมั่นใจและปลอดภัย

39. จากข้อมูลข้างต้นหมายเลขใดมีความน่าเชื่อถือและสามารถตรวจสอบได้จริงมากที่สุด

- 1) หมายเลข 1
- 2) หมายเลข 2
- 3) หมายเลข 3
- 4) หมายเลข 4

พระบาทสมเด็จพระเจ้าอยู่หัว สมเด็จพระนางเจ้าฯ พระบรมราชินีไปทรงเยี่ยม
.....ประชวรสมเด็จพระเจ้าลูกเธอ เจ้าฟ้าพัชรกิติยาภา นเรนทิราเทพยวดี กรมหลวงราชสาริณี
สิริพัชร มหาวัชรราชธิดา ณ อาคารภูมิสิริมังคลานุสรณ์ โรงพยาบาลจุฬาลงกรณ์

40. ข้อใดเติมลงในช่องว่างได้ถูกต้องตามลำดับ

- 1) ทรงพระดำเนิน อาการ 2) เสด็จพระราชดำเนิน อาการ
- 3) ทรงพระราชดำเนิน พระอาการ. 4) เสด็จพระราชดำเนิน พระอาการ

คัดค้านผู้ใหญ่ หรือผู้มีอำนาจมากกว่าย่อมไม่สำเร็จ และอาจได้รับผลร้ายแก่ตัวอีกด้วย

41. ข้อใดมีความหมายสอดคล้องกับข้อความต่อไปนี้

- 1) เอามือชุกทืบ 2) เอาไม้ซีกไปจัดไม้ซุง
- 3) เอาทองไปรู้กระเบื้อง 4) เอาพิมเสนไปแลกกับเกลือ

ลืมนเวลาเข้าเตือนตัวเราก่อนอื่นใดทำจิตให้แจ่มใสตั้งสติมิไหลหลงงานหนักรอเราอยู่ต้องคิดผู้
อย่างวงงมุ่นมั่งปัญญายกจกสำเร็จสำเร็จการ

42. ข้อความข้างต้นถ้าเรียงวรรคถูกต้องจะเป็นคำประพันธ์ชนิดใด

- 1) กลอนหก 2) กลอนแปด
- 3) กาพย์ฉิ่ง 16 4) กาพย์ยานี 11

43. ข้อใดมีเสียงวรรณยุกต์ไม่ครบทุกเสียง

- 1) ฉันจึงเป่าคาถาเพื่อให้เธอหลงรัก
- 2) ให้ลิ้มผู้ป่าวเป็นร้อย ที่มันคอยมาทัก
- 3) และขอให้ความรักนี้ไม่มีเสื่อมคลาย
- 4) ขอให้เธอรักฉันคนเดียวตลอดไป

44. ข้อใดปรากฏคำอาการนาม

- 1) เราต้องนอนหลับพักผ่อนให้เพียงพอเพื่อสุขภาพที่ดี
- 2) การปลูกพืชในช่วงแรกยังไม่ต้องให้ปุ๋ยเพราะระบบรากยังไม่แข็งแรงพอ
- 3) ชายคนหนึ่งที่มีนิสัยตระหนี่ถี่เหนียวจนเป็นที่เลื่องลือยอมอดอยากปากแห้งเพื่อสะสมสมบัติ
- 4) เมื่อมีทรัพย์สินสมบัติมากก็ยากแก่การดูแล เขาจึงตัดสินใจขายสมบัติทั้งหมดแล้วเปลี่ยนเป็นทองคำแท่ง

45. ข้อใดเป็นประโยคสามัญ

- 1) ฉันจึงเป่าคาถาเพื่อให้เธอหลงไหล
- 2) โอ๊ะโอ๊ย ผมแค่อยากจะชวนไปที่หาด
- 3) ที่ฉันทำตัวเป็นเด็กก็เพราะว่าอยากอ้อนเธอ
- 4) เธอเป็นเหมือนเมนูโปรดที่ฉันไม่เคยเบื่อสักวัน

46. ข้อใดมีบทขยายกรรม

- 1) น้ำยาปรับผ้านุ่มมีกลิ่นหอมอ่อน ๆ ของดอกไม้ 3 ชนิด
- 2) ฉันออกกำลังกายอย่างสม่ำเสมอเพื่อจะได้มีร่างกายที่แข็งแรง
- 3) ต้นไม้หลังบ้านกำลังออกดอกบานเต็มต้นราวกับจะต้อนรับฤดูหนาว
- 4) ชาร้อนที่คุณพอกำลังดื่มมีกลิ่นหอมอ่อน ๆ ช่วยให้ผ่อนคลายระหว่างวันได้

ใช้คำประพันธ์ต่อไปนี้ตอบคำถามข้อ 47 - 48

ประพุดิตนเป็นคนดีที่ควรรับ ดำเนินชีวิตได้ไร้จาบัลย์ เมื่อท่านล่วงลับไปได้กอบปรก น้อมรำลึกถึงพระคุณที่หนุนนำ	ทุนทรัพย์มรดกไม่ผกผัน ตั้งประกันชีวิตใกล้ขีดธรรม เพื่ออุทิศกุศลให้ได้งามช้า โดยเน้นย้ำกตัญญูซาคุณ เกษม สันทอง
--	---

47. คำประพันธ์ข้างต้นให้ข้อคิดในเรื่องใด

- 1) การใช้ชีวิตด้วยธรรมะ
- 2) การประพุดิตและรู้คุณพ่อแม่
- 3) การอุทิศส่วนกุศลให้แก่ผู้ล่วงลับ
- 4) การประพุดิตนเป็นคนดีจะได้รับทรัพย์สิน

48. จากบทร้อยกรองนี้ผู้เขียนมีจุดมุ่งหมายใด

- | | |
|------------|-------------|
| 1) สั่งสอน | 2) แนะนำ |
| 3) ขอร้อง | 4) ตักเตือน |

“การเรียนรู้ในเรื่องราววิชาการสาขาต่าง ๆ โดยกว้างขวางเป็นเหตุให้เกิดความรู้ ความคิดและความฉลาด ซึ่งเป็นปัจจัยสำคัญที่สุดสำหรับชีวิต ช่วยให้บุคคลสามารถสร้างประโยชน์สุขสร้างความเจริญมั่นคงให้แก่ตนเอง ทั้งแก่สังคมและบ้านเมืองอันเป็นที่พึ่งอาศัยได้ ทุกคนจึงควรมีโอกาสที่จะศึกษาความรู้ได้ตามความประสงค์ และกำลังความสามารถโดยทั่วกัน”

49. สาระสำคัญของข้อความข้างต้นคือข้อใด

- | | |
|--------------------------------|--|
| 1) ปัจจัยที่สำคัญในชีวิต | 2) การเรียนรู้ทำให้เกิดความคิด |
| 3) การรู้จักทำประโยชน์ให้สังคม | 4) ทุกคนมีโอกาสที่จะได้รับความรู้เท่ากัน |

- | | |
|---------------------------|------------------------------|
| 1. ประวัติการก่อสร้าง | 2. ความหมาย |
| 3. ที่ตั้ง | 4. ความสำคัญทางประวัติศาสตร์ |
| 5. การอนุรักษ์และการบูรณะ | |

50. ข้อใดจัดเรียงลำดับการทูลรายงานเรื่อง “อนุสาวรีย์ประชาธิปไตย” ได้ถูกต้อง

- | | |
|--------------|--------------|
| 1) 1 3 2 5 4 | 2) 3 2 1 4 5 |
| 3) 4 3 1 2 5 | 4) 3 1 2 4 5 |

วิชาภาษาอังกฤษ

Part A: Conversation

Instructions: Complete the conversation with the correct answers. (Items 61-64)

Dialogue 1: At the airport

Agent:	Good afternoon! Where are you flying to today?
Dan:	Los Angeles.
Agent:	_____ (51) _____
Dan:	Here you go.
Agent:	Are you checking any bags?
Dan:	Just this one.
Agent:	OK, please place your bag on the scale.
Dan:	I have a stopover in Chicago. _____ (52) _____
Agent:	No, it'll go straight through to Los Angeles. Here are your boarding passes and it'll begin boarding at 3:20 p.m.
Dan:	Thanks.

51. 1) Are you ready to go with us?
2) How long have you been here?
3) Do you have anyone to go with?
4) May I have your passport, please?
52. 1) Can I stop to travel there for a while?
2) Do I need to pick up my luggage there?
3) Can you tell the way to transit the plane?
4) Do you know where I can pick up the luggage?

Dialogue 2: At home

A: Where are the twins? I really miss them.
B: They are playing outside with their friends.
A: Alright, they look so fun. How old are they?
B: They are 7 years old. _____ (53) _____ this year.
A: Wow! I'm so excited for them.

53. 1) They are having four meals a day
2) They are too old to play at the playground
3) They look familiar but they aren't the same
4) Their parents are planning to send them to school

Dialogue 3: At school

Christ: I really love Chiang Mai. It's very freezing and wonderful in the winter.
I always go there every year.
Claire: Oh! Really? _____ (54) _____, but I plan to go there next winter.
Can you recommend the places to visit?
Christ: You should go to Doi Intanon and Doi Sutep.
Claire: Sound great! Are they beautiful?
Christ: Yes, they are so beautiful. My mom also likes them.

54. 1) I never go there
2) It sounds interesting
3) I always go there too
4) The hotels are always empty

Part B: Grammar and Vocabulary

Instructions I: Read the articles, then choose the appropriate answer to fill in each blank.

(Items 55-57)

Coachella 2023: Frank Ocean, Blackpink and Bad Bunny to headline

Bad Bunny, Blackpink and Frank Ocean will headline the 22nd Coachella music festival in April, organizers announced on Tuesday. Bad Bunny, the Puerto Rican singer and rapper _____ (55) _____ born in Benito Antonio Martínez Ocasio, will be the first Latino artist and first Spanish-language _____ (56) _____ to ever headline North America's largest music festival, while Blackpink, the K-pop supergroup, will be the first Korean act and first all-female group to headline. The band _____ (57) _____ the first Korean all-female group to play the festival in 2019.



- | | |
|--------------------|-----------------|
| 55. 1) whom was | 2) who was |
| 3) whose were | 4) which was |
| 56. 1) performer | 2) photographer |
| 3) producer | 4) dancer |
| 57. 1) is becoming | 2) becomes |
| 3) became | 4) has become |

Online platforms and apps

Online platforms and apps are popular ways to buy _____ (58) _____ clothes. Users upload pictures of clothes that they own and sell them directly to other users. It's better for planet: why throw something away when you can still wear it? The apps are easy to use, and you can shop from your sofa! The clothes are usually _____ (59) _____ charity shops and car boot sales, but you _____ (60) _____ be careful. There are sometimes _____ (61) _____ sellers who take your money and they don't send you the clothes.

- | | |
|---------------|----------------|
| 58. 1) luxury | 2) brand-new |
| 3) useless | 4) second-hand |

59. 1) as expensive as
3) the most expensive of
- 2) much more expensive than
4) more and more expensive
60. 1) have to 2) may 3) don't need to 4) cannot
61. 1) rude 2) loyal 3) dishonest 4) polite

Instructions II: Read the following statements and choose the best answers. (Items 62-65)

62. When we talk about white water canoeing, it is a great sport for a person who _____ to be alone and _____ for some real adventure.
- 1) loved – looked 2) loves – was looking
3) love – were looking 4) loves – is looking
63. I spent nine days working with experts at MIT. It also involved working with many amazing students from around the world. It's really special _____ that I have a connection to this _____ group of people.
- 1) think – anxious 2) to think - incredible
3) to think – incredibly 4) thinking – stressed
64. In my opinion, I think that _____ more advantages of taking a gap year for travelling _____ the students start university. And it is a very useful experience.
- 1) there are – before 2) there are – after
3) there is – before 4) there is – after
65. _____, I got an award from the Conservation Leadership Programme that _____ me to take a year off university to work for Wildlife Conservation Society (WCS).
- 1) At 2008 – allowing 2) Since 2008 – allows
3) In 2008 – allowed 4) From 2008 – allow

Instructions III: Choose the best options. (Items 66-69)

66. Which of these sentences is CORRECT?
- 1) Many deer is found living in the rain forest.
2) The mother of my husband is my mother-in-law.
3) Jeejie and Jaja loves to eat Italian food at Centara.
4) I didn't busy last Monday. I just didn't want to see him.

67. Which of these sentences is **CORRECT**?

- 1) She both speak and write German very well.
- 2) Zara's shop are located between two high buildings.
- 3) I was having a beautiful dream when the alarm clock rang.
- 4) Ella broke her arm when she was riding a bike since Christmas.

68. Which of these sentences is **INCORRECT**?

- 1) What time did you have to be at school?
- 2) She sent to her teacher a beautiful Christmas card.
- 3) A band performs their show in front of a lot of audiences.
- 4) The law states that smoking is forbidden in most public areas.

69. Which of these sentences is **INCORRECT**?

- 1) Mr. Jones speak French to the housemaid.
- 2) There is a lovely girl with a little bird in a garden.
- 3) My brother's restaurant is always busy at lunchtime.
- 4) Devi brought some cupcakes to her friend's birthday party.

Instructions IV: Choose the underlined part that is grammatically wrong. (Items 70-74)

70. Do you know (1) how many emails I get? About 50 (2) every day. I (3) spend three hours answering (4) it every afternoon.
71. Two (1) most famous animated characters of Aardman Animations (2) are Wallace and Gromit. Wallace is an inventor who (3) invent (4) a lot of crazy things, and Gromit is his dog and best friend.
72. (1) The 37th Golden Disc Awards, Korea's largest music awards ceremony, was held (2) in January 7, 2023 (3) at Rajamangala National Stadium (4) in Bangkok.
73. *Avatar: The Way of Water* (1) has earned over \$1.7 (2) billions globally (3) and currently (4) ranks as the seventh-highest grossing film ever.
74. We (1) regularly hear news stories about pollution and climate change. Although many people believe that humans are (2) responsible for this destruction, (3) but there are also many people who are trying (4) hard to protect the environment, too.

Part C: Reading

Instructions I: Choose the correct answers. (Items 75-77)

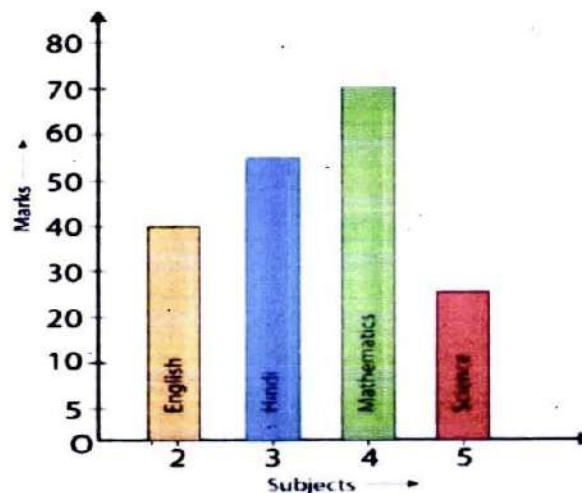


TIME	Monday	Tuesday	Wednesday	Thursday	Friday
8.30-9.30	Maths	PE	Geography	History	French
9.30-10.30	English	chemistry	Maths	English	PE
10.30-11.30	History	PE	French	French	Maths
11.30-12.00	BREAK				
12.00-13.00	Art	Music	Science	Music	History
13.00-14.00	LUNCH				
14.00-15.00	Chemistry	Computers	Theatre	Study	Tutorial

75. From the school summer course for Jane's school. If Jane wants to study PE and Maths in the same day, which day will Jane choose?

- 1) Monday 2) Tuesday 3) Wednesday 4) Friday

76. The given bar graph shows the marks obtained by students in four different subjects.



From the chart, which subject do the students get poorest marks?

- 1) English 2) Hindi 3) Mathematics 4) Science

77. What is NOT TRUE according to the sign?



- 1) This sign can be found everywhere on construction sites.
- 2) This sign is located upon a site where the construction is in progress.
- 3) This sign is used to inform that ordinary people cannot enter the area.
- 4) This sign warns authorized personnel to keep out of the construction area.

Instructions II: Read the article and choose the best answers. (Items 78-80)

In the past, people usually learned how to cook from their parents, or they read the recipes in a cookbook. Once a week, they wrote a shopping list and then went to the supermarket to buy their food for the week. Today, people are learning about and preparing food in many different ways. They watch videos on YouTube, they find recipes on the internet, they share photos on social media and they order their food online.

But how will we prepare our food in the future? By 2040, we will probably have smart cameras in our cupboards and in our fridges. They will look at our food and then send us recipes. For example, imagine that you have some tomatoes, an onion, some potatoes and some eggs. Your smart camera will look at these ingredients and send you a recipe for a delicious Spanish omelette. Oh ... but you need some butter. No problem, the smart camera will automatically order it online, and it will be at your home an hour later. Perhaps you'd prefer to go to the shop to choose your own ingredients. In the future, you will choose the food at the supermarket, put it in your trolley and then just walk out. The technology in the trolley will weigh your food, calculate the price and automatically take the money from you. But some things won't change. Food is part of our daily life and our culture. We will probably always enjoy sharing a meal with our family and talking about our favourite food.

78. What is the reading mainly about?

- 1) the modern of technology
- 2) the food of the future
- 3) how to make any food through online
- 4) the change of food in the future

79. What does the word 'recipes' in line 2 mean?

- 1) to have a very pleasant taste or smell
- 2) to suggest that a particular action should be done
- 3) a set of instructions telling you how to prepare and cook food
- 4) the kinds of something that include in the food when we make food

80. Which statement is NOT mentioned in the text?

- 1) The smart camera will be used in the fridges.
- 2) People will be enjoying sharing the menu to their family.
- 3) The camera will look at our food and send people the recipes.
- 4) The technology in the trolley will not weigh some food for us.

SATRIWITHAYA

Pre-test



สมาคมผู้ปกครองและครูสตรีวิทยา
ร่วมกับโรงเรียนสตรีวิทยา
จัดโครงการทดสอบพื้นฐานความรู้ ชั้นประถมศึกษาปีที่ 4-6 (SATRIWITHAYA Pre-test)
ประเภทห้องเรียนทั่วไป

วันเสาร์ที่ 21 มกราคม พ.ศ.2566 เวลา 08.30 – 12.10 น.

ข้อสอบ ชุดที่ 2 มีจำนวน 13 หน้า

เวลา	รายวิชา	ข้อที่
10.45 – 11.30 น.	วิทยาศาสตร์	1 – 30
11.30 – 12.10 น.	สังคมศึกษา	31 – 60

คำชี้แจง

ข้อสอบปรนัยชนิดเลือกตอบ 4 ตัวเลือก ให้เลือกคำตอบที่ถูกต้องที่สุด เพียงคำตอบเดียวจากตัวเลือก 1) 2) 3) หรือ 4) ที่กำหนดให้ เมื่อเลือกคำตอบแล้ว ใช้ดินสอ 2B ระบายคำตอบในกระดาษคำตอบ ดังตัวอย่างการตอบ ดังนี้

① ② ● ④

หากต้องการแก้ไขคำตอบ ให้ลบคำตอบเดิมให้สะอาด แล้วจึงระบายคำตอบใหม่

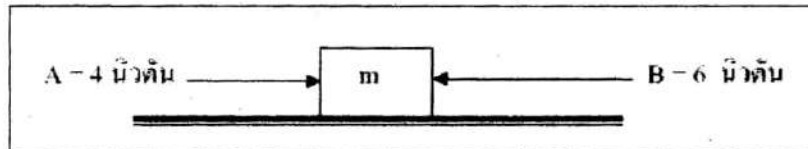
**** ห้ามใช้น้ำยาลบคำผิด****

เพราะจะทำให้เครื่องไม่สามารถตรวจกระดาษคำตอบได้

ข้อสอบเป็นลิขสิทธิ์ของโรงเรียนสตรีวิทยา

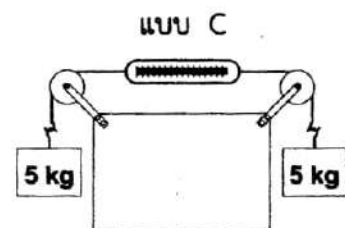
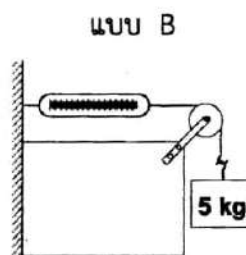
วิชาวิทยาศาสตร์

- โยนลูกบอลขึ้นตามแนวตั้ง โดยวัดความเร็วขณะหลุดจากมือตอนโยนขึ้นได้ 20 เมตรต่อวินาที เมื่อลูกบอลลอยขึ้นไปถึงตำแหน่งที่สูงสุด ลูกบอลจะมีความเร็ว ณ ตำแหน่งสูงสุคนั้นเท่าใด
 - 0 เมตรต่อวินาที
 - 20 เมตรต่อวินาที
 - 10 เมตรต่อวินาที
 - 40 เมตรต่อวินาที
- เมื่อเตะฟุตบอลโด่งขึ้นไปบนอากาศ แรงใดที่ทำให้ลูกฟุตบอลตกลงสู่พื้น
 - แรงจากเท้าที่เตะ
 - แรงระหว่างเท้ากับลูกฟุตบอล
 - แรงโน้มถ่วงของโลก
 - แรงต้านของอากาศ
- รูปแสดงขนาดและทิศทางของแรง A และ B ที่กระทำต่อวัตถุมวล m ที่จุดศูนย์กลางมวล เป็นดังรูป



ถ้าออกแรง A และ B พร้อมกัน แรงลัพธ์มีขนาดและทิศทางเป็นไปตามข้อใด

- 2 นิวตัน ในทิศทางของแรง A
 - 2 นิวตัน ในทิศทางของแรง B
 - 6 นิวตัน ในทิศทางของแรง B
 - 10 นิวตัน ในทิศทางของแรง B
- ถ้านำมวล 5 กิโลกรัม ติดไว้ที่ปลายเครื่องซึ่งสปริงเบาเหมือนกันทุกประการ 3 อัน แล้วต่อกันตามแบบ A, B และ C ดังรูป



ข้อความใดกล่าวถูกต้องที่สุด

- แบบ A อ่านค่าได้มากที่สุด
 - แบบ B อ่านค่าได้มากที่สุด
 - แบบ C อ่านค่าได้มากที่สุด
 - ทั้งสามแบบอ่านค่าได้เท่ากัน
- ดวงอาทิตย์เป็นดาวฤกษ์ที่มีมวลมากที่สุดอยู่ในระบบสุริยะซึ่งอยู่ในกาแล็กซีใด
 - Milky way
 - White Elephant way
 - Solar way
 - Andromeda

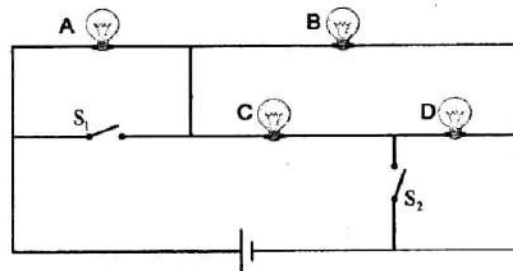
6. ข้อใดอธิบายเกี่ยวกับดาวฤกษ์ได้ถูกต้อง

- 1) ดวงจันทร์จัดเป็นดาวฤกษ์
- 2) ดาวฤกษ์มีแสงสว่างในตัวเอง
- 3) โคจรรอบดวงอาทิตย์เช่นเดียวกับโลก
- 4) มีดาวฤกษ์อยู่มากมายนับไม่ถ้วนล้วนเป็นในกาแล็กซี่ทางช้างเผือก

7. นักเรียนคนใดวิ่งได้เร็วที่สุด

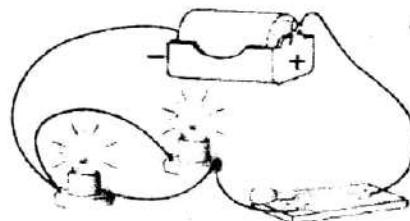
- 1) เด็กหญิงยางลพวิ่งได้ระยะทาง 50 เมตร ในเวลา 10 วินาที
- 2) เด็กหญิงดินสอวิ่งได้ระยะทาง 1 กิโลเมตรในเวลา 500 วินาที
- 3) เด็กหญิงปากกาวิ่งได้ระยะทาง 0.2 กิโลเมตรในเวลา 20 วินาที
- 4) เด็กหญิงไม้บรรทัดวิ่งได้ระยะทาง 6 กิโลเมตร ในเวลา 2 ชั่วโมง

8. จากรูปวงจร ถัดจากเฉพาะสวิตช์ S_1 หลอดไฟใดจะสว่างที่สุด และถัดจากเฉพาะสวิตช์ S_2 หลอดไฟใดจะสว่างที่สุด ตามลำดับ



- 1) B และ A
- 2) A และ B
- 3) C และ B
- 4) B และ C

9. ในการต่อวงจรดังรูป เป็นการต่อหลอดไฟฟ้าแบบใด



- 1) ผสม
- 2) สลับ
- 3) ขนาน
- 4) อนุกรม

10. โลหะในข้อใดนำไฟฟ้าได้ดีที่สุด

- | | |
|-----------|-----------|
| 1) เงิน | 2) เหล็ก |
| 3) ทองแดง | 4) ตะกั่ว |

11. อุปกรณ์ที่เปลี่ยนพลังงานกลเป็นพลังงานไฟฟ้าคืออุปกรณ์ในข้อใด

- | | |
|--------------|--------------------|
| 1) มอเตอร์ | 2) ไดนาโม |
| 3) แบตเตอรี่ | 4) เซลล์แสงอาทิตย์ |

12. ปัจจัยใดที่มีผลกระทบต่อลมฟ้าอากาศน้อยที่สุด

- | | |
|-----------|----------------|
| 1) ลม | 2) ไอน้ำ |
| 3) แสงแดด | 4) ความกดอากาศ |

13. การถ่ายโอนความร้อนที่ไม่ต้องอาศัยตัวกลางคือวิธีการในข้อใด

- | | |
|------------------|------------------|
| 1) การนำความร้อน | 2) การพาความร้อน |
| 3) การกระจาย | 4) การแผ่รังสี |

14. วัตถุในข้อใดมีความหนาแน่นน้อยที่สุด

- 1) วัตถุ P มีมวล 20 กิโลกรัม และมีปริมาตร 2 ลูกบาศก์เซนติเมตร
- 2) วัตถุ Q มีมวล 70 กิโลกรัม และมีปริมาตร 700 ลูกบาศก์เซนติเมตร
- 3) วัตถุ R มีมวล 50 กิโลกรัม และมีปริมาตร 50 ลูกบาศก์เซนติเมตร
- 4) วัตถุ Q มีมวล 100 กิโลกรัม และมีปริมาตร 100 ลูกบาศก์เซนติเมตร

15. เด็กหญิงพลอยศึกษาการเจริญเติบโตของต้นไม้ชนิดหนึ่งโดยทำการทดลองเป็น 2 ชุด ดังนี้

ชุดที่ 1 ปลูกลงในแก้วกลางแจ้ง

ชุดที่ 2 ปลูกลงในไว้ในห้องมืดสนิท

ข้อใดคือตัวแปรต้น ตัวแปรตามและตัวแปรควบคุม

	ตัวแปรต้น	ตัวแปรตาม	ตัวแปรควบคุม
1)	ปริมาณแสง	สีของใบ	ชนิดของดิน, ระยะเวลา, ปริมาณน้ำ
2)	ปริมาณดิน	จำนวนกิ่งของต้นไม้	ปริมาณน้ำ, ปริมาณแสง, ปริมาณปุ๋ย
3)	ความเข้มแสง	ความสูงของต้นไม้	ปริมาณปุ๋ย, ชนิดต้นไม้, ชนิดของดิน
4)	ชนิดของต้นไม้	อัตราการเจริญเติบโตของต้นไม้	ระยะเวลา, ปริมาณดิน, ปริมาณน้ำ

16. ข้อมูลในข้อใดถูกต้องตามหลักการสังเกต

- 1) กระรอก 3 ตัว ตายอยู่ใต้ต้นมะม่วง
- 2) นกขุนทองตัวนี้พูดเก่งคงถูกฝึกมาอย่างดี
- 3) ผีเสื้อคิงกำลังกินน้ำหวานจากเกสรดอกไม้
- 4) สุนัขตัวนี้ดมมามากเจ้าของคงไม่ค่อยเอาใจใส่

17. ข้อใดกล่าวถึงวัฏจักรน้ำได้อย่างถูกต้อง

- 1) เป็นวัฏจักรที่ไม่จำเป็นต้องผ่านสิ่งมีชีวิตประเภทผู้ผลิต และผู้บริโภค
- 2) เป็นวัฏจักรที่มีแบคทีเรียเพื่อทำให้เกิดการหมุนเวียนน้ำกลับสู่ชั้นบรรยากาศ
- 3) สิ่งมีชีวิตทุกชนิดนำน้ำไปใช้ในกระบวนการสร้างอาหาร หายใจ และขับถ่าย
- 4) น้ำจากแหล่งน้ำเกิดการระเหยกลายเป็นไอน้ำ ควบแน่นกลายเป็นเมฆ ใช้ระยะเวลาที่นานที่สุด

18. สมศรียื่นหนังสือให้กับดวงอาทิตย์ในเวลาประมาณ 16.00 น. ด้านขวามือของสมศรีคือทิศใด

- 1) ทิศเหนือ
- 2) ทิศใต้
- 3) ทิศตะวันออก
- 4) ทิศตะวันตก

19. ค่าแสดงความเป็นกรด (pH) มีค่าเท่าใด

- 1) ค่าต่ำกว่า 7
- 2) ค่าสูงกว่า 7
- 3) ค่าต่ำกว่า 10
- 4) ค่าสูงกว่า 10

20. นักเรียนนำวัสดุทั้ง 4 ชนิดมาทำการทดสอบคุณสมบัติ ได้ผลดังตาราง

วัสดุ	ความยืดหยุ่น	การทนความร้อน	การนำไฟฟ้า	ความแข็ง
A	x	√	√	√
B	√	x	x	x
C	x	x	x	√
D	x	√	x	√

ข้อใดเรียงลำดับวัสดุ A, B, C และ D ได้ถูกต้องตามลำดับ

- 1) ทองคำ กระจกใส ตะกั่ว ไม้
- 2) โองมั่งกร เสื้อผ้า ตู้ไม้ ฝาอะลูมิเนียม
- 3) เหยี่ยวบาท ไหมพรม ถังพลาสติก แก้ว
- 4) แก้ว ยางรัดผม ดินสอไม้ จานกระเบื้อง

21. พิจารณากิจกรรมในชีวิตประจำวันต่อไปนี้

ก. การเผาฟืน

ค. การเกิดฝนกรด

จ. การผสมปูน ทำถนนคอนกรีต

ข. บดสารส้มแล้วนำไปต้มจนเดือด

ง. น้ำส้มสายชูผสมกับผงฟู

ฉ. การละลายผงฟูลงในน้ำเพื่อทำขนมเค้ก

ข้อใดเป็นการเปลี่ยนแปลงทางเคมี

1) ข้อ ก, ข, ค และ จ

2) ข้อ ก, ค, ง และ จ

3) ข้อ ข, ง, ฉ และ ฉ

4) ข้อ ก, ข, ค และ ฉ

22. เมื่อนำสาร A B และ C ทำการทดลอง ได้ผลดังตาราง ได้ผลดังต่อไปนี้

สาร	เติมสารละลายกรด	การละลายกับน้ำ	นำรูปติดไฟแดงไปจ่อใน บีกเกอร์หลังเติมสารละลายกรด	วัด pH ของ สารละลายที่ได้
A	เกิดแก๊ส Y	ไม่เปลี่ยนแปลง	เกิดไฟสว่าง	7
B	เกิดแก๊ส X	ละลาย	ไม่เปลี่ยนแปลง	9
C	ไม่เกิดฟองแก๊ส	ละลาย	ไม่เปลี่ยนแปลง	7

ข้อใดคือสาร A B และ C

ข้อ	A	B	C
1)	ทองแดง	ผงฟู	เกลือ
2)	แมกนีเซียม	ผงฟู	น้ำตาลทราย
3)	ลูกเห็บ	หินปูน	โลหะเงิน
4)	หินปูน	โลหะเงิน	แผ่นตะกั่ว

23. จิน่าผสมพันธุ์สุนัขเพศผู้ขนสีน้ำตาลกับสุนัขเพศเมียขนสีน้ำตาล ผลปรากฏว่าลูกสุนัขที่ได้จากการผสมพันธุ์มีทั้งลูกสุนัขที่มีขนสีขาวและลูกสุนัขที่มีขนสีน้ำตาลอย่างละ 4 ตัว ข้อใดกล่าวถูกต้อง

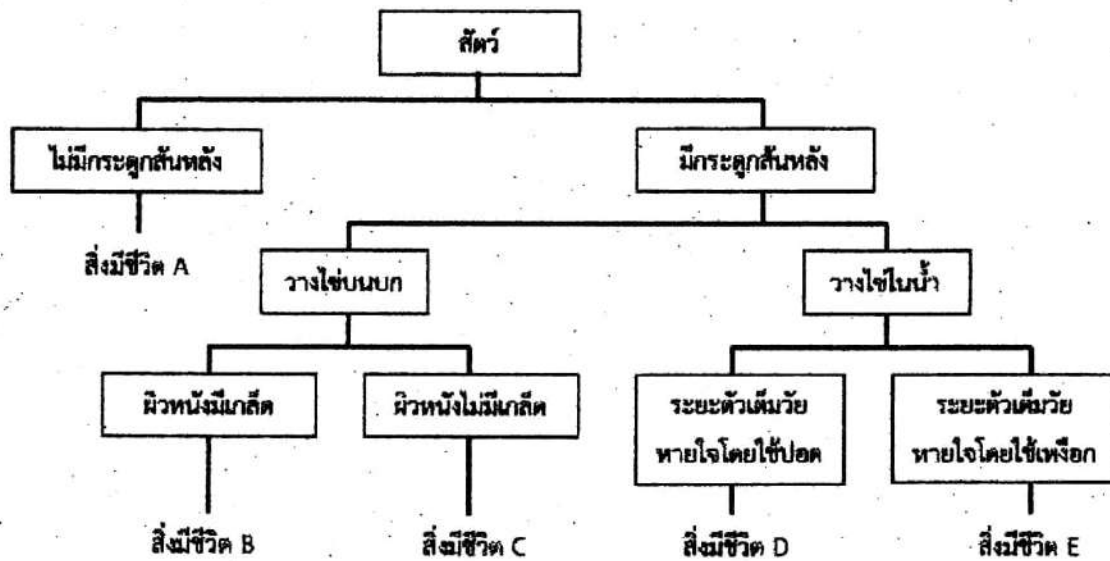
1) ลักษณะขนสีขาวเป็นยีนเด่น

2) สุนัขเพศผู้ขนสีน้ำตาลเป็นพันธุ์แท้

3) สุนัขเพศเมียขนสีน้ำตาลเป็นพันธุ์ทาง

4) ลูกสุนัขที่เกิดขึ้นจะมีสีขนเป็นแบบพันทางเท่านั้น

24. จงพิจารณาแผนผังการจำแนกสัตว์โดยใช้บางลักษณะเป็นเกณฑ์ ดังต่อไปนี้



จากแผนผังที่กำหนดให้ ข้อใดกล่าวถึงสิ่งมีชีวิต A, B, C, D และ E ได้ถูกต้อง

ข้อ	สิ่งมีชีวิต A	สิ่งมีชีวิต B	สิ่งมีชีวิต C	สิ่งมีชีวิต D	สิ่งมีชีวิต E
1)	แมลงวัน	จระเข้	นกพิราบ	คางคก	ปลาเขตร้อน
2)	ไส้เดือนดิน	กิ้งก่า	ห่าน	โลมา	เต่า
3)	หมึกกระดอง	ตุ๊กแก	อีงอ่าง	ปลาฉลาม	กิ้ง
4)	ชาลาแมนเตอร์	จิ้งจอก	ค้างคาว	กบ	แมงกะพรุน

25. ข้อใดกล่าวไม่ถูกต้องเกี่ยวกับโครงสร้างของพืชดอก

- 1) กลีบเลี้ยงอยู่ภายนอกสุดของดอก ส่วนใหญ่มีสีเขียวทำหน้าที่หุ้มและป้องกันดอกตูม
- 2) เกสรเพศเมีย แบ่งออกเป็น 2 ส่วน ได้แก่ ยอดเกสรเพศเมีย และ ก้านเกสรเพศเมีย
- 3) ก้านดอกเป็นส่วนล่างสุดของดอกที่ติดต่อกับลำต้นหรือกิ่ง หรือเป็นส่วนก้านช่อดอก
- 4) ฐานรองดอกเป็นส่วนปลายสุดของก้านดอก เมื่อออกไปทำหน้าที่รองรับส่วนต่างๆ ของดอก

26. ความสัมพันธ์ระหว่างมนุษย์กับยุงลายมีลักษณะเหมือนกับความสัมพันธ์ระหว่างสิ่งมีชีวิตในข้อใด

- 1) สิงโตกับกระทาย
- 2) ผอยทองกับต้นไม้ใหญ่
- 3) ฉลามกับเหยื่อ
- 4) ปูเสฉวนกับดอกไม้ทะเล

27. ในระบบนิเวศผู้ผลิตคือข้อใด

- 1) พืช
- 2) สัตว์
- 3) มนุษย์
- 4) แบคทีเรีย

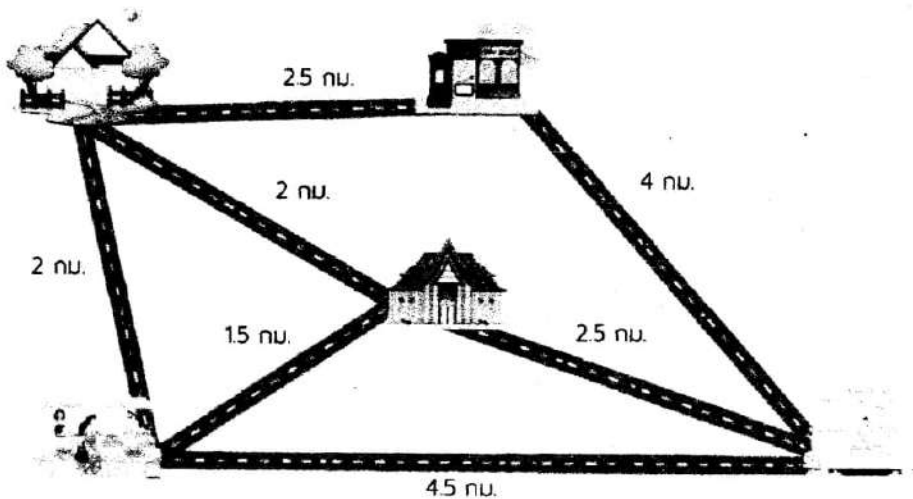
28. โรคกรดไหลย้อนเกิดจากกรดชนิดใด และมาจากอวัยวะใดในระบบย่อยอาหาร

- | | |
|-----------------------------|----------------------------------|
| 1) กรดแลคติกจากลำไส้เล็ก | 2) กรดไฮโดรคลอริกจากลำไส้เล็ก |
| 3) กรดแลคติกจากกระเพาะอาหาร | 4) กรดไฮโดรคลอริกจากกระเพาะอาหาร |

29. ข้อใดกล่าวไม่ถูกต้อง

- 1) คนไข้ที่ผ่าตัดถุงน้ำดีออกไป ควรรับประทานอาหารประเภทไขมัน
- 2) ลำไส้เล็กเป็นบริเวณที่มีการย่อยอาหารและการดูดซึมสารอาหารมากที่สุด
- 3) อาการท้องผูกเกิดจากแบคทีเรียในลำไส้ใหญ่ถูกทำลายจึงย่อยกากอาหารไม่ได้
- 4) หากไม่รับประทานไขมัน อาจทำให้ร่างกายไม่ได้รับวิตามิน A,D,E และ K จากอาหารด้วย

30. จากภาพ นักเรียนสามารถเดินทางจากบ้านไปโรงพยาบาลได้ทั้งหมดกี่วิธี



- | | |
|-----------|-----------|
| 1) 3 วิธี | 2) 4 วิธี |
| 3) 5 วิธี | 4) 6 วิธี |

วิชาสังคมศึกษา

จงพิจารณาข้อความต่อไปนี้ แล้วตอบคำถามข้อ 31 - 32

ทรงอย่างแบด แชตอย่างบอย เธอไม่อินกับผู้ชาย bad boy
 ทรงอย่างแบด แชตอย่างบอย เธอไม่รักฉันก็คงต้องปล่อย
 ไร้พ่อหนุ่ม bad boy bad boy ...
 ทรงอย่างแบด แชตอย่างบอย ปล่อยเธอไปกับไอ้หนุ่ม good boy
 เพลง ทรงอย่างแบด (Bad Boy)
 โดย เปเปอร์ เฟลนส์

31. จากบทเพลงดังกล่าว ข้อความใดตรงกับหลักธรรมอริยสัจ 4 เรื่อง ทุกข์
- | | |
|----------------|-------------------|
| 1) เธอไม่อิน | 2) ทรงอย่างแบด |
| 3) แชตอย่างบอย | 4) ผู้ชาย bad boy |
32. จากข้อความที่ขีดเส้นใต้ นักเรียนจะใช้หลักธรรมในข้อใด แก้ปัญหาตามบทเพลงดังกล่าว
- | | |
|---------------|----------------|
| 1) ศรัทธา 4 | 2) สมบัติ 4 |
| 3) อิทธิบาท 4 | 4) พรหมวิหาร 4 |
33. ข้อใดกล่าวถึงพุทธประวัติของพระพุทธเจ้าไม่ถูกต้อง
- 1) เสด็จดับขันธปรินิพพานเมื่อพระชนมายุ 80 พรรษา ณ สาละวันอุทยาน
 - 2) พระพุทธเจ้าเสด็จออกผนวชเมื่อพระชนมายุ 29 พรรษา เรียกว่า มหาภิเนษกรมณ์
 - 3) วันขึ้น 15 ค่ำเดือน 3 อธิษฐานจิตปลงอายุสังขาร เปรียบร่างกายของตนเหมือนพินแก่ 3 สาย
 - 4) ตรัสรู้ใต้ต้นพระศรีมหาโพธิ์ ณ อุรุเวลาเสนานิคม และได้ประกาศพระพุทธศาสนาเป็นเวลา 45 ปี
34. พิธีสราทธ์ เป็นการอุทิศส่วนกุศลให้แก่ดวงวิญญาณของบรรพบุรุษ จัดเป็นพิธีกรรมของศาสนาใด
- | | |
|----------------|-----------------------|
| 1) ศาสนาพุทธ | 2) ศาสนาคริสต์ |
| 3) ศาสนาอิสลาม | 4) ศาสนาพราหมณ์-ฮินดู |
35. การฝึกสติและสมาธิเป็นประจำ มีความสัมพันธ์กับข้อใด
- | | |
|--------------------------------|----------------------------------|
| 1) มีสติระลึกไว้ในพระพุทธเจ้า | 2) มีสติระลึกไว้ในความไม่ประมาท |
| 3) มีสติระลึกไว้ในการปฏิสังขาร | 4) มีสติระลึกไว้ในสถาบันการศึกษา |

36. ข้อใดกล่าวไม่ถูกต้องเกี่ยวกับวัฒนธรรมไทย
- 1) แกงไตปลา น้ำบูดู คั่วกลิ้ง เป็นวัฒนธรรมการกินพื้นเมืองของภาคใต้
 - 2) บุญบั้งไฟ ผีตาโขน ไทลเรือไฟ เป็นวัฒนธรรมประเพณีพื้นเมืองของภาคอีสาน
 - 3) กลองสะบัดชัย ชนกว่าง ฟ้อนเทียน เป็นวัฒนธรรมการเล่นพื้นเมืองของภาคเหนือ
 - 4) ข้าวซอย ขนมจีนน้ำพริก-น้ำยา ต้มยำกุ้ง เป็นวัฒนธรรมการกินพื้นเมืองของภาคกลาง
37. การที่นักเรียนจะต้องเข้าร่วมกิจกรรมเคารพธงชาติ หน้าเสาธงตามระเบียบของโรงเรียน จัดเป็นวัฒนธรรมประเภทใด
- 1) เนติธรรม
 - 2) สหธรรม
 - 3) วัตถุธรรม
 - 4) คติธรรม
38. ข้อใดคือบทบาทหน้าที่ของนายกรัฐมนตรี
- 1) พิจารณาอรรถคดี
 - 2) ตราพระราชบัญญัติ
 - 3) บริหารราชการแผ่นดิน
 - 4) วินิจฉัยคุณสมบัติของผู้ดำรงตำแหน่งทางการเมือง
39. บุคคลใดต่อไปนี้ ปฏิบัติตนถูกต้องตามกฎหมาย
- 1) น้ำฟ้า แจ้งการตายของบิดาภายใน 24 วัน
 - 2) น้ำชา เข้ารับการศึกษาเมื่ออายุย่างเข้าปีที่ 7
 - 3) น้ำหวาน แจ้งย้ายเข้าบ้านใหม่ภายใน 30 วัน
 - 4) น้ำใส ทำบัตรประชาชนครั้งแรกเมื่ออายุครบ 15 ปีบริบูรณ์
40. ข้อใดไม่ใช่ศาลที่มีอยู่ในบทบัญญัติรัฐธรรมนูญแห่งราชอาณาจักรไทย
- 1) ศาลตำรวจ
 - 2) ศาลยุติธรรม
 - 3) ศาลปกครอง
 - 4) ศาลรัฐธรรมนูญ

จงพิจารณาข้อความต่อไปนี้ แล้วตอบคำถามข้อ 41

กลุ่มนักท่องเที่ยวโดยสารเรือไปที่เกาะแห่งหนึ่ง โดยขากลับเจ้าของเรือมีสินค้าอาหารทะเลจำหน่ายให้กับนักท่องเที่ยวโดยกำหนดให้ทุกคนในเรือต้องซื้อสินค้า คนที่ซื้อสินค้าจำนวนมากจะได้โดยสารเรือกลับฝั่งได้ก่อน ทำให้นักท่องเที่ยวที่มีเงินน้อยต้องเดือดร้อน เพราะต้องขอยืมเงินผู้อื่นซื้อสินค้า มิฉะนั้น จะไม่สามารถกลับเข้าฝั่งได้

41. จากข้อความข้างต้น เป็นการละเมิดสิทธิผู้บริโภคในข้อใด
- 1) สิทธิที่จะได้รับความปลอดภัย
 - 2) สิทธิที่จะมีอิสระในการเลือกซื้อสินค้าหรือบริการ
 - 3) สิทธิที่จะได้รับความปลอดภัยจากการใช้สินค้าหรือบริการ
 - 4) สิทธิที่จะได้รับข่าวสารรวมทั้งคำพรรณนาคุณภาพที่ถูกต้อง
42. ข้อใดเป็นภาษีทางตรง
- 1) ภาษีที่รัฐจัดเก็บจากผู้ซื้อสินค้าและบริการ
 - 2) ภาษีที่รัฐเก็บจากบุคคลที่ประกอบอาชีพและมีรายได้
 - 3) ภาษีที่รัฐเก็บจากผู้ที่นำเข้าและส่งออกสินค้าจากต่างประเทศ
 - 4) ภาษีที่รัฐเก็บจากสินค้าประเภทเครื่องดื่มแอลกอฮอล์ประเภทเหล้า และบุหรี่ยี่
43. ข้อใดคือปัจจัยที่ส่งผลต่อการเลือกซื้อสินค้าและบริการของผู้บริโภคมากที่สุด
- 1) รายได้ของผู้บริโภค
 - 2) กรรมวิธีในการผลิต
 - 3) รสนิยมของผู้บริโภค
 - 4) ราคาของสินค้าและบริการ

จงพิจารณาข้อความต่อไปนี้ แล้วตอบคำถามข้อ 44

“...ท่านทั้งหลายคงจะตระหนักอยู่แล้วว่า การศึกษาเล่าเรียนเป็นเรื่องที่ไม่มีสิ้นสุด ผู้ปรารถนา
ความเจริญในการประกอบกิจการงานจะต้องหมั่นเอาใจใส่แสวงหาความรู้ให้เพิ่มพูนอยู่เสมอ มิฉะนั้นจะ
กลายเป็นผู้ที่ล้าสมัยสมรรถภาพไป...”

ที่มา : (พระบรมราชาบาทพระบาทสมเด็จพระปรมินทรมหาภูมิพลอดุลยเดช มหิตลาธิเบศร รามาธิบดี
จักรีนฤเบดินทร สยามินทราธิราช บรมนาถบพิตร ในพิธีพระราชทานปริญญาบัตรของ
มหาวิทยาลัยธรรมศาสตร์ : 23 กุมภาพันธ์ 2504)

44. ข้อความที่ขีดเส้นใต้สอดคล้องกับหลักปรัชญาของเศรษฐกิจพอเพียงข้อใด

- | | |
|-----------------|-------------------------------|
| 1) ความมีเหตุผล | 2) ความขยันอดทน |
| 3) ความพอประมาณ | 4) การมีภูมิคุ้มกันในตัวที่ดี |

45. ข้อใดเป็นกิจกรรมทางเศรษฐกิจขั้นตติยภูมิ

- | | |
|---------------------|----------------------------|
| 1) การทำประมง | 2) การทำสวนทุเรียน |
| 3) การขับรถประจำทาง | 4) การทำโรงงานเฟอร์นิเจอร์ |

จงพิจารณาข้อความต่อไปนี้ แล้วตอบคำถามข้อ 46

“นักโบราณคดีขุดค้นพบหลุมศพ ภายในหลุมพบศพมนุษย์เพศหญิงนอนหงาย เหยียดยาว ร่างกาย
ประดับด้วยลูกปัด กำไลจากเปลือกหอย นุ่งห่มด้วยผ้าทออย่างดี บริเวณใกล้ๆ พบซากเครื่องปั้นดินเผา
เครื่องมือทางการเกษตร เมล็ดพันธุ์ข้าว และกระดูกสุนัข”

46. จากหลักฐานในหลุมศพสอดคล้องกับยุคสมัยใด

- | | |
|---------------|-----------------|
| 1) ยุคหินเก่า | 2) ยุคหินใหม่ |
| 3) ยุคสำริด | 4) ยุคเหล็กกล้า |

จงพิจารณาข้อความต่อไปนี้ แล้วตอบคำถามข้อ 47

“นายทองคำ พายเรือบรรทุกน้ำตาล มาจากเมืองนครไชยศรี จำนวน 100 กระสอบ ผ่านด่านขนอน
ต้องเสียภาษี(A)..... โดยนำน้ำตาลจำนวน(B)..... จ่ายให้แก่ด่าน เพื่อเป็นค่าผ่านทางในการค้าขาย”

47. จากข้อความ (A) และ (B) ตรงกับข้อใด

- | | |
|-----------------------------|---------------------------|
| 1) (A) จังกอบ (B) 5 กระสอบ | 2) (A) ส่วย (B) 5 กระสอบ |
| 3) (A) จังกอบ (B) 10 กระสอบ | 4) (A) ส่วย (B) 10 กระสอบ |

48. ทุกกระทรวงต่อไปนี้พัฒนาการมาจากกรมโกษาธิบดี ยกเว้น ข้อใด
- 1) กระทรวงการคลัง
 - 2) กระทรวงพาณิชย์
 - 3) กระทรวงอุตสาหกรรม
 - 4) กระทรวงการต่างประเทศ
49. ประวัติศาสตร์สามารถเปลี่ยนแปลงได้ เพราะเหตุใด
- 1) ข้อมูลหลักฐานเดิมไม่น่าเชื่อถือ
 - 2) หลักฐานใหม่สามารถให้เหตุผลได้ดีกว่าอดีต
 - 3) แนวคิดของนักประวัติศาสตร์มีความแตกต่างกัน
 - 4) เรื่องราวและแนวคิดของผู้คนสามารถเปลี่ยนแปลงได้
50. ภูมิปัญญาไทยข้อใด เกิดขึ้นในสมัยกรุงธนบุรี
- 1) จารึกวัดโพธิ์
 - 2) ลิลิตตะเลงพ่าย
 - 3) สมุทรโฆษคำฉันท์
 - 4) ลิลิตเพชรมงกุฎ
51. ถ้าต้องการศึกษาข้อมูลพื้นที่ป่าไม้ในปัจจุบัน และการเปลี่ยนแปลงของพื้นที่ป่าไม้ของประเทศไทยในแต่ละปี ควรเลือกใช้เครื่องมือทางภูมิศาสตร์ใดจึงจะเหมาะสมและครอบคลุมมากที่สุด
- 1) แผนที่ป่าไม้
 - 2) แผนที่ภูมิประเทศ
 - 3) ภาพถ่ายทางอากาศ
 - 4) ภาพถ่ายจากดาวเทียม
52. ข้อใดกล่าวถูกต้องเกี่ยวกับทิวเขาหลวงพระบาง
- 1) เป็นทิวเขาที่วางตัวต่อกับทิวเขาเพชรบูรณ์
 - 2) เป็นพรมแดนธรรมชาติระหว่างไทยกับลาว
 - 3) เป็นต้นกำเนิดของแม่น้ำหลายสาย เช่น แม่น้ำวัง
 - 4) เป็นที่ตั้งของอุโมงค์ขุนตานในเขตอุทยานแห่งชาติดอยขุนตาล
53. สินค้าท้องถิ่นในข้อใดมีความสัมพันธ์กับภูมิภาคของไทยมากที่สุด
1. เกล็ดสินเธาว์ - ภาคใต้
 2. กระเป๋าย่านลิเกา - ภาคตะวันตก
 3. ร่มไม้กระดาดซา - ภาคตะวันออก
 4. กระเป๋าผ้าไหมแพรวา - ภาคตะวันออกเฉียงเหนือ

จงพิจารณาข้อความต่อไปนี้ แล้วตอบคำถามข้อ 54

“เมืองเกาะครึ่งร้อย พลอยแดงค่าล้ำ ระกำแสนหวาน หลังอานหมาตี ยุทธนาวีเกาะช้าง สุดทางบูรพา”

54. จากคำขวัญดังกล่าว หมายถึงจังหวัดที่มีลักษณะภูมิอากาศเป็นอย่างไร
- 1) อากาศร้อนและแห้งแล้ง
 - 2) อากาศร้อนชื้นและมีฝนตกชุก
 - 3) อากาศร้อนชื้นสลับแห้งแล้ง
 - 4) อากาศร้อนชื้นมีฝนตกตลอดปี
55. การกระทำของบุคคลใดไม่ทำลายสิ่งแวดล้อม
- 1) ปลูก ใช้น้ำฉีดวัชพืชในสวนผลไม้อย่างสม่ำเสมอ
 - 2) นามิ ใช้มูลสัตว์เป็นปุ๋ยเพื่อเร่งการเจริญเติบโตของผัก
 - 3) ฮานี เผาขยะภายในครัวเรือนเพื่อลดระยะเวลาการย่อยสลาย
 - 4) นิรา มักจะซื้อถุงพลาสติกจากห้างสรรพสินค้าทุกครั้งเพื่อใส่สินค้า
56. ตราสัญลักษณ์การประชุมผู้นำเขตเศรษฐกิจภาคพื้นเอเชียแปซิฟิก (เอเปค) ประจำปี 2022 มีที่มาจากข้อใด
- 1) ชฎา
 - 2) ชะลอม
 - 3) ผ้าไหมไทย
 - 4) เครื่องเบญจรงค์
57. ประเทศจีนประกาศยกเลิกมาตรการกักตัวเข้า-ออกประเทศเมื่อใด
- 1) วันที่ 1 มกราคม 2566
 - 2) วันที่ 8 มกราคม 2566
 - 3) วันที่ 22 มกราคม 2566
 - 4) วันที่ 14 กุมภาพันธ์ 2566
58. ข้อใดจับคู่ผู้นำในเอเชียตะวันออกเฉียงใต้ที่ได้รับการเลือกตั้งในปี พ.ศ. 2565 ได้อย่างถูกต้อง
- 1) โจโก วิโดโด, มหาเธร์ โมฮัมหมัด
 - 2) สีเสียนลุง, ดาโต๊ะลิม จก โฮย
 - 3) เฟอร์ดินาน มาร์กอส จูเนียร์, อันวาร์ อิบราฮิม
 - 4) เหวียน ซวน ฟุก, สมเด็จพระอัครมหาเสนาบดีเตโชฮุนเซน
59. ประธานาธิบดีเอ็มมานูเอล มาครง และแจ็ก หม่า นักธุรกิจชาวจีน มาเที่ยวสถานที่ท่องเที่ยวบริเวณรอบโรงเรียนสตรีวิทยา คือสถานที่ใด
- 1) เสาชิงช้า
 - 2) อนุสาวรีย์ประชาธิปไตย
 - 3) สนามมวยราชดำเนิน
 - 4) วัดพระศรีรัตนศาสดาราม
60. คำทักทายในข้อใดไม่ใช่คำทักทายของประเทศที่มีอาณาเขตติดต่อกับประเทศไทย
- 1) ซินจ่าว (Xin Chao)
 - 2) สะบายดี (Sabaidee)
 - 3) มิงกาลาปา (Mingalar Par)
 - 4) ซาลามัต ดาตัง (Salamat Datang)
