

ข้อสอบเข้า ม.1 วิชาคณิตศาสตร์

ชุดที่ 1

1. ขายส้ม 7 ลูก ในราคา 5 บาท ได้เงินจำนวน 100 บาท หากขายส้มลูกละ 1 บาท จะได้กำไรเพิ่มขึ้นเป็นเงินเท่าไร

- 1) 40 บาท
- 2) 45 บาท
- 3) 50 บาท
- 4) 55 บาท

เฉลย 1) 40 บาท

วิธีทำ ได้รับเงิน 5 บาท จากการขายส้ม 7 ลูก

ได้รับเงิน 100 บาท จากการขายส้ม $\frac{7}{5} \times 100 = 140$ ลูก

หากขายส้มลูกละ 1 บาท จะได้เงิน $1 \times 140 = 140$ บาท

ดังนั้น จะได้กำไรเพิ่มขึ้น $140 - 100 = 40$ บาท

2. ชาวนาเลี้ยงควาย 32 ตัวไว้กลางทุ่งหญ้า แต่แต่ละตัวจะมีพื้นที่สำหรับกินหญ้า 42 ตารางเมตร ถ้าชาวนาเลี้ยงควายเพิ่มอีก 3 ตัว พื้นที่สำหรับกินหญ้าของควายแต่ละตัวจะลดลงกี่ตารางเมตร

- 1) 3.4 ตารางเมตร
- 2) 3.6 ตารางเมตร
- 3) 3.8 ตารางเมตร
- 4) 4.0 ตารางเมตร

เฉลย 1) 3.6 ตารางเมตร

วิธีทำ ชาวนามีพื้นที่สำหรับกินหญ้าของควายทั้งหมด $32 \times 42 = 1,344$ ตารางเมตร

ถ้าชาวนาเลี้ยงควายเพิ่มอีก 3 ตัว ชาวนามีควายทั้งหมด $32 + 3 = 35$ ตัว

ควาย 35 ตัว มีพื้นที่สำหรับกินหญ้า 1,344 ตารางเมตร

ควาย 1 ตัว มีพื้นที่สำหรับกินหญ้า $\frac{1,344}{35} = 38.4$ ตารางเมตร

ดังนั้น พื้นที่สำหรับกินหญ้าของควายแต่ละตัวจะลดลง $42 - 38.4 = 3.6$ ตารางเมตร

3. ร้านอุปกรณ์กีฬาแห่งหนึ่งกำหนดราคาของลูกบอลไว้ดังนี้

จำนวนลูก	ราคาต่อลูก
1	10
100	8
1,000	6

ถ้าโรงเรียนต้องการซื้อลูกบอลจำนวน 2,000 ลูก หากซื้อจำนวน 1,000 ลูก 2 ครั้ง จะประหยัดกว่าซื้อ 100 ลูก 20 ครั้งกี่บาท

- 1) 1,000 บาท
- 2) 2,000 บาท
- 3) 4,000 บาท
- 4) 6,000 บาท



เฉลย 3) 4,000 บาท

วิธีทำ หากโรงเรียนซื้อลูกบอลจำนวน 1,000 ลูก 2 ครั้ง

ราคาลูกบอลทั้งหมดเท่ากับ $2 \times (6 \times 1,000) = 12,000$ บาท

หากโรงเรียนซื้อลูกบอลจำนวน 100 ลูก 20 ครั้ง

ราคาลูกบอลทั้งหมดเท่ากับ $20 \times (8 \times 100) = 16,000$ บาท

ดังนั้น หากซื้อจำนวน 1,000 ลูก 2 ครั้ง จะประหยัดกว่าซื้อ 100 ลูก 20 ครั้ง

$$16,000 - 12,000 = 4,000 \text{ บาท}$$

4. ซื้อคลิปหนีบกระดาษราคาโหลละ 3 บาท นำมาขายต่อ 3 ตัวในราคา 1 บาท หากซื้อมา 12 โหล เมื่อขายหมดจะได้กำไรกี่บาท

- 1) 12 บาท
- 2) 14 บาท
- 3) 16 บาท
- 4) 18 บาท

เฉลย 1) 12 บาท

วิธีทำ ซื้อคลิปหนีบกระดาษ 12 โหล โหลละ 3 บาท ใช้เงินซื้อ $12 \times 3 = 36$ บาท

จาก 1 โหล เท่ากับ 12 ตัว

จะได้ 12 โหล เท่ากับ $12 \times 12 = 144$ ตัว

ขายคลิป 3 ตัว จะได้เงิน 1 บาท

ขายคลิป 144 ตัว จะได้เงิน $\frac{1}{3} \times 144 = 48$ บาท

ดังนั้น จะได้กำไร $48 - 36 = 12$ บาท

5. ให้ A เป็นจำนวนตัวประกอบของ 210 ที่หารด้วย 5 ลงตัว และ B เป็น จำนวนตัวประกอบของ 6006 ที่เป็นจำนวนคู่ ค่าของ $5A - 3B$ เป็นเท่าไร

- 1) 8
- 2) 4
- 3) -4
- 4) -8

เฉลย 4) - 8

วิธีทำ $210 = 2 \times 3 \times 5 \times 7$

ตัวประกอบของ 210 ที่หารด้วย 5 ลงตัว

5	$5 \times 3 = 15$	$5 \times 2 \times 3 = 30$	$5 \times 3 \times 7 = 105$
$5 \times 2 = 10$	$5 \times 7 = 35$	$5 \times 2 \times 7 = 70$	$5 \times 2 \times 3 \times 7 = 210$

ตัวประกอบของ 210 ที่หารด้วย 5 ลงตัว มีทั้งหมด 8 ตัว ได้แก่ 5, 10, 15, 30, 35, 70, 105 และ 210
จะได้ $A = 8$

$$6006 = 2 \times 3 \times 7 \times 11 \times 13$$

ตัวประกอบของ 6006 ที่เป็นจำนวนคู่

2	$2 \times 13 = 26$	$2 \times 7 \times 11 = 154$	$2 \times 3 \times 7 \times 13 = 546$
$2 \times 3 = 6$	$2 \times 3 \times 7 = 42$	$2 \times 7 \times 13 = 182$	$2 \times 3 \times 11 \times 13 = 858$
$2 \times 7 = 14$	$2 \times 3 \times 11 = 66$	$2 \times 11 \times 13 = 286$	$2 \times 7 \times 11 \times 13 = 2002$
$2 \times 11 = 22$	$2 \times 3 \times 13 = 78$	$2 \times 3 \times 7 \times 11 = 462$	$2 \times 3 \times 7 \times 11 \times 13 = 6006$

ตัวประกอบของ 6006 ที่เป็นจำนวนคู่ มีทั้งหมด 16 ตัว ได้แก่ 2, 6, 14, 22, 26, 42, 66, 78, 154, 182, 286, 462, 546, 858, 2002 และ 6006

จะได้ $B = 16$ ดังนั้น $5A - 3B = 5(8) - 3(16) = -8$

6. ข้อใดไม่ถูกต้อง

- 1) ถ้า $A = 1 + 15 \times 10$ แล้ว A เป็นจำนวนเฉพาะ
- 2) ตั้งแต่ 130 - 180 มีจำนวนเฉพาะอยู่ 10 จำนวน
- 3) $c = d + e$ ถ้า d และ e เป็นจำนวนเฉพาะแล้ว c จะเป็นจำนวนเฉพาะด้วย
- 4) $m = n \times o$ ถ้า n เป็นจำนวนเฉพาะ และ o เป็นจำนวนประกอบแล้ว m จะเป็นจำนวนประกอบด้วย

เฉลย 3) ผิด เพราะ หากกำหนดให้ $d = 1$ และ $e = 3$ ซึ่งเป็นจำนวนเฉพาะ แล้ว $c = 1 + 3 = 4$ ซึ่งไม่เป็นจำนวนเฉพาะ

วิธีทำ จำนวนเฉพาะ คือ จำนวนเต็มบวกที่มีตัวหารที่เป็นบวกอยู่ 2 ตัว คือ 1 และตัวมันเอง

จำนวนประกอบ คือ จำนวนเต็มบวกที่สามารถแยกตัวประกอบได้เป็นผลคูณของจำนวนเฉพาะ 2 จำนวนขึ้นไป

1) ถูก เพราะ $A = 1 + 150 = 151$ ซึ่งไม่มีจำนวนเต็มบวกอื่นหารลงตัว ดังนั้น A เป็นจำนวนเฉพาะ

2) ถูก เพราะ ตั้งแต่ 130 – 180 มีจำนวนเฉพาะอยู่ 10 จำนวน ได้แก่ 131, 137, 139, 149, 151, 157, 163, 167, 173 และ 179

4) ถูก เพราะ $m = n \times o$ ถ้า n เป็นจำนวนเฉพาะ และ o เป็นจำนวนประกอบ แล้ว o จะสามารถแยกตัวประกอบได้เป็นผลคูณของจำนวนเฉพาะ 2 ตัวขึ้นไป จะได้ว่า m สามารถแยกตัวประกอบได้เป็นผลคูณของจำนวนเฉพาะ 2 จำนวนขึ้นไป เช่นกัน ดังนั้น m จึงเป็นจำนวนประกอบ

7. โรงแรมแห่งหนึ่งมีรถตู้บริการรับส่งแขกดังนี้

รถตู้ A - ส่งผู้โดยสารสู่สนามบินออกจากโรงแรมทุก 120 นาที

รถตู้ B - ส่งผู้โดยสารสู่สนามบิน ออกจากโรงแรมทุก 90 นาที

รถตู้ C - ส่งผู้โดยสารสู่สนามบิน ออกจากโรงแรมทุก 45 นาที

ถ้ารถตู้ทั้ง 3 คันออกจากโรงแรมพร้อมกันครั้งแรกเวลา 6.15 น. รถตู้จะออกจากโรงแรมพร้อมกันอีกครั้งในเวลาเท่าไร

- 1) 09.50 น.
- 2) 10.45 น.
- 3) 11.30 น.
- 4) 12.15 น.



เฉลย 4) 12.15 น.

วิธีทำ หา ค.ร.น. ของ 120, 90 และ 45

$$3 \quad) \quad \underline{120 \quad 90 \quad 45}$$

$$5 \quad) \quad \underline{40 \quad 30 \quad 15}$$

$$2 \quad) \quad \underline{8 \quad 6 \quad 3}$$

$$3 \quad) \quad \underline{4 \quad 3 \quad 3}$$

$$\underline{\quad 4 \quad 1 \quad 1}$$

ค.ร.น. ของ 120, 90 และ 45 คือ $3 \times 5 \times 2 \times 3 \times 4 \times 1 \times 1 = 360$

นั่นคือ รถตู้จะออกจากโรงแรมพร้อมกันอีกครั้งในอีก 360 นาที

จาก 60 นาที เท่ากับ 1 ชั่วโมง

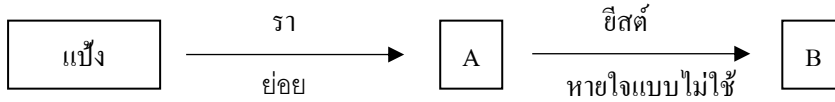
จะได้ 360 นาที เท่ากับ $\frac{1}{60} \times 360 = 6$ ชั่วโมง

ดังนั้น รถตู้จะออกจากโรงแรมพร้อมกันอีกครั้งในเวลา $6.15 + 6.00 = 12.15$ น.

ข้อสอบเข้า ม.1 วิชาวิทยาศาสตร์

ชุดที่ 2

1. จากแผนภาพ



ข้อใดสรุปถูกต้องเกี่ยวกับ A และ B

A	B
น้ำตาล	เอทิลแอลกอฮอล์
น้ำตาล	เมทิลแอลกอฮอล์
เมทิลแอลกอฮอล์	น้ำตาล
เอทิลแอลกอฮอล์	น้ำตาล

เฉลย 1) A = น้ำตาล, B = เอทิลแอลกอฮอล์

จากแผนภาพ คือ การสลายสารอาหารแบบไม่ใช้ออกซิเจน เมื่อแป้งถูกย่อยสลายโดยราจะได้น้ำตาลกลูโคสซึ่งเป็นสารตั้งต้นในกระบวนการสลายสารอาหารแบบไม่ใช้ออกซิเจน ได้ผลิตภัณฑ์เป็น เอทิลแอลกอฮอล์

2. จากตารางสรุปส่วนต่างๆของพืชดังนี้

ข้อ	ส่วนประกอบ	ประเภทโครงสร้าง
ก	ปลีกล้วย	กาบใบ
ข	หัวหอม	กาบใบ
ค	หัวมันฝรั่ง	ลำต้น
ง	หัวเผือก	ลำต้น
จ	หัวมันเทศ	ราก

จากตาราง สรุปถูกต้องกี่ข้อ

- 1) 2 ข้อ 2) 3 ข้อ 3) 4 ข้อ 4) 5 ข้อ

เฉลย 3) 4 ข้อ

ข้อ ก ผิด ปลีกล้วยเป็นส่วนของดอก

ข้อ ข ถูก หัวหอม เกิดจากกาบใบเรียงตัวเป็นชั้นๆ

ข้อ ค ถูก หัวมันฝรั่ง เป็นส่วนของลำต้นที่เรียกว่า ทูเบอร์ เกิดจากส่วนปลายของกิ่งที่พองออก ปล้องไม่ชัดเจน ไม่มีราก

ข้อ ง ถูก หัวเผือก เป็นส่วนของลำต้นที่เรียกว่า คอรัม ลำต้นอวบ กลม ยาวมีปล้องชัดเจนและมีใบเกล็ด

ข้อ จ ถูก หัวมันเทศเป็นส่วนของรากสะสม

3. ส่วนของพืชที่เรารับประทานในข้อใด เรียกว่าเอนโดสเปิร์ม


- | | |
|-----------------------------|--------------------------|
| 1) เมล็ดข้าว เนื้อมะพร้าว | 2) เมล็ดถั่ว เนื้อมะม่วง |
| 3) เนื้อมะพร้าว เนื้อมะม่วง | 4) เนื้อเงาะ เมล็ดข้าว |

เฉลย 1) เมล็ดข้าว เนื้อมะพร้าว

เมล็ดพืชใบเลี้ยงคู่ส่วนใหญ่ ไม่มี Endosperm อาหารจะถูกเก็บที่ใบเลี้ยงแทน เช่น เมล็ดถั่ว เนื้อมะม่วง และเนื้อเงาะ ส่วนที่รับประทานคือส่วนของเนื้อของผล ที่เกิดจากผนังหุ้มรังไข่



20. จากภาพ เป็นการให้ทดลองนำโลหะ 2 ชนิด คือโลหะ A และโลหะ B ที่แนบติดกันมาให้ความร้อนระยะหนึ่ง ได้ผลดังภาพ



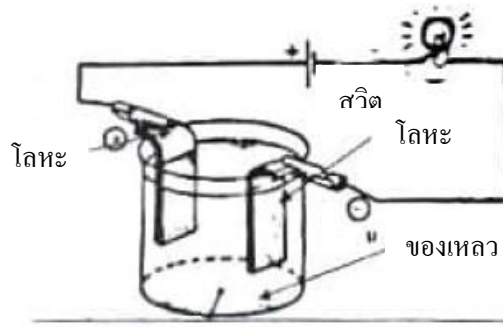
ข้อใดอธิบายการขยายตัวของโลหะได้ถูกต้อง

- 1) เมื่อได้รับความร้อนโลหะ B จะหดตัว
- 2) เมื่อได้รับความร้อนโลหะ A จะขยายตัวมากกว่าโลหะ B
- 3) เมื่อได้รับความร้อนโลหะ B จะขยายตัวมากกว่าโลหะ A
- 4) เมื่อได้รับความร้อนโลหะ A และโลหะ B ขยายตัวเท่ากัน

เฉลย 2) 30°

มุมวิกฤต คือ มุมตกกระทบของแสงซึ่งทำให้มุมหักเหเป็น 90 องศา เกิดขึ้นเมื่อแสงผ่านจากตัวกลางที่มีดรรชนีหักเหสูงไปยังตัวกลางที่มีดรรชนีหักเหต่ำกว่า ซึ่งรูปที่มีการตกกระทบของแสง แล้วเกิดมุมหักเห 90 องศา คือรูปที่ 3 ซึ่งมุมตกกระทบมีค่าเท่ากับ 30°

21. จากรูป



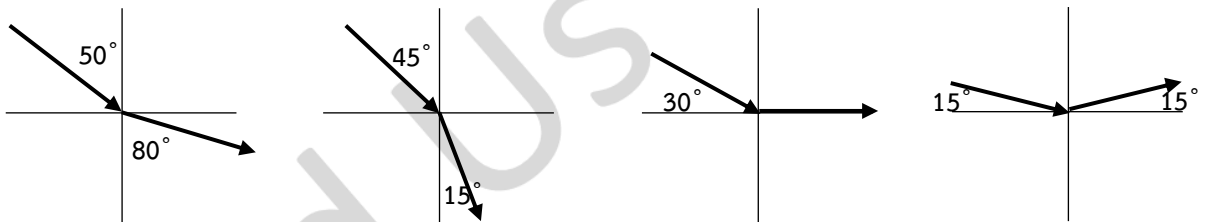
ของเหลวในข้อใดที่ใส่ไปในภาชนะแล้วหลอดไฟไม่สว่าง

- 1) น้ำกลั่น 2) น้ำกรด 3) พรอท 4) น้ำโซดา

เฉลย 1) น้ำกลั่น

ของเหลวที่ใส่ลงในภาชนะแล้วทำให้หลอดไฟสว่างจะต้องเป็นของเหลวที่มีคุณสมบัตินำไฟฟ้า ซึ่งพรอทเป็นโลหะจึงมีคุณสมบัติในการนำไฟฟ้าอยู่แล้ว ส่วนน้ำกรดและน้ำโซดาเป็นของเหลวที่มีคุณสมบัติเป็นกรดซึ่งมีความสามารถในการแตกตัวจึงจัดเป็นสาร Electrolyte ประเภทหนึ่ง

22. จากภาพแสดงการหักเหของแสง เมื่อผ่านตัวกลางที่มีดัชนีหักเหของแสงแตกต่างกัน



มุมวิกฤต มีค่าเท่าไร

- 1) 15° 2) 30° 3) 80° 4) 90°

เฉลย 2) 30°

มุมวิกฤต คือ มุมตกกระทบของแสงซึ่งทำให้มุมหักเหเป็น 90 องศา เกิดขึ้นเมื่อแสงผ่านจากตัวกลางที่มีดัชนีหักเหสูงไปยังตัวกลางที่มีดัชนีหักเหต่ำกว่า ซึ่งรูปที่มีการตกกระทบของแสง แล้วเกิดมุมหักเห 90 องศา คือรูปที่ 3 ซึ่งมุมตกกระทบมีค่าเท่ากับ 30°

ข้อสอบเข้า ม.1 วิชาภาษาอังกฤษ

ชุดที่ 4

Directions: Choose the best alternative to complete the sentences. (No. 16-20)

Scientists are closer to a cure for baldness.

This is good news for millions of bald people worldwide. Researchers have been _____ 16 _____ stem cells that can grow new hair. Their technique _____ 17 _____ been successful in _____ 18 _____ hair in a natural way. The research has _____ 19 _____ key challenges. A researcher said: "We have a robust, highly controlled method for generating natural-looking hair that _____ 20 _____ through the skin using human stem cells."

- 16. 1) develop 2) develops 3) developed 4) developing
- 17. 1) have 2) has 3) had 4) having
- 18. 1) growing 2) grows 3) grow 4) grown
- 19. 1) overcame 2) overcome 3) overcomes 4) overcoming
- 20. 1) grow 2) growing 3) grows 4) grown

คำสั่ง : เลือกคำตอบที่ถูกต้องที่สุดเพื่อทำให้ประโยคสมบูรณ์ (ข้อ 16 – 20)

นักวิทยาศาสตร์เข้าใกล้การรักษาอาการศีรษะล้านแล้ว

นี่คือข่าวดีสำหรับผู้ที่มมีอาการศีรษะล้านนับล้านคนทั่วโลก นักวิจัยได้ _____ 16 _____ พัฒนา _____ สเต็มเซลล์ที่สามารถผลิตเส้นผมใหม่ได้ เทคนิคนี้ _____ 17 V. to have _____ ประสบความสำเร็จใน _____ 18 การปลูก _____ เส้นผมแบบธรรมชาติ การวิจัยได้ _____ 19 เอาชนะ _____ ความท้าทายทั้งหลาย นักวิจัยกล่าวว่า "เรามีวิธีที่ทนทานและควบคุมได้ในการสร้างเส้นผมที่ดูเป็นธรรมชาติซึ่ง _____ 20 เติบโต _____ ผ่านผิวหนังโดยใช้สเต็มเซลล์ของมนุษย์"

16. 3) developing

เพราะเป็น Present Perfect Continuous Tense รูปประโยคคือ S + have/has + been + V.ing เพื่อแสดงความต่อเนื่องของความพยายามในการพัฒนาสเต็มเซลล์ชนิดนี้ยาวนานจากอดีตถึงปัจจุบัน

17. 3) has

เพราะเป็น Present Perfect Tense และประธานเป็นเอกพจน์ รูปประโยคคือ S + has + V.3

18. 1) growing

เพราะตามหลัง preposition "in" ต้องใช้ Gerund (V.ing)

19. 2) overcome

เพราะเป็น Present Perfect Tense รูปประโยคคือ S + have/has + V.3

20. 3) grows

เพราะตามหลัง that เป็นอนุประโยค (Subordinate clause) ต้องใช้ V.1 ประธานเป็นนามนับไม่ได้ (hair)

Directions: Choose the best alternative to complete the sentences. (No. 21-25)

Eating nuts could help us to keep slim

21. New research says _____ nuts could be a valuable, tasty, and nutritious slimming aid.

- 1) eat 2) eats 3) eating 4) ate

คำสั่ง : เลือกคำตอบที่ถูกต้องที่สุดเพื่อทำให้ประโยคสมบูรณ์ (ข้อ 21 – 25)

การบริโภคถั่วช่วยให้เราผอมลงได้

งานวิจัยชิ้นใหม่ระบุว่า _____ ถั่วอาจจะเป็นหนทางที่ช่วยให้เราผอมได้แบบมีคุณค่าทางโภชนาการ และยังอร่อยอีกด้วย

เฉลย 3) eating = การกิน

เพราะตามหลัง Verb แท้ “says” ต้องใช้ Gerund (V.ing)

22. Researchers from Harvard University recommended that people replace a _____ unhealthy snack with a small handful of nuts to slow down weight gain.

- 1) diary 2) today 3) day 4) daily

นักวิจัยจากมหาวิทยาลัย Harvard แนะนำว่าให้รับประทานถั่วหนึ่งกำมือทดแทนขนมที่ไม่ดีต่อสุขภาพ _____ เพื่อชะลอการเพิ่มขึ้นของน้ำหนัก

เฉลย 4) daily = รายวัน, ประจำวัน, ในแต่ละวัน

เพราะอยู่หน้า unhealthy (Adj.) จึงต้องเป็น Adv.

23. The researchers found that people who ate just 1 g of nuts every day gained less weight than _____ who ate another snack.

- 1) they 2) them
3) their 4) those



นักวิจัยพบว่าคนที่กินถั่ว 1 กรัมทุกวันมีน้ำหนักเพิ่มขึ้นน้อยกว่า _____ ที่กินขนมชนิดอื่น

เฉลย 4) those = พวกเขาเหล่านั้น

เพราะ การเปรียบเทียบสิ่งหนึ่งกับอีกสิ่งหนึ่ง สิ่งที่ถูกเปรียบเทียบจะใช้คำว่า that/those ซึ่งในที่นี้ เป็นการเปรียบเทียบ “ผู้คน (people)” ซึ่งเป็นนามพหูพจน์

24. The people who ate the nut _____ less likely to become fat, but the benefits to our weight could be quite small

- 1) were 2) was 3) is 4) am

คนที่กินถั่ว _____ V.to be _____ มีแนวโน้มที่จะอ้วนน้อยกว่า แต่ความแตกต่างนี้อาจมีค่าน้อยมาก

เฉลย 1) were

เพราะกล่าวถึงคนที่เข้ารับการทดสอบ (ประธานเป็นพหูพจน์) และเป็นเหตุการณ์ในอดีต (สังเกตคำว่า ate)

25. The scientists said swapping chocolate, cakes, _____ potato chips with nuts could help prevent a weight gain of just 0.4 to 0.7 kg over four years.

- 1) but 2) for 3) and 4) so

นักวิทยาศาสตร์กล่าวว่า การกินถั่วแทน ช็อกโกแลต เค้ก _____ มันฝรั่งทอด สามารถช่วยป้องกันการเพิ่มขึ้นของน้ำหนักได้เพียง 0.4-0.7 กิโลกรัมเท่านั้นในระยะเวลา 4 ปี

เฉลย 3) and = และ

เพราะ ช็อกโกแลต เค้ก และมันฝรั่งทอด เป็นประธานที่มีความหมายสอดคล้องกัน

Directions: Read the following sentences and choose the underlined part that is grammatically wrong. (No. 26-30)

Sugar Overdose Warning for Coffee Chain Festive Drinks

26. A health group has (1) warned people to be careful about how (2) many sugar (3) is in their drinks when they (4) go to coffee shops.

คำสั่ง : อ่านข้อความต่อไปนี้และเลือกคำตอบที่ไม่ถูกต้องทางไวยากรณ์ (ข้อ 26 - 30)

ปริมาณน้ำตาลเกินจากเครื่องดื่มในงานเฉลิมฉลอง

เฉลย 2) many

เพราะขยายคำว่า “sugar” ซึ่งเป็นคำนามนับไม่ได้ ต้องแก้เป็น much

องค์กรด้านสุขภาพออกคำเตือนผู้คนให้ระมัดระวังเกี่ยวกับปริมาณน้ำตาลมหาศาลในเครื่องดื่มจากคาเฟ่

27. (1) Many cafes in the UK are (2) adding extra sugar and syrup to (3) their drinks in the run-up to Christmas. The health group is (4) calling Action on Sugar (AOS).

เฉลย 4) calling

เพราะเป็น Passive Voice รูปประโยคคือ S + V.to be + V.3 ต้องแก้เป็น called
คาเฟ่หลายแห่งในประเทศอังกฤษได้เพิ่มปริมาณน้ำตาลและน้ำเชื่อมในเครื่องดื่มที่จำหน่ายในช่วงเทศกาลคริสต์มาส องค์กรนี้ถูกเรียกว่า “Action on Sugar (AOS) (องค์กรรณรงค์ลดเครื่องดื่มที่มีปริมาณน้ำตาลสูง)”

28. It carried out research on how sweet hot drinks (1) were in coffee chains around the country. It (2) finding that (3) some lattes and hot chocolates (4) contained as much as 23 spoons of sugar.

เฉลย 2) finding

เพราะเป็น Past Simple Tense ต้องแก้เป็น found
องค์กรนี้ทำงานวิจัยเกี่ยวกับปริมาณความหวานของเครื่องดื่มกาแฟร้อนที่จำหน่ายในคาเฟ่ทั่วประเทศ พบว่าเครื่องดื่มลาเต้และช็อกโกแลตร้อนจากคาเฟ่บางแห่งมีปริมาณน้ำตาลสูงถึง 23 ช้อนโต๊ะ

29. It (1) analyzed over 200 different (2) drinks. The researchers said (3) they found “shockingly” high levels of sugar in (4) much of the drinks.

เฉลย 4) much

เพราะขยายคำว่า “drinks” ซึ่งเป็นคำนามนับได้พหูพจน์ ต้องแก้เป็น many
องค์กรนี้ได้วิเคราะห์เครื่องดื่มมากกว่า 200 แก้ว พบว่าเครื่องดื่มหลายชนิดมีปริมาณน้ำตาลสูงอย่างน่าตกใจ

30. (1) An AOS spokesperson said people (2) with obesity, diabetes, and other health conditions (3) needed to check what they (4) was drinking.

เฉลย 4) was

เพราะเป็น Past Continuous Tense และประธานเป็นพหูพจน์ ต้องแก้เป็น were
ตัวแทนจากองค์กร AOS กล่าวว่า คนที่มีภาวะน้ำหนักเกิน หรือป่วยเป็นเบาหวานหรือโรคอื่นๆ ควรตรวจสอบปริมาณน้ำตาลในเครื่องดื่มที่พวกเขา กำลังดื่มอยู่ด้วย



ข้อสอบเข้า ม.1 วิชาภาษาไทย

ชุดที่ 2

22. จากคำประพันธ์ต่อไปนี้แสดงว่าสังคมให้ความสำคัญด้านใดมากที่สุด

"...แม้มีตัวใหญ่เพียง
สูงเจ็ดลำตาลสา-
พงศ์พันธุ์เผ่าจันทรา
ครั้นว่าไร้ทรัพย์แล้

ภูผา
มารดแท้
สุริยศ กิติ
ทั่วหล้าฤเห็น "

- | | |
|----------------------|-------------------|
| 1) รูปลักษณ์ | 2)ชาติตระกูล |
| 3) ความรู้ความสามารถ | 4)ฐานะทางเศรษฐกิจ |

เฉลย 4) ฐานะทางเศรษฐกิจ

เพราะ ประเด็นหลักอยู่ที่วรรคสุดท้าย ไม่ว่าจะมรูปร่างหน้าตาที่ดีเพียงไร ความรู้ความสามารถเก่งกล้า หรือชาติตระกูลที่เพียบพร้อม แต่หากไม่มีทรัพย์สินเงินทอง ผู้คนมักมองไม่เห็นคนๆนั้น ส่วนข้ออื่นนั้นไม่ถูกต้อง

- 1) ผิด เพราะ กล่าวถึงรูปลักษณ์ในบทข้างต้นก็จริง แต่เพียงยกมาเปรียบเทียบ
- 2) ผิด เพราะ กล่าวถึงชาติตระกูลในบทข้างต้นก็จริง แต่เพียงยกมาเปรียบเทียบ
- 3) ผิด เพราะ กล่าวถึงความรู้ความสามารถในบทข้างต้นก็จริง แต่เพียงยกมาเปรียบเทียบ

23. “...ศรีนครินเสียงครวญคราง ไม่สิ้นสร้างโศกหา
พื้นแผ่นดินพสุธา พรมน้ำตาตลอดไป...”

เหตุการณ์ข้อใดตรงกับความคิดหลักของคำประพันธ์ข้างต้น

- 1) โลกกำลังประสบกับความปั่นป่วนของธรรมชาติ
- 2) คนไทยทางภาคใต้ได้รับความรุนแรงของพายุฝน
- 3) วันที่ 13 ตุลาคม 2559 คนไทยประสบกับความสูญเสียอันยิ่งใหญ่
- 4) ประเทศญี่ปุ่นได้รับความเสียหายอย่างร้ายแรงจากภัยธรรมชาติ

เฉลย 3) วันที่ 13 ตุลาคม 2559 คนไทยประสบกับความสูญเสียอันยิ่งใหญ่

เพราะ ศรีนคริน หมายถึง ผู้เป็นใหญ่ในแผ่นดิน อีกทั้งในวันที่ 13 ตุลาคม 2559 ถือเป็น 1 ปีเสด็จสวรรคาลัย ในในหลวงรัชกาลที่ 9 พื้นแผ่นดินจึงนองไปด้วยน้ำตาของประชาชนชาวไทย ส่วนข้ออื่นนั้นไม่ถูกต้อง

- 1) ผิด เพราะ ถึงแม้ว่าในบทประพันธ์ จะปรากฏคำว่า พสุธา ที่แปลว่าพื้นดิน แต่องค์รวมของบทประพันธ์ไม่ได้หมายถึงภัยธรรมชาติ
- 2) ผิด เพราะ บทประพันธ์ไม่ได้กล่าวถึงคนไทยทางภาคใต้
- 4) ผิด เพราะ บทประพันธ์ไม่ได้กล่าวถึงประเทศญี่ปุ่น

24. ตอนใดเป็นใจความสำคัญของข้อความต่อไปนี้

(1) ปัจจุบันคนไทยมีชื่อเล่นเป็นฝรั่งกันเป็นจำนวนมากจนเรียกได้ว่าเป็นแฟชั่นอย่างหนึ่งในสังคมไทย / (2) พ่อแม่นิยมตั้งชื่อลูกให้ฟังดูเป็นฝรั่งโดยเอาอย่างชื่อคนดังในวงการบันเทิง / (3) ชื่อไทย ๆ กลายเป็นชื่อ หายากในหมู่เด็ก ๆ สมัยนี้และเป็นชื่อที่คนรุ่นใหม่คิดว่าเซย / (4) น่าเสียดายที่ชื่อเล่นภาษาไทยที่เรียกกันง่าย ๆ กำลังจะสูญหายไป เรา น่าจะหันกลับมาตั้งชื่อเล่นลูกหลานให้เป็นไทย ๆ

1) ตอนที่ (1)

2) ตอนที่ (2)

3) ตอนที่ (3)

4) ตอนที่ (4)

เฉลย 4) ตอนที่ (4)

ส่วนข้ออื่นนั้นไม่ใช่ใจความสำคัญของบทความ



25. “(1) ชาตไทยจะไพบูลย์ สิริพูนมทิมหันต์
(2) ก้าวหน้าประชาชนท์ ก็เพราะไทยทะนุถนอม
(3) รักชาติประเทศลัน ผิดตนจะตายก็ยอม
(4) ศัตรูมิจุยอม จะประยุทธิมิท้อมถอย”

จากบทประพันธ์ข้างต้นนักเรียนคิดว่าวรรคใดสำคัญที่สุด

1) วรรคที่ (1)

2) วรรคที่ (2)

3) วรรคที่ (3)

4) วรรคที่ (4)

เฉลย 2) วรรคที่ (2)

ส่วนข้ออื่นนั้นไม่ถูกต้อง

1) ผิด เพราะ เป็นผลจากการกระทำ

3) ผิด เพราะ กล่าวอ้างถึงความเสียสละ

4) ผิด เพราะ กล่าวอ้างถึงศัตรูที่เข้ามาทำลาย

26. คำคู่ใดเป็นคำไวพจน์

1) สุพรรณ - พนาสัณห์

2) หัสตินทร์ - มโนมัย

3) บุษบัน - สุกันธชาติ

4) ยุพเรศ - อุทุมพร

เฉลย 3) บุษบัน - สุกันธชาติ

เพราะ บุษบัน และ สุกันธชาติ แปลว่า ดอกไม้

ส่วนข้ออื่นนั้นไม่ถูกต้อง

1) ผิด เพราะ สุพรรณ แปลว่า ครุฑ และ พนาสัณห์ แปลว่า ป่า

2) ผิด เพราะ หัสตินทร์ แปลว่า ช้าง และ มโนมัย แปลว่า ม้า

4) ผิด เพราะ ยุพเรศ แปลว่า หญิงงาม และ อุทุมพร แปลว่า มะเดื่อ

27. ข้อใดเป็นบรรยายโวหาร

- | | |
|---------------------------------|--------------------------|
| 1) ลมระเริงสลู่หวิพลิวระลอก | สัพยอกยอดไม้ไปลิวล่อง |
| 2) หางนกยูงระย้าเรียคลอเคลียน้ำ | แพนดอกฉ่ำช้อยช่อวรวิจิตร |
| 3) พอใบไหวพลีกรักริกมา | ก็รู้ว่าวันนี้มีลมมาก |
| 4) ผีเสื้อสวยแต่มีสีที่ทึบแก้ม | ชมพูแยมแดงระยับสลับม่วง |

เฉลย 3) พอใบไหวพลีกรักริกมา ก็รู้ว่าวันนี้มีลมมาก

ส่วนข้ออื่น 1), 2) และ 4) เป็นพรรณนาโวหาร

28. “...สูงระหงทรงเพรียวเรียวยรุุด งามละม้ายคล้ายอุฐกะหลาป่า
พิศแต่หัวตลอดเท้าขาวแต่ตา ทั้งสองแก้มก็คล้ายดังลูกยอ
คิ้วก่งเหมือนกงเขาติดฝ้าย จมูกละม้ายคล้ายพริ้าขอ
ทูลงดวงพักตร์หักงอ ลำคอโตตันสั้นกลม...”

จากบทประพันธ์ข้างต้น ต้องการสื่อด้วยน้ำเสียงลักษณะใด

- 1) ล้อเลียน 2) กระเช้าเข้าเหย๋ 3) เย้ยหยันถากถาง 4) เศร้าโศกสลด

เฉลย 1) ล้อเลียน

เพราะ บทประพันธ์ข้างต้น เป็นการพรรณนาความงามแบบแหกขนบ ซึ่งเป็นการชมความงามของนางประแดะจาก เรื่อง ระเด่นลันได ผู้ประพันธ์แต่งบทประพันธ์นี้ให้มีความขบขัน และล้อเลียนให้มีความตรงข้ามกับความงามของนางประไหมสุหรีซึ่งมีความงามตามขนบของนางในวรรณคดีนั่นเอง

29. “คำว่า ท่าน เป็นคำสูง ใช้กับคนสูง คนไทยเป็นคนรู้จักที่สูงที่ต่ำ จึงรู้จักเลือกคำสูง และคำต่ำ มาใช้อย่างเหมาะสม คนต่ำใช้คำสูงมากๆ ท่านว่าข้าก็ลากจะกินกบาล คบสูงก็ไม่ใช้คำต่ำมากๆ เพราะไม่เป็นมงคลแก่ปาก ผิดกับนักการเมืองสมัยนี้ ในสภาพที่มีเกียรติ นักการเมืองที่เราเรียกขานกันด้วยคำว่า ท่าน กลับใช้คำต่ำ และกิริยาท่าทางต่างๆ ยิ่งกว่าที่ชาวบ้านเขาพูดกัน เพราะโลกธรรม และมิจณาธิฐิ ที่แฝงอยู่ในผลักดัน ภาพที่ปรากฏ จึงเหมือน กระเบื้องอยากเพื่องฟูลอย แม้จะใช้คำเรียกสูง สักเพียงใส่ก็คงเป็น กระเบื้องอยู่นั่นเอง”

ผู้เขียนมีจุดประสงค์ในการเขียนตามข้อใด

- 1) เสียดสีนักการเมือง ที่ไม่ประพฤติตามทำนองคลองธรรม
- 2) อธิบายปรากฏการณ์การใช้ภาษา ของนักการเมืองปัจจุบัน
- 3) เปรียบเทียบพฤติกรรม และจริยธรรม ของนักการเมืองกับชาวบ้าน
- 4) ชี้แจงให้เกิดความเข้าใจในการใช้ภาษา ให้เหมาะสมแก่สถานภาพ และฐานะของบุคคล

เฉลย 1) เสียดสีนักการเมือง ที่ไม่ประพฤติตามทำนองคลองธรรม

เพราะ ผู้เขียนต้องการเสียดสีพฤติกรรมของนักการเมือง เนื่องจากยกตัวเองให้เป็นผู้สูงศักดิ์ แต่กริยา การกระทำที่ปรากฏแก่สายตาประชาชนล้วนไม่เหมาะสม

ส่วนข้ออื่นนั้นไม่ถูกต้อง

2) ผิด เพราะ ผู้เขียนไม่ได้กล่าวการใช้ภาษาของนักการเมือง

3) ผิด เพราะ ผู้เขียนไม่ได้เปรียบเทียบพฤติกรรมของชาวบ้านกับนักการเมือง เพียงแค่ยกมาเปรียบเปรยเท่านั้น

4) ผิด เพราะ ชี้แจงให้เข้าใจการใช้ภาษาให้เหมาะสมกับสถานภาพที่มีส่วนถูกอยู่ แต่เนื่องจากในบทสรุป ผู้เขียนได้เจาะจงเปรียบเทียบกระเบื้องกับนักการเมืองโดยตรง ทำให้การชี้แจงในข้อสี่นี้ เป็นเพียงส่วนประกอบเท่านั้น

30. "ความรู้ นั้น ไม่มีที่สิ้นสุด ถ้านึกว่ารู้ แล้วหยุดอยู่เพียงแค่นั้น ก็หมายความว่า ยังไม่รู้ ถ้าจะรู้ก็เป็นเพียงรู้จำมากกว่ารู้จริง ถ้าเมื่อใดนึกว่ายังไม่รู้ ก็พยายามเรียนต่อให้มีความก้าวหน้าอยู่เสมอ ก็หมายความว่า อินทรีย์แก่กล้าเป็นผู้รู้เมื่อนั้น คือรู้แค่ขั้นที่ได้เรียน รู้เหนือขั้นขึ้นไป ก็ยังมีอีกมาก มีลักษณะอย่างเดียวกับขั้นระดับ ประถม มัธยม และอุดม ฉะนั้นแม้รู้ถึงขั้นอุดมแล้ว ก็ยังมีอีกที่สูงขึ้นไป เป็นขั้นๆ ไม่สิ้นสุด จนเมื่อใดลูถึงขั้น "รู้ตนเอง" เมื่อนั้นก็ไม่ต้องเรียนอะไรอีก คราวนี้ไม่ใช่จะรู้จำ และรู้จริง เท่านั้น แต่ยังรู้แจ้งด้วย"

ข้อความข้างต้นควรตั้งชื่อว่าอะไร

1) แก่นแห่งความรู้

2) วิธีแห่งการเรียนรู้

3) หัวใจกับการเรียนรู้

4) การรู้แจ้งคือการรู้ตัว

เฉลย 4) การรู้แจ้งคือการรู้ตัว

เพราะ การรู้แจ้งคือการรู้ตัว สอดคล้องกับบทสรุปที่ว่า "จนเมื่อใดลูถึงขั้น "รู้ตนเอง" เมื่อนั้นก็ไม่ต้องเรียนอะไรอีก คราวนี้ไม่ใช่จะรู้จำ และรู้จริง เท่านั้น แต่ยังรู้แจ้งด้วย"

ส่วนข้อ 1) แก่นแห่งความรู้, ข้อ 2) วิธีแห่งการเรียนรู้ และข้อ 3) หัวใจกับการเรียนรู้ เป็นเพียงองค์ประกอบในบทความนี้ จึงไม่ควรนำมาตั้งชื่อ



ข้อสอบเข้า ม.1 วิชาสังคมศึกษา

ชุดที่ 3

14. หลักปรัชญาของเศรษฐกิจพอเพียงสำหรับเกษตรกร หมายถึงการปฏิบัติตามแนวพระราชดำริ เรื่อง การเกษตรทฤษฎีใหม่ ส่งผลดีต่อเกษตรกรในด้านใด

- 1) นำความรู้สมัยใหม่มาใช้
- 2) มีรายได้สม่ำเสมอ เลี้ยงตนเองได้
- 3) มีผลผลิตสูง ส่งเป็นสินค้าออกได้
- 4) เป็นเกษตรกรก้าวหน้า มีรายได้สูง

เฉลย 2) มีรายได้สม่ำเสมอ เลี้ยงตนเองได้

การเกษตรทฤษฎีใหม่ เป็นแนวคิดที่เกี่ยวข้องกับการจัดการที่ดินเพื่อการอยู่อาศัยและมีชีวิตอย่างยั่งยืน รวมทั้งให้เกษตรกรมีรายได้ที่สม่ำเสมอ และสามารถเลี้ยงตนเองได้

15. “ราคาสินค้าในประเทศเวเนซุเอลาเพิ่มสูงขึ้น คนอดอยากหิวโห้ล้ภัยไปยังบราซิล” จากข้อความนี้ สะท้อนปัญหาทางการเงินอย่างไร

- 1) ภาวะเงินฝืด
- 2) ภาวะเงินเฟ้อ
- 3) ภาวะเงินเกินดุล
- 4) ภาวะเงินขาดดุล

เฉลย 2) ภาวะเงินเฟ้อ

ภาวะเงินเฟ้อ คือ การที่ระดับราคาสินค้าหรือบริการในระยะเวลาหนึ่งสูงขึ้นเรื่อย ๆ อย่างต่อเนื่อง เมื่อราคาสินค้าสูงขึ้น เงินตราหนึ่งหน่วยจึงสามารถซื้อสินค้าและบริการได้น้อยลง ดังนั้นคนที่อดอยากอาจล้ภัยไปประเทศที่เศรษฐกิจดีกว่าได้

16. ภาวะเศรษฐกิจฟองสบู่ หมายถึงข้อใด

- 1) ผู้ประกอบการเข้ามาลงทุนจำนวนมากเพื่อเก็งกำไร
- 2) ผู้ประกอบการมุ่งเน้นผลิตสินค้าที่เหมาะสมกับต้นทุนการผลิต
- 3) ผู้ประกอบการหันไปลงทุนภาคเกษตรมากขึ้นเพื่อกระจายโครงสร้างการผลิต
- 4) ผู้ประกอบการระดมทุนเข้ามาลงทุนในสังคมชนบทที่เน้นความใกล้ชิดธรรมชาติ

เฉลย 1) ผู้ประกอบการเข้ามาลงทุนจำนวนมากเพื่อเก็งกำไร

ภาวะเศรษฐกิจฟองสบู่ หมายถึง ภาวะที่ราคาของสินทรัพย์ เช่น อสังหาริมทรัพย์หรือหน่วยลงทุนต่าง ๆ เพิ่มขึ้นสูงเกินกว่าราคาตามความเป็นจริง จนเกิดอุปสงค์เทียมจากการเก็งกำไรที่ทำให้ราคาเพิ่มสูงขึ้นไปเรื่อย ๆ เป็นวงจร และขยายตัวเหมือนฟองสบู่



17. สหกรณ์ประเภทใดเปิดกว้างให้ผู้ประกอบอาชีพใดก็ได้เข้ามาเป็นสมาชิก

- | | |
|-----------------|--------------------|
| 1) สหกรณ์นิคม | 2) สหกรณ์ร้านค้า |
| 3) สหกรณ์บริการ | 4) สหกรณ์ออมทรัพย์ |

เฉลย 2) สหกรณ์ร้านค้า

สหกรณ์ร้านค้า จัดตั้งขึ้นเพื่อจัดหาสินค้า เครื่องอุปโภคบริโภคมาจำหน่ายแก่สมาชิกและบุคคลทั่วไป ดังนั้นจึงเปิดกว้างให้ผู้ประกอบอาชีพใดก็ได้เข้ามาเป็นสมาชิก

18. ตามหลักเศรษฐศาสตร์ ร้าน 7-Eleven จัดเป็นหน่วยเศรษฐกิจในข้อใด

- | | |
|-------------------|----------------|
| 1) หน่วยรัฐบาล | 2) หน่วยธุรกิจ |
| 3) หน่วยครัวเรือน | 4) หน่วยเอกชน |

เฉลย 2) หน่วยธุรกิจ

ร้าน 7-Eleven เป็นการที่กลุ่มบุคคลทำหน้าที่เอาปัจจัยการผลิตต่าง ๆ มาผสมผสานผลิตเป็นสินค้าหรือบริการแล้วนำไปขายให้แก่ผู้บริโภค โดยมีเป้าหมายคือ แสวงหากำไรสูงสุด หรือมีส่วนแบ่งการตลาดมากที่สุดในธุรกิจนั้น

19. ข้อใดต่อไปนี้ใกล้เคียงกับบทบาทหรือฐานะของพระมหากษัตริย์ในสมัยกรุงศรีอยุธยามากที่สุด

- 1) ทรงมีฐานะเป็นพ่อเมือง และเสด็จเยี่ยมราษฎรอย่างใกล้ชิดอยู่เสมอ
- 2) ทรงมีฐานะเป็นเจ้าของชีวิต แต่มอบอำนาจในการสั่งประหารชีวิตให้เป็นของคณะลูกขุน
- 3) ทรงมีฐานะเป็นเทวราชา ทุกสิ่งทุกอย่างในแผ่นดินขึ้นอยู่กับการตัดสินใจของพระมหากษัตริย์
- 4) ทรงมีพระราชอำนาจสูงสุดแต่เพียงในนาม แต่ผู้มีอำนาจสูงสุดที่แท้จริงคือสมุหนายกและสมุหกลาโหม

เฉลย 3) ทรงมีฐานะเป็นเทวราชา ทุกสิ่งทุกอย่างในแผ่นดินขึ้นอยู่กับมติของพระมหากษัตริย์

บทบาทของกษัตริย์ทรงเป็นสมมติเทพ มีอำนาจสูงสุดในการปกครอง เรียกว่า การปกครองแบบสมบูรณาญาสิทธิราชย์ เช่น การเข้าเฝ้ากษัตริย์ต้องหมอบคลาน ห้ามมองพระพักตร์พระมหากษัตริย์ ทำให้ความสัมพันธ์ระหว่างกษัตริย์กับประชาชนห่างเหิน

20. ในช่วงระหว่างปี พ.ศ.1991 - พ.ศ.2031 ที่สมเด็จพระบรมไตรโลกนาถทรงขึ้นครองราชย์ ตรงกับคริสต์ศตวรรษใด

- | | |
|-----------------------|-----------------------|
| 1) คริสต์ศตวรรษที่ 14 | 2) คริสต์ศตวรรษที่ 16 |
| 3) คริสต์ศตวรรษที่ 18 | 4) คริสต์ศตวรรษที่ 20 |

เฉลย 4) คริสต์ศตวรรษที่ 20

คริสต์ศตวรรษที่ 20 อยู่ระหว่างปี พ.ศ.1901 – 2000 ดังนั้นสมเด็จพระบรมไตรโลกนาถทรงขึ้นครองราชย์ตรงกับคริสต์ศตวรรษที่ 20

21. จากกระแสละครบุพเพสันนิวาส ทำให้เกิดการเรียนรู้เรื่องราวประวัติศาสตร์ในสมัยกรุงศรีอยุธยามากขึ้น นักเรียนสามารถตามรอยประวัติศาสตร์จากละครเรื่องนี้ได้จากแหล่งเรียนรู้ทางประวัติศาสตร์สมัยกรุงศรีอยุธยาต่อไปนี้ได้ ยกเว้นข้อใด

- | | |
|-------------------|-----------------------|
| 1) ศาลพระกาฬ | 2) ตลาดดินสอ |
| 3) วัดไชยวัฒนาราม | 4) ป้อมวิไชยประสิทธิ์ |

เฉลย 1) ศาลพระกาฬ

ศาลพระกาฬ เป็นเทวสถานขอมเก่าแก่ที่สร้างด้วยศิลาแดง และสันนิษฐานว่ามีเทวรูปพระนารายณ์ยืนทำด้วยศิลา ซึ่งเป็นประติมากรรมแบบลพบุรี จึงไม่เกี่ยวข้องกับกรุงศรีอยุธยา

22. นายเกิด อายุ 40 ปี เป็นชาวนาเมืองสุพรรณในสมัยกรุงธนบุรี หลบเลี่ยงไม่เข้าเวรรับราชการ และไม่ส่งเงินหรือสิ่งของทดแทนการขาดราชการของตน จึงถูกจับและลงโทษ ถามว่านายเกิดมีความผิดฐานไม่จ่ายเงินภาษีประเภทใด

- | | | | |
|---------|--------|---------|---------|
| 1) จกอบ | 2) ฤชา | 3) ส่วย | 4) อากร |
|---------|--------|---------|---------|

เฉลย 3) ส่วย

ส่วย คือ สิ่งของหรือเงินที่ไพร่หลวงจ่ายให้รัฐทดแทนการถูกเกณฑ์มาทำงาน ส่วนข้ออื่นนั้นไม่ถูกต้อง

- 1) ผิด เพราะ จกอบ คือ ค่าผ่านด่านขนอนทั้งทางบกและทางน้ำ
- 2) ผิด เพราะ ฤชา คือ เงินค่าธรรมเนียมที่รัฐเรียกเก็บจากการให้บริการจากราชการ
- 4) ผิด เพราะ อากร คือ เงินที่รัฐเรียกเก็บจากราษฎรที่ประกอบอาชีพได้

23. ข้อใดกล่าวถึงพระราชกรณียกิจของพระมหากษัตริย์แห่งราชวงศ์จักรี ไม่สอดคล้องกัน

- 1) รัชกาลที่ 1 : ขุดคลองรอบกรุง พระราชนิพนธ์นิราศทำดินแดง
- 2) รัชกาลที่ 4 : สร้างเสาหลักเมืองขึ้นใหม่ จัดทำสนธิสัญญาเบาว์ริง
- 3) รัชกาลที่ 5 : จัดตั้งหอรัษฎากรพิพัฒน์และโรงเรียนวัดมหรธรรพาราม
- 4) รัชกาลที่ 6 : จัดตั้งดุสิตธานี และนำสยามเข้าร่วมสงครามโลกครั้งที่ 2

เฉลย 4) รัชกาลที่ 6 : จัดตั้งดุสิตธานี และนำสยามเข้าร่วมสงครามโลกครั้งที่ 2

รัชกาลที่ 6 นำสยามเข้าร่วมกับฝ่ายสัมพันธมิตร (อังกฤษ ฝรั่งเศส รัสเซีย) ในการทำสงครามโลกครั้งที่ 1 ส่วนสงครามโลกครั้งที่ 2 อยู่ในสมัยรัชกาลที่ 8

